

БИЛЕТ № 1

Вопрос 1

В каком случае водитель совершит вынужденную остановку?

1. Остановившись непосредственно перед пешеходным переходом, чтобы уступить дорогу пешеходу.
2. Остановившись на проезжей части из-за технической неисправности транспортного средства.
3. В обоих перечисленных случаях.



Вопрос 2

Разрешен ли вам съезд на дорогу с грунтовым покрытием?

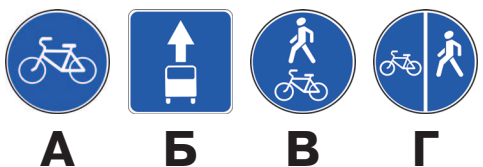
1. Разрешен.
2. Разрешен только при технической неисправности транспортного средства.
3. Запрещен.



Вопрос 3

Можно ли вам остановиться в указанном месте для посадки пассажира?

1. Можно.
2. Можно, если вы управляете такси.
3. Нельзя.



А

Б

В

Г

Вопрос 4

Какие из указанных знаков запрещают движение водителям мопедов?

1. Только А.
2. Только Б.
3. В и Г.
4. Все.



Вопрос 5

Вы намерены повернуть налево. Где следует остановиться, чтобы уступить дорогу легковому автомобилю?

1. Перед знаком.
2. Перед перекрестком у линии разметки.
3. На перекрестке перед прерывистой линией разметки.
4. В любом месте по усмотрению водителя.

БИЛЕТ № 1

Вопрос 6

Что означает мигание зеленого сигнала светофора?

1. Предупреждает о неисправности светофора.
2. Разрешает движение и информирует о том, что вскоре будет включен запрещающий сигнал.
3. Запрещает дальнейшее движение.

Вопрос 7

Водитель обязан подавать сигналы световыми указателями поворота (рукой):

1. Перед началом движения или перестроением.
2. Перед поворотом или разворотом.
3. Перед остановкой.
4. Во всех перечисленных случаях.



Вопрос 8

Как вам следует поступить при повороте направо?


1. Перестроиться на правую полосу, затем осуществить поворот.
2. Продолжить движение по второй полосе до перекрестка, затем повернуть.
3. Возможны оба варианта действий.



Вопрос 9

По какой траектории вам разрешено выполнить разворот?

1. Только по А.
2. Только по Б.
3. По любой из указанных.



Вопрос 10

С какой скоростью вы можете продолжить движение вне населенного пункта по левой полосе на легковом автомобиле?

1. Не более 50 км/ч.
2. Не менее 50 и не более 70 км/ч.
3. Не менее 50 и не более 90 км/ч.

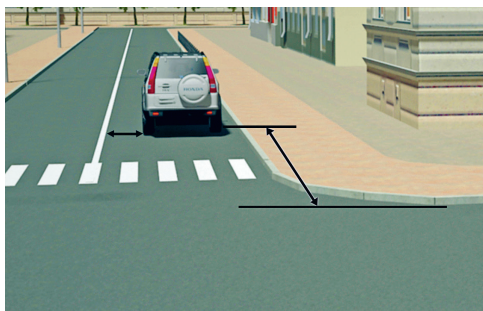
БИЛЕТ № 1



Вопрос 11

Можно ли водителю легкового автомобиля выполнить опережение грузовых автомобилей вне населенного пункта по такой траектории?

1. Можно.
2. Можно, если скорость грузовых автомобилей менее 30 км/ч.
3. Нельзя.



Вопрос 12

В каком случае водителю разрешается поставить автомобиль на стоянку в указанном месте?


1. Только если расстояние до сплошной линии разметки не менее 3 м.
2. Только если расстояние до края пересекаемой проезжей части не менее 5 м.
3. При соблюдении обоих перечисленных условий.



Вопрос 13

При повороте направо вы должны уступить дорогу:

1. Только велосипедисту.
2. Только пешеходам.
3. Пешеходам и велосипедисту.
4. Никому.



Вопрос 14

Вы намерены проехать перекресток в прямом направлении. Кому следует уступить дорогу?

1. Обоим трамваям.
2. Только трамваю А.
3. Только трамваю Б.
4. Никому.



Вопрос 15

Кому вы обязаны уступить дорогу при повороте налево?

1. Только автобусу.
2. Только легковому автомобилю.
3. Никому.

БИЛЕТ № 1



Вопрос 16

С какой максимальной скоростью можно продолжить движение за знаком?

1. 60 км/ч.
2. 50 км/ч.
3. 30 км/ч.
4. 20 км/ч.

Вопрос 17

Для перевозки людей на мотоцикле водитель должен иметь водительское удостоверение на право управления транспортными средствами:

1. Категории «А» или подкатегории «А1».
2. Любой категории или подкатегории в течение двух и более лет.
3. Только категории «А» или подкатегории «А1» в течение двух и более лет.

Вопрос 18

При какой неисправности разрешается эксплуатация транспортного средства?

1. Не работают запорные устройства топливных баков.
2. Не работают механизм регулировки и фиксирующее устройство сиденья водителя.
3. Не работает устройство обдува ветрового стекла.
4. Не работает стеклоподъемник.

Вопрос 19

В случае, когда правые колеса автомобиля наезжают на неукрепленную влажную обочину, рекомендуется:

1. Затормозить и полностью остановиться.
2. Затормозить и плавно направить автомобиль на проезжую часть.
3. Не прибегая к торможению, плавно направить автомобиль на проезжую часть.

Вопрос 20

Что понимается под временем реакции водителя?

1. Время с момента обнаружения водителем опасности до полной остановки транспортного средства.
 2. Время с момента обнаружения водителем опасности до начала принятия мер по ее избежанию.
 3. Время, необходимое для переноса ноги с педали управления подачей топлива на педаль тормоза.
-

БИЛЕТ № 2



Вопрос 1

Сколько полос для движения имеет данная дорога?

1. Две.
2. Четыре.
3. Пять.



Вопрос 2

Можно ли вам въехать на мост первым?

1. Можно.
2. Можно, если вы не затрудните движение встречному автомобилю.
3. Нельзя.



Вопрос 3

Разрешено ли вам произвести остановку для посадки пассажира?

1. Разрешено.
2. Разрешено только по четным числам месяца.
3. Разрешено только по нечетным числам месяца.
4. Запрещено.



Вопрос 4

Что запрещено в зоне действия этого знака?

1. Движение любых транспортных средств.
2. Движение всех транспортных средств со скоростью не более 20 км/ч.
3. Движение механических транспортных средств.



Вопрос 5


Разрешен ли вам выезд на полосу с реверсивным движением, если реверсивный светофор выключен?

1. Разрешен.
2. Разрешен, если скорость автобуса менее 30 км/ч.
3. Запрещен.

БИЛЕТ № 2

Вопрос 6

Информационная световая секция в виде силуэта пешехода и стрелки с мигающим сигналом белолунного цвета, расположенная под светофором, информирует водителя о том, что:



1. На пешеходном переходе, в направлении которого он поворачивает, включен сигнал светофора, разрешающий движение пешеходам.
2. На пешеходном переходе, в направлении которого он поворачивает, включен сигнал светофора, запрещающий движение пешеходам.
3. Он поворачивает в направлении пешеходного перехода.



Вопрос 7

Поднятая вверх рука водителя легкового автомобиля является сигналом, информирующим вас о его намерении:

1. Повернуть направо.
2. Продолжить движение прямо.
3. Снизить скорость, чтобы остановиться и уступить дорогу мотоциклу.

Вопрос 8

Двигаясь по левой полосе, вы намерены перестроиться на правую. На каком из рисунков показана ситуация, в которой вы обязаны уступить дорогу?

1. На левом.
2. На правом.
3. На обоих.



Вопрос 9

Можно ли вам выполнить разворот в этом месте?

1. Можно.
2. Можно только при отсутствии приближающегося поезда.
3. Нельзя.

Вопрос 10

В каких случаях разрешается наезжать на прерывистые линии разметки, разделяющие проезжую часть на полосы движения?

1. Только если на дороге нет других транспортных средств.
2. Только при движении в темное время суток.
3. Только при перестроении.
4. Во всех перечисленных случаях.

БИЛЕТ № 2



Вопрос 11

Разрешено ли вам обогнать мотоцикл?

1. Разрешено.
2. Разрешено, если водитель мотоцикла снизил скорость.
3. Запрещено.



Вопрос 12

Разрешается ли вам остановиться в указанном месте?

1. Разрешается.
2. Разрешается, если автомобиль будет находиться не ближе 5 м от края пересекаемой проезжей части.
3. Запрещается.



Вопрос 13

Вы намерены повернуть налево. Кому вы должны уступить дорогу?

1. Только пешеходам.
2. Только автобусу.
3. Автобусу и пешеходам.



Вопрос 14

В каком случае вы имеете преимущество?

1. Только при повороте направо.
2. Только при повороте налево.
3. В обоих перечисленных случаях.

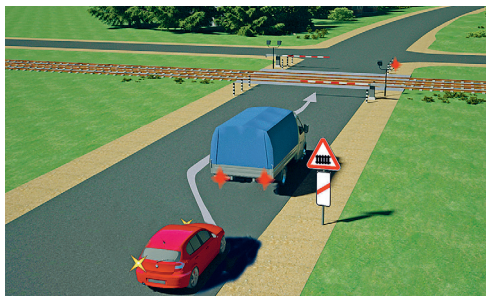


Вопрос 15

Обязан ли водитель мотоцикла уступить вам дорогу?

1. Обязан.
2. Не обязан.

БИЛЕТ № 2



Вопрос 16

Разрешается ли водителю выполнить объезд грузового автомобиля?

1. Разрешается.
2. Разрешается, если расстояние между шлагбаумом и остановившимся грузовым автомобилем более 5 м.
3. Запрещается.

Вопрос 17

В каких из перечисленных случаев запрещена буксировка на гибкой сцепке?

1. Только на горных дорогах.
2. Только в гололедицу.
3. Только в темное время суток и в условиях недостаточной видимости.
4. Во всех перечисленных случаях.

Вопрос 18

Запрещается эксплуатация мототранспортных средств (категории L), если остаточная глубина рисунка протектора шин (при отсутствии индикаторов износа) составляет не более:

1. 0,8 мм.
2. 1,0 мм.
3. 1,6 мм.
4. 2,0 мм.

Вопрос 19

Исключает ли антиблокировочная тормозная система возможность возникновения заноса или сноса при прохождении поворота?


1. Полностью исключает возможность возникновения только заноса.
2. Полностью исключает возможность возникновения только сноса.
3. Не исключает возможность возникновения сноса или заноса.

Вопрос 20

В каких случаях следует начинать сердечно-легочную реанимацию пострадавшего?

1. При наличии болей в области сердца и затрудненного дыхания.
 2. При отсутствии у пострадавшего сознания, независимо от наличия дыхания.
 3. При отсутствии у пострадавшего сознания, дыхания и кровообращения.
-

БИЛЕТ № 3



Вопрос 1

Выезжая с грунтовой дороги на перекресток, вы попадаете:

1. На главную дорогу.
2. На равнозначную дорогу, поскольку отсутствуют знаки приоритета.
3. На равнозначную дорогу, поскольку проезжая часть имеет твердое покрытие перед перекрестком.



Вопрос 2

Где вы должны остановиться?

1. Перед знаком (А).
2. Перед перекрестком (Б).
3. Перед краем пересекаемой проезжей части (В).



Вопрос 3

Вам необходимо двигаться со скоростью не более 40 км/ч:

1. Только во время дождя.
2. Во время выпадения осадков (дождя, града, снега).
3. Во всех случаях, когда покрытие проезжей части влажное.



Вопрос 4

Какой из указанных знаков устанавливается в начале дороги с односторонним движением?

1. Только А.
2. Только Б.
3. Б или Г.
4. Б или В.



Вопрос 5

Можно ли вам остановиться в этом месте для посадки или высадки пассажиров?

1. Можно.
2. Можно, если при этом не будут созданы помехи движению маршрутных транспортных средств.
3. Нельзя.

БИЛЕТ № 3



Вопрос 6

При повороте направо вы:

1. Имеете право проехать перекресток первым.
2. Должны уступить дорогу только пешеходам.
3. Должны уступить дорогу автомобилю с включенными проблесковым маячком и специальным звуковым сигналом, а также пешеходам.

Вопрос 7

В каких случаях водитель не должен подавать сигнал указателями поворота?

1. Только при отсутствии на дороге других участников движения.
2. Только если сигнал может ввести в заблуждение других участников движения.
3. В обоих перечисленных случаях.



Вопрос 8

Вам разрешено выполнить поворот направо:

1. Только по траектории А.
2. Только по траектории Б.
3. По любой траектории из указанных.



Вопрос 9

Разрешается ли вам выполнить разворот на перекрестке по указанной траектории?

1. Разрешается.
2. Разрешается, если видимость дороги не менее 100 м.
3. Запрещается.



Вопрос 10

По какой полосе вы имеете право двигаться с максимальной разрешенной скоростью вне населенных пунктов?


1. Только по правой.
2. Только по левой.
3. По любой.

БИЛЕТ № 3

Вопрос 11

В каком случае водитель может начать обгон, если такой маневр на данном участке дороги не запрещен?

1. Только если полоса, предназначенная для встречного движения, свободна на достаточном для обгона расстоянии.
2. Только если его транспортное средство никто не обгоняет.
3. В случае, если выполнены оба условия.



Вопрос 12

Кто из водителей нарушил правила стоянки?


1. Оба.
2. Только водитель автомобиля.
3. Только водитель мотоцикла.
4. Никто не нарушил.



Вопрос 13

При движении прямо вы:

1. Должны остановиться перед стоп-линией.
2. Можете продолжить движение через перекресток без остановки.
3. Должны уступить дорогу транспортным средствам, движущимся с других направлений.



Вопрос 14

Вы намерены повернуть направо. Ваши действия?

1. Проедете перекресток первым.
2. Уступите дорогу легковому автомобилю.
3. Уступите дорогу обоим транспортным средствам.



Вопрос 15

Кому вы обязаны уступить дорогу при повороте налево?

1. Трамваям А и Б.
2. Трамваю А и легковому автомобилю.
3. Только трамваю А.
4. Никому.

БИЛЕТ № 3



Вопрос 16

Кто из водителей нарушил правила остановки?

1. Только водитель легкового автомобиля.
2. Только водитель грузового автомобиля.
3. Оба.

Вопрос 17

Какое оборудование должно иметь механическое транспортное средство, используемое для обучения вождению?

1. Дополнительные педали привода сцепления (кроме транспортных средств с автоматической трансмиссией) и тормоза.
2. Зеркало заднего вида для обучающего вождению.
3. Оповестительные знаки «Учебное транспортное средство».
4. Все перечисленное оборудование.

Вопрос 18

В каких случаях запрещается эксплуатация мотоцикла?

1. Подножки или рукоятки пассажиров на седле не имеют прорезиненного покрытия.
2. Имеется люфт в соединениях рамы мотоцикла с рамой бокового прицепа.
3. Отсутствует огнетушитель.

Вопрос 19

На повороте возник занос задней оси переднеприводного автомобиля. Ваши действия?

1. Уменьшите подачу топлива, рулевым колесом стабилизируете движение.
2. Притормозите и повернете рулевое колесо в сторону заноса.
3. Слегка увеличите подачу топлива, корректируя направление движения рулевым колесом.
4. Значительно увеличите подачу топлива, не меняя положения рулевого колеса.

Вопрос 20

Какие сведения необходимо сообщить диспетчеру для вызова скорой медицинской помощи при дорожно-транспортном происшествии (ДТП)?

1. Указать общеизвестные ориентиры, ближайшие к месту ДТП. Сообщить о количестве пострадавших, указать пол и возраст.
2. Указать улицу и номер дома, ближайшего к месту ДТП. Сообщить, кто пострадал в ДТП (пешеход, водитель автомобиля или пассажиры), и описать травмы, которые они получили.
3. Указать место ДТП (назвать улицу, номер дома и общеизвестные ориентиры, ближайшие к месту ДТП). Сообщить: количество пострадавших, их пол, примерный возраст, наличие у них сознания, дыхания, кровообращения, а также сильного кровотечения, переломов и других травм. Дождаться сообщения диспетчера о том, что вызов принят.

БИЛЕТ № 4



Вопрос 1

Сколько полос для движения имеет проезжая часть данной дороги?

1. Одну полосу.
2. Две полосы.
3. Три полосы.



Вопрос 2

Эти знаки предупреждают вас:

1. О наличии через 500 м опасных поворотов.
2. О том, что на расстоянии 150–300 м за дорожным знаком начнется участок дороги протяженностью 500 м с опасными поворотами.
3. О том, что сразу за знаком начнет участок протяженностью 500 м с опасными поворотами.



Вопрос 3

Какой из указанных знаков распространяет свое действие только на ту полосу, над которой он установлен?

1. Только А.
2. Только Б.
3. Б и В.



Вопрос 4

Вы буксируете неисправный автомобиль. По какой полосе вам можно продолжить движение в населенном пункте?

1. Только по правой.
2. Только по левой.
3. По любой.

Вопрос 5

Что означает разметка в виде надписи «СТОП» на проезжей части?

1. Предупреждает о приближении к стоп-линии перед регулируемым перекрестком.
2. Предупреждает о приближении к стоп-линии и знаку «Движение без остановки запрещено».
3. Предупреждает о приближении к знаку «Уступите дорогу».

БИЛЕТ № 4



Вопрос 6

Каким транспортным средствам разрешено движение прямо?


1. Только грузовому автомобилю.
2. Легковому и грузовому автомобилям.
3. Грузовому автомобилю и автобусу.
4. Всем перечисленным транспортным средствам.



Вопрос 7

Вы намерены продолжить движение по главной дороге. Обязаны ли вы при этом включить указатели правого поворота?

1. Обязаны.
2. Обязаны только при наличии движущегося сзади транспортного средства.
3. Не обязаны.



Вопрос 8

Кто обязан уступить дорогу?

1. Водитель грузового автомобиля.
2. Водитель легкового автомобиля.



Вопрос 9

Вам можно выполнить разворот:


1. Только по траектории А.
2. Только по траектории Б.
3. По любой траектории из указанных.

Вопрос 10

По какой полосе проезжей части разрешено движение в населенном пункте, если по техническим причинам транспортное средство не может развивать скорость более 40 км/ч?

1. Только по крайней правой.
2. Не далее второй полосы.
3. По любой, кроме крайней левой.

БИЛЕТ № 4



Вопрос 11

Разрешено ли вам обогнать мотоцикл?

1. Разрешено.
2. Разрешено только после проезда перекрестка.
3. Запрещено.



Вопрос 12

Разрешается ли вам остановка для посадки пассажира в этом месте?

1. Разрешается.
2. Разрешается, если при этом не будут созданы помехи для движения маршрутных транспортных средств.
3. Запрещается.



Вопрос 13

Вы намерены проехать перекресток в прямом направлении. Ваши действия?

1. Проедете перекресток первым.
2. Уступите дорогу только встречному автомобилю.
3. Уступите дорогу только автомобилю с включенными проблесковым маячком и специальным звуковым сигналом.
4. Уступите дорогу обоим транспортным средствам.



Вопрос 14

Кому вы должны уступить дорогу при повороте направо?

1. Только пешеходу, переходящему проезжую часть по нерегулируемому пешеходному переходу.
2. Только пешеходам, переходящим проезжую часть, на которую вы поворачиваете.
3. Всем пешеходам.



Вопрос 15

Как вам следует поступить при выполнении разворота?

1. Проехать перекресток первым.
2. Уступить дорогу только легковому автомобилю.
3. Уступить дорогу обоим транспортным средствам.