

Меня зовут \_\_\_\_\_

Сколько тебе лет, где учишься, какой школьный предмет самый любимый?

\_\_\_\_\_

Много ли у тебя друзей? Что вы больше всего любите делать вместе? \_\_\_\_\_

\_\_\_\_\_

Расскажи о своей семье. \_\_\_\_\_

\_\_\_\_\_

Ты интересуешься наукой? Любишь узнавать новое и проводить опыты?

\_\_\_\_\_

**Отлично! Я думаю, мы обязательно подружмся!**



Найди среди букв слова из списка.  
Они расположены по горизонтали,  
вертикали, диагонали и задом  
наперёд.

**Наука**  
**Пробирка**  
**Эксперимент**  
**Микроскоп**

**Лаборатория**  
**Химия**  
**Учёный**  
**Раствор**




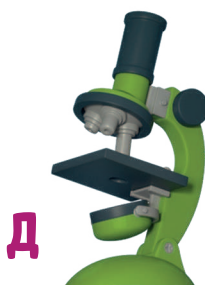
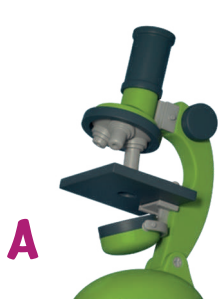
М	И	Я	Л	Е	Н	Т	Х	И	М	К	Й
Э	П	И	А	Р	В	Ё	Н	У	О	Р	Ы
К	Ч	О	Б	И	М	Х	Н	Т	Э	К	Н
С	П	Р	О	Б	И	Р	К	А	В	А	Ё
П	Ы	У	Р	В	Т	Ё	К	А	У	Т	Ч
Е	Й	Т	А	П	Э	К	С	П	Е	К	У
Р	И	Ё	Т	Р	А	С	Т	В	О	Р	А
И	К	Н	О	К	Й	Ы	М	П	М	А	О
М	И	К	Р	О	С	К	О	П	Ё	К	Р
Е	Х	Ы	И	Б	Р	О	Ч	И	М	И	Э
Н	А	Й	Я	Э	М	У	Н	Ы	Й	У	Т
Т	Б	Ч	О	К	А	Я	И	М	И	Х	Ё



Помоги Гене найти дорогу, которая приведёт к научно-исследовательскому центру.



Внимательно посмотри на эти микроскопы и найди тот, который нужно починить.



Что изменилось в лаборатории в ходе эксперимента?  
Найди 7 отличий между двумя картинками.




Разгадай закономерность  
и впиши пропущенные числа.


7		13		19	
---	--	----	--	----	--

24		16		8	
----	--	----	--	---	--


30		20		10	
----	--	----	--	----	--


Число в каждом квадрате — это сумма чисел  
двух квадратов, на которых он стоит.  
Сможешь угадать недостающие числа?





«Истинный учёный —  
это мечтатель, а кто им  
не является, тот называет  
себя практиком».  
Оноре де Бальзак







Вычёркивай слово **НАУКА** каждый раз, когда его видишь. Если заметишь букву, которая не является частью этого слова, впиши её над чёрточкой ниже. Так ты узнаешь, какое сообщение оставил для тебя Гена.

<del>Н</del>	<del>А</del>	<del>У</del>	<del>К</del>	<del>А</del>	Н	А	У	К	А	В	Н	А	У
К	А	С	Е	Н	А	У	К	А	Н	А	У	К	А
Г	Н	А	У	К	А	Д	Н	А	У	К	А	А	В
Е	Н	А	У	К	А	Р	Ь	Н	А	У	К	А	В
Н	А	У	К	А	С	Е	Н	А	У	К	А	Б	Я




\_\_\_\_\_

\_\_\_\_\_

\_\_\_\_\_ !

Сколько здесь геометрических фигур?



Один из этих портретов Розы отличается от остальных. Какой именно?

