


ЧИСЛА ОТ 1 ДО 100

• В кондитерском магазине мороженое в вафельном стаканчике стоит 65 рублей, шоколадка — 78 рублей, конфета — 10 рублей, пачка печенья — 68 рублей, вафли — 64 рубля, мороженое в брикете — 66 рублей, упаковка сушек — 63 рубля.

Вырежи и наклей картинки в порядке возрастания цены изображённых на них продуктов.



Ответь на вопросы.

Сколько стоят 3 конфеты? _____

На сколько дешевле мороженое в вафельном стаканчике, чем мороженое в брикете? _____

Что дороже: 5 конфет или одна упаковка сушек? _____

Сколько стоит пачка печенья и 2 конфеты? _____



65 руб.



63 руб.



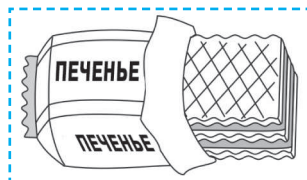
66 руб.



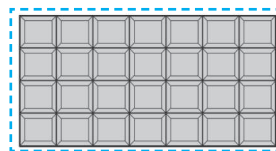
10 руб.



64 руб.



68 руб.



78 руб.

- После уроков ученики занимаются в кружках «Вышивание», «Яркие краски», «Футбол» и «Поём дружно».

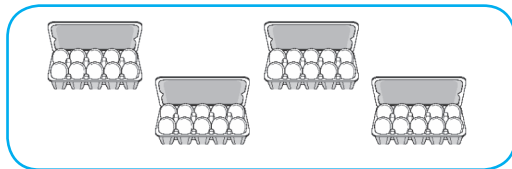
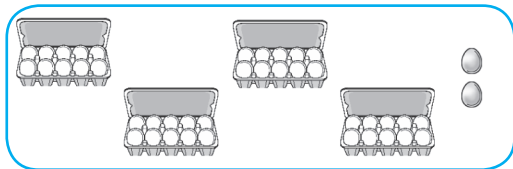
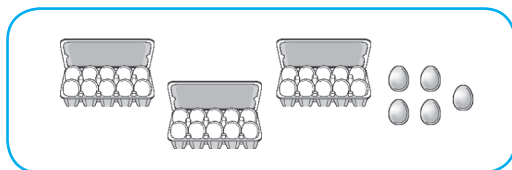
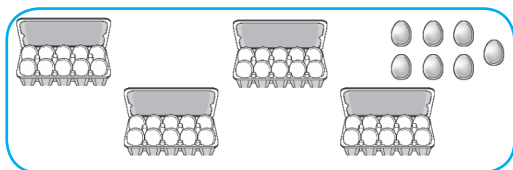
Название кружка	Количество учеников
	20
	52
	21
	25

Больше всего детей играют в футбол, меньше всего — занимаются вышиванием. Поёт меньше учеников, чем рисует. Вырежи и наклей картинки в соответствующие ячейки таблицы. Количество учеников в кружке «Вышивание» увеличилось на 8. Сколько теперь детей занимаются вышиванием?

Количество детей, посещающих кружок «Футбол», уменьшилось на 2. Сколько теперь детей играют в футбол?



- Повар в детском саду собирается готовить на завтрак омлет. Он достал из холодильника больше 34 яиц, но меньше 42. Сколько яиц мог достать повар? Раскрась.



- Запиши по три числа, которые называют при счёте до и после числа 78.


_____, 78, _____

- Запиши числа, которые называют при счёте между числами 37 и 42.

37, _____, 42


- Обведи все числа, в которых цифра 9 обозначает количество десятков.

19 97 92 9 49 59 90 89







Устное сложение и вычитание в пределах 100

- Расставь вагоны в порядке возрастания чисел-ответов — вырежи и наклей картинки.



Раскрась красным карандашом вагон, на котором записан пример, в котором число 70 — вычитаемое; синим карандашом — пример, в котором 70 — уменьшаемое; жёлтым карандашом — вагоны с примерами, в которых 70 — слагаемое.



- Расположи ответы в порядке возрастания и прочитай слово. Что оно обозначает?

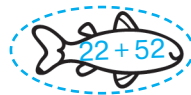


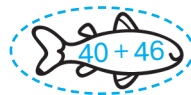


$80 - 7$		И
$36 + 4$		А
$41 + 23$		К
$86 - 40$		Л
$100 - 2$		А
$17 + 20$		Г
$96 - 15$		К
$59 - 7$		А
$17 + 52$		Т

--	--	--	--	--	--	--	--	--

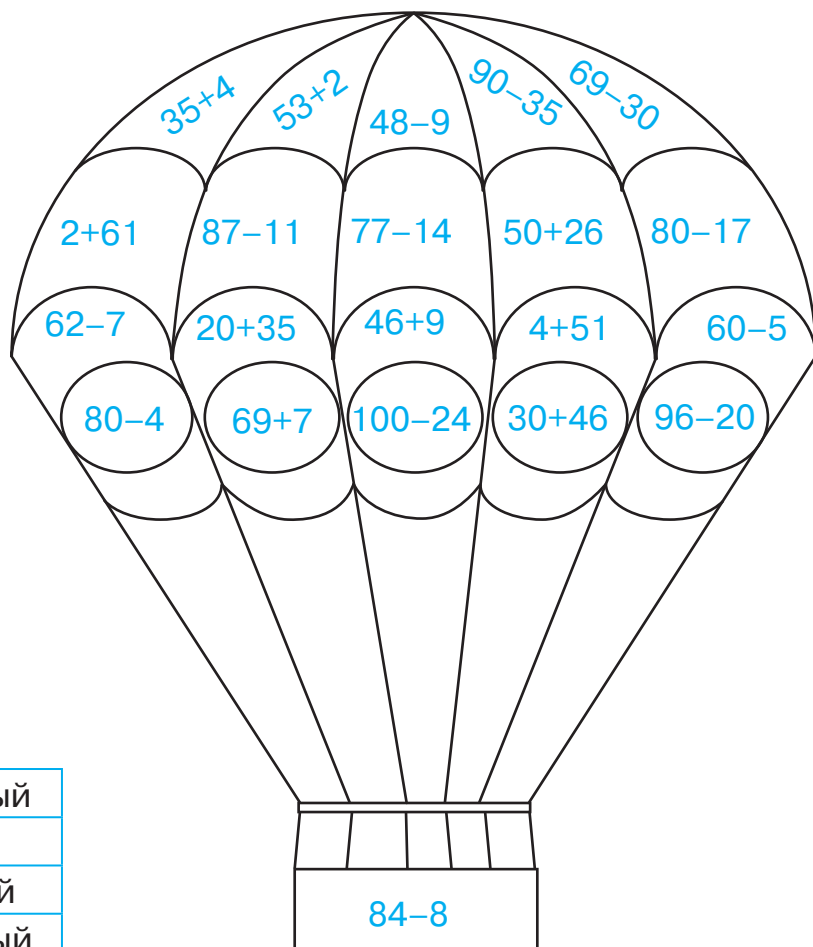
- В каждом аквариуме плавают рыбки, на которых записаны примеры с одинаковыми ответами. Реши примеры, вырежи и наклей картинки.

--	--	--

Раскрась жёлтым карандашом рыбок, которые плывут вправо, зелёным — влево.



- Реши примеры и раскрась воздушный шар.



39	красный
63	синий
76	жёлтый
55	зелёный

