

СОДЕРЖАНИЕ

Проверочные работы

Работа 1.....	4
Работа 2.....	5
Работа 3.....	6
Работа 4.....	7
Работа 5.....	8
Работа 6.....	9
Работа 7.....	10
Работа 8.....	11
Работа 9.....	12
Работа 10.....	13
Работа 11.....	14
Работа 12.....	15
Работа 13.....	16
Работа 14.....	17
Работа 15.....	18

Математические диктанты

Работа 16.....	19
Работа 17.....	19
Работа 18.....	20
Работа 19.....	20
Работа 20.....	21
Работа 21.....	21
Работа 22.....	22
Работа 23.....	22
Работа 24.....	23
Работа 25.....	23
Работа 26.....	24
Работа 27.....	24
Работа 28.....	25
Работа 29.....	25

Работа 30.....	26
Работа 31.....	26
Работа 32.....	27
Работа 33.....	27
Работа 34.....	28
Работа 35.....	28

Тесты

Работа 36.....	29
Работа 37.....	30
Работа 38.....	31
Работа 39.....	32
Работа 40.....	33
Работа 41.....	34
Работа 42.....	35
Работа 43.....	36
Работа 44.....	36
Работа 45.....	38

Геометрические задания

Работа 46.....	39
Работа 47.....	40
Работа 48.....	41
Работа 49.....	42
Работа 50.....	43
Работа 51.....	44
Работа 52.....	45
Работа 53.....	46

Задания на логику и смекалку

Работа 54.....	47
Работа 55.....	48

МАТЕМАТИЧЕСКИЕ ДИКТАНТЫ

Работа 16

1. Во сколько раз 63 больше, чем 7? ____
2. Какое число надо увеличить в 7 раз, чтобы получить 56? ____
3. Какое число надо уменьшить в 7 раз, чтобы получить 8? ____
4. Какое число надо увеличить в 9 раз, чтобы получить 72? ____
5. Какое число надо уменьшить в 7 раз, чтобы получить 6? ____
Какое число надо увеличить в 9 раз, чтобы получить 81? ____
6. Найди произведение 9 и 4. ____ Найди частное 36 и 6. ____
7. Я загадал число, вычел из него 29, а потом разделил на 4 и получил 9. Какое число я задумал? ____
8. У 5 мальчиков по 9 яблок у каждого. На столе ещё 22 яблока. Сколько всего яблок? _____
9. Оля испекла 5 пирожков, Аля — 3, а бабушка — в 4 раза больше, чем Оля и Аля вместе. Сколько пирожков испекла бабушка? _____

Работа 17

1. Какое число надо увеличить в 3 раза, чтобы получить 27? ____
2. Какое число надо уменьшить на 9, чтобы получить 7? ____ Второй множитель 3, произведение 24. Найди первый множитель. ____
3. Я загадал число, увеличил его в 6 раз, потом уменьшил произведение на 11 и получил 19. Какое число я загадал? ____
4. Найди сумму 48 и 14. ____ На сколько 7 меньше 21? ____
5. Во сколько раз 48 больше, чем 8? ____ Найди разность 60 и 15. ____
6. Найди частное чисел 36 и 9. ____ Во сколько раз 54 больше 6? ____
7. Во сколько раз 5 меньше 25? ____ На сколько 40 больше 8? ____
8. Какое число надо увеличить в 4 раза, чтобы получить 24? ____
9. В пакете 4 кг картошки, а в мешке — в 9 раз больше. Сколько килограммов картошки в двух мешках? _____

ТЕСТЫ

Работа 36

1. Как определить, сколько всего в числе единиц?

- 1) прочитать всё число
- 2) закрыть три цифры справа и прочитать получившееся число
- 3) закрыть одну цифру справа и прочитать получившееся число
- 4) закрыть четыре цифры справа и прочитать получившееся число

2. В записи какого числа отсутствуют единицы третьего разряда?

- 1) 254 103
- 2) 402 353
- 3) 670 493
- 4) 673 028

3. Как правильно записать число восемьдесят тысяч сорок?

- 1) 80 040
- 2) 800 400
- 3) 8 004 000
- 4) 800 004

4. Найди число, в котором 500 единиц 1-го класса и 235 единиц 2-го класса.

- 1) 500 235
- 2) 235 500

5. В каком числе 69 единиц тысяч?

- 1) 6940
- 2) 69 499
- 3) 69
- 4) 694

6. Как называется геометрическая фигура, образованная двумя лучами, выходящими из одной точки?

- 1) треугольник
- 2) угол
- 3) квадрат
- 4) прямоугольник

7. Как называется угол, который меньше прямого угла?

- 1) тупой угол
- 2) острый угол

8. Укажи формулу периметра прямоугольника.

- 1) $P = a \cdot 4$
- 2) $P = (a + b) \cdot 2$
- 3) $P = (a + b) \cdot 4$
- 4) $P = a \cdot 2$


9. Найди сумму чисел 32799 и 1.

- 1) 42799
- 2) 32800
- 3) 32798
- 4) 33799

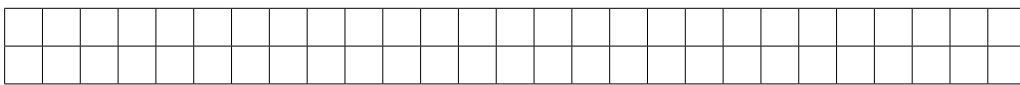
ГЕОМЕТРИЧЕСКИЕ ЗАДАНИЯ

Работа 46

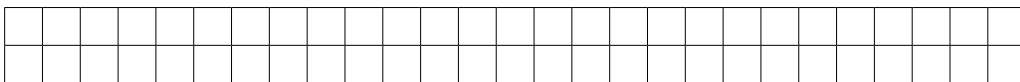
1. Начерти в заданном порядке слева направо: луч, отрезок, кривую, замкнутую ломаную, тупой угол, прямую, острый угол.



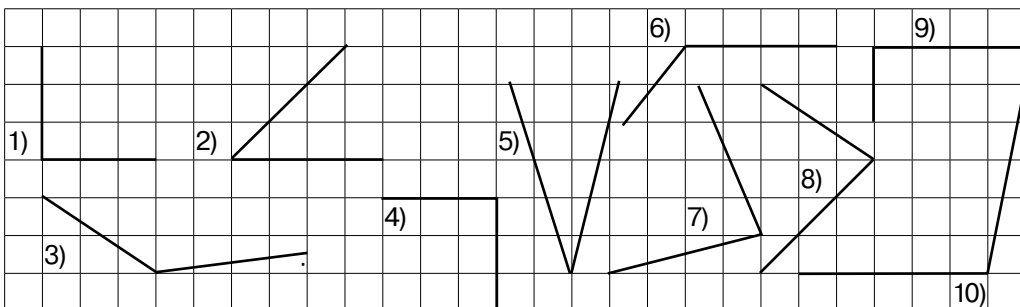
2. Начерти 4 отрезка так, чтобы длина каждого последующего была больше длины предыдущего на 1 см. Обозначь концы отрезков буквами.



3. Начерти луч, на котором точкой обозначь число 10. Обозначь на этом луче числа 5, 12, 15.



4. Найди на чертеже и обведи прямые углы. Выпиши номера острых углов. _____



5

4

2

9

0

5

0

1

39

