

СОДЕРЖАНИЕ

ПРОВЕРОЧНЫЕ РАБОТЫ

Работа 1	4	Работа 9	12
Работа 2	5	Работа 10	13
Работа 3	6	Работа 11	14
Работа 4	7	Работа 12	15
Работа 5	8	Работа 13	16
Работа 6	9	Работа 14	17
Работа 7	10	Работа 15	18
Работа 8	11		

МАТЕМАТИЧЕСКИЕ ДИКТАНТЫ

Работа 16	19	Работа 26	24
Работа 17	19	Работа 27	24
Работа 18	20	Работа 28	25
Работа 19	20	Работа 29	25
Работа 20	21	Работа 30	26
Работа 21	21	Работа 31	26
Работа 22	22	Работа 32	27
Работа 23	22	Работа 33	27
Работа 24	23	Работа 34	28
Работа 25	23	Работа 35	28

ТЕСТЫ

Работа 36	29	Работа 41	34
Работа 37	30	Работа 42	35
Работа 38	31	Работа 43	36
Работа 39	32	Работа 44	37
Работа 40	33	Работа 45	38

ГЕОМЕТРИЧЕСКИЕ ЗАДАНИЯ

Работа 46	39	Работа 50	43
Работа 47	40	Работа 51	44
Работа 48	41	Работа 52	45
Работа 49	42	Работа 53	46

ЗАДАНИЯ НА ЛОГИКУ И СМЕКАЛКУ

Работа 54	47	Работа 55	48
-----------	----	-----------	----



Работа 36

1. В каких примерах надо поставить знак «меньше»?

- 1) $4 \dots 2$ 2) $3 \dots 4$ 3) $3 \dots 1$ 4) $1 \dots 3$ 5) $2 \dots 1$

2. Найди примеры с ответом 2.

- 1) $4 - 2$ 2) $4 - 3$ 3) $3 - 2$ 4) $3 - 1$

3. Какое число надо вставить: $\dots + 1 = 3$?

- 1) 1 2) 2 3) 3

4. Какое число надо вставить: $4 - \dots = 2$?

- 1) 1 2) 2 3) 3 4) 4

5. В каких примерах надо поставить знак «больше»?

- 1) $4 \dots 2$ 2) $3 \dots 4$ 3) $3 \dots 1$ 4) $1 \dots 3$ 5) $2 \dots 1$

6. В каких примерах надо поставить знак «меньше»?

- 1) $5 \dots 3$ 2) $4 \dots 5$ 3) $4 \dots 2$ 4) $2 \dots 4$ 5) $3 \dots 1$

7. 5 — это 1 и ...

- 1) 3 2) 4 3) 5 4) 2


8. Какое число надо вставить: $\dots + 4 = 5$?

- 1) 1 2) 2 3) 3 4) 4 5) 5

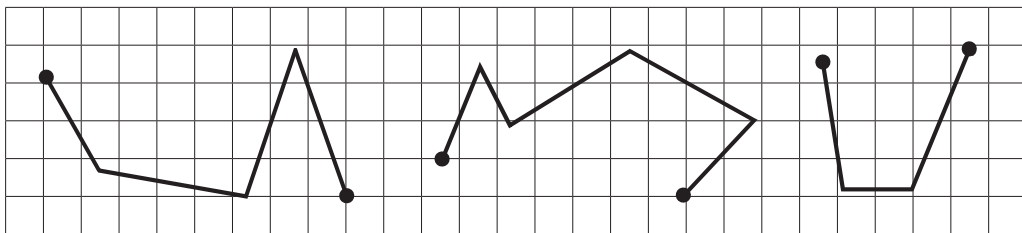
ГЕОМЕТРИЧЕСКИЕ ЗАДАНИЯ

Работа 46


1. По линейке начерти отрезок синим карандашом, а под ним — зелёным. Синий отрезок должен быть длиннее зелёного.



2. По линейке обведи ломаные. Надпиши, сколько у каждой из них звеньев и сколько вершин.



3. Начерти отрезки длиной 4 см, 6 см, 8 см.



4. Нарисуй в ряд треугольник и 5 кругов так, чтобы справа от треугольника было на 3 круга меньше, чем слева.

