

# АКТИВИТИ




Д. А. Позднякова


## МАТЕМАТИКА ЛАБИРИНТЫ

1  
КЛАСС

# СЛОЖЕНИЕ И ВЫЧИТАНИЕ В ПРЕДЕЛАХ 10

Посчитай и запиши количество флажков.

	<input type="text"/>
	<input type="text"/>
	<input type="text"/>



# СЛОЖЕНИЕ И ВЫЧИТАНИЕ В ПРЕДЕЛАХ 10

От клетки СТАРТ по полю проведи автобус к остановке так, как дано в ключе.

→	↑	→	→	→	↑	↓			
↓	↑	→	→	↓	→	→			
↑	←	←	↑	↑	→	↓	↑	→	↓
↓	→	↓	←	←	←	←	←	↑	↓
←	←	↓	↑	←	↓	←	←	↑	→
			СТАРТ	→	→	←	↓	↑	↓
			↓	→	↓	→	→	→	→

НАПРАВО  
2

ВНИЗ  
1

НАПРАВО  
3

ВВЕРХ  
3

ВВЕРХ  
2

НАЛЕВО  
2

ВВЕРХ  
1

НАЛЕВО  
5

НАПРАВО  
3

ВНИЗ  
1

НАПРАВО  
2