

## ВАРИАНТ 1

1) Найди значение выражений:

1)  $970 - 390$

2)  $170 + 580$

Ответ:	

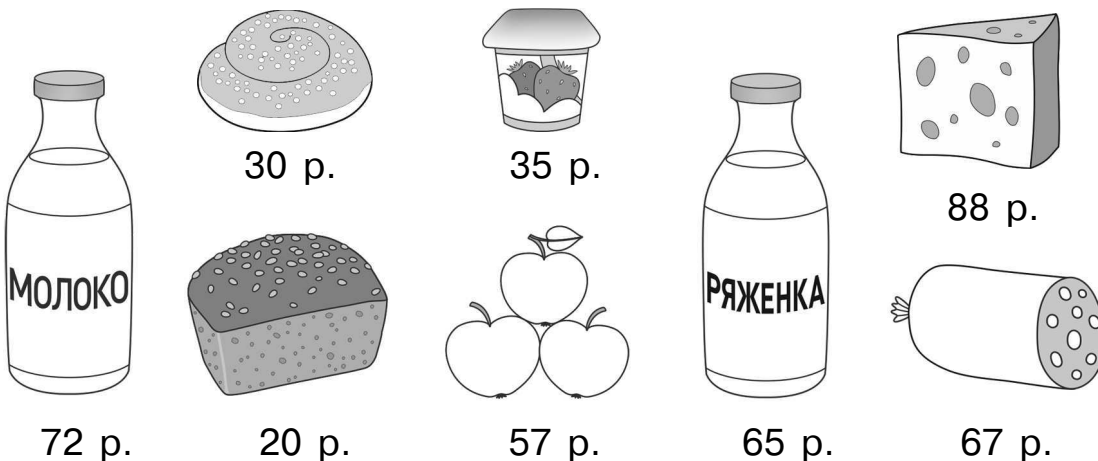
2) Найди значение выражений:

1)  $640 : 2 \cdot 3 - 150$

2)  $940 - (25 \cdot 2 + 260)$

Ответ:	

3) Рассмотрите рисунок и ответьте на вопрос: какую сдачу получил покупатель, расплатившись за бутылку молока, буханку хлеба и бутылку ряженки двумя купюрами в 100 рублей?



Запиши решение и ответ.

Решение:	
Ответ:	

4) Во сколько начались занятия шахматного кружка, если они длились 1 час 15 минут и закончились в 18 часов 30 минут?

Ответ:	









## ВАРИАНТ 2

1) Найди значения выражений:

1)  $70\ 650 - 650$

2)  $400\ 000 + 700$

Ответ:	
--------	--

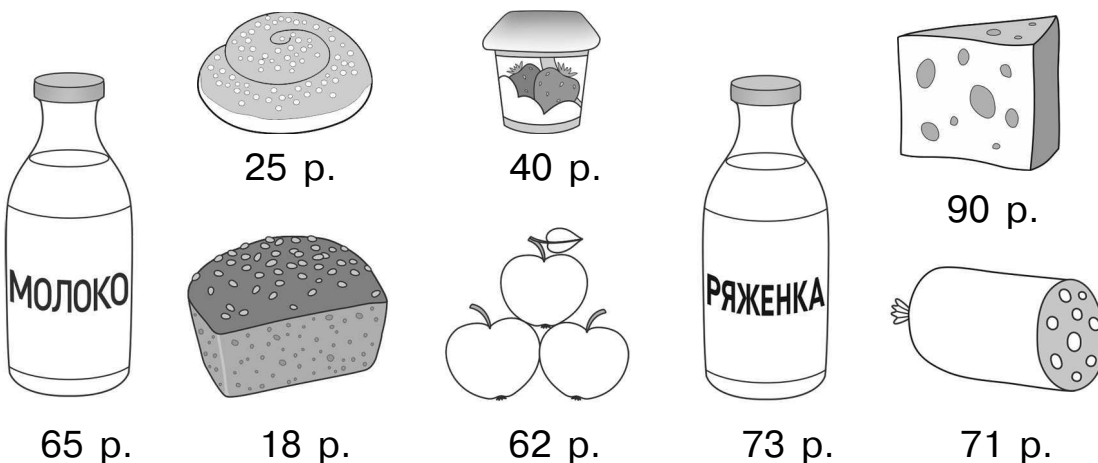
2) Найди значения выражений:

1)  $560 : 40 + 7 \cdot 130 - 30$

2)  $(40 \cdot 160 + 40 \cdot 110) : 4$

Ответ:	
--------	--

3) Рассмотрите рисунок и ответьте на вопрос: какую сдачу получил покупатель, расплатившись за бутылку ряженки, кусок колбасы и буханку хлеба двумя купюрами в 100 рублей?



Запиши решение и ответ.

Решение:	
Ответ:	

4) Во сколько начались занятия исторического кружка, если они длились 1 час 45 минут и закончились в 19 часов 15 минут?

Ответ:	
--------	--









### ВАРИАНТ 3

1) Найди значения выражений:

1)  $10\ 980 - 40$                       2)  $700\ 000 + 100$

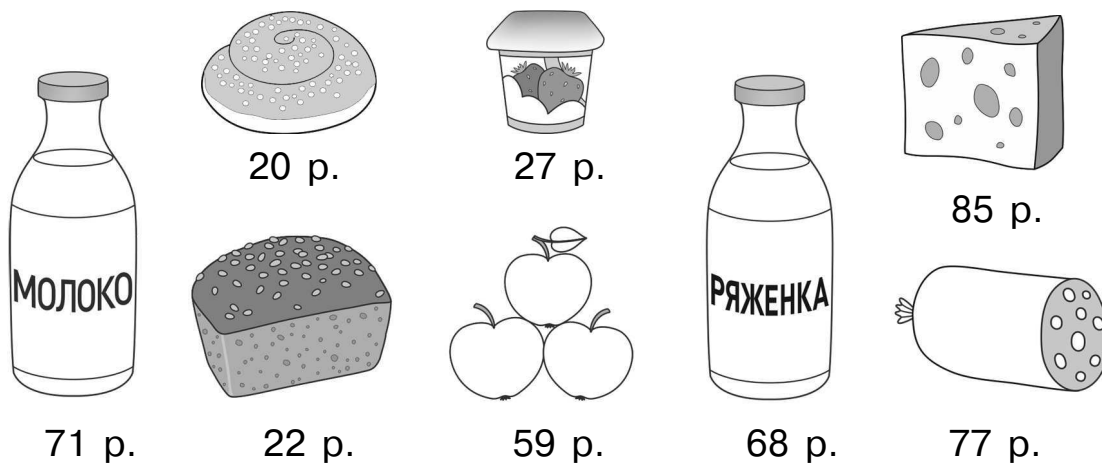
Ответ:	
--------	--

2) Найди значения выражений:

1)  $50 \cdot 160 + 30 \cdot 8 - 60 \cdot 120$   
 2)  $780 : 60 + (140 \cdot 5 - 120 \cdot 5) : 5$

Ответ:	
--------	--

3) Рассмотрите рисунок и ответьте на вопрос: какую сдачу получил покупатель, расплатившись за бутылку молока, буханку хлеба и яблоки двумя купюрами в 100 рублей?



Запиши решение и ответ.

Решение:	
Ответ:	

4) Во сколько началась лекция по астрономии, если она длилась 1 час 22 минуты и закончилась в 16 часов 46 минут?

Ответ:	
--------	--









## ВАРИАНТ 4

1) Найди значения выражений:

1)  $45\ 890 - 90$                       2)  $321 \cdot 100$

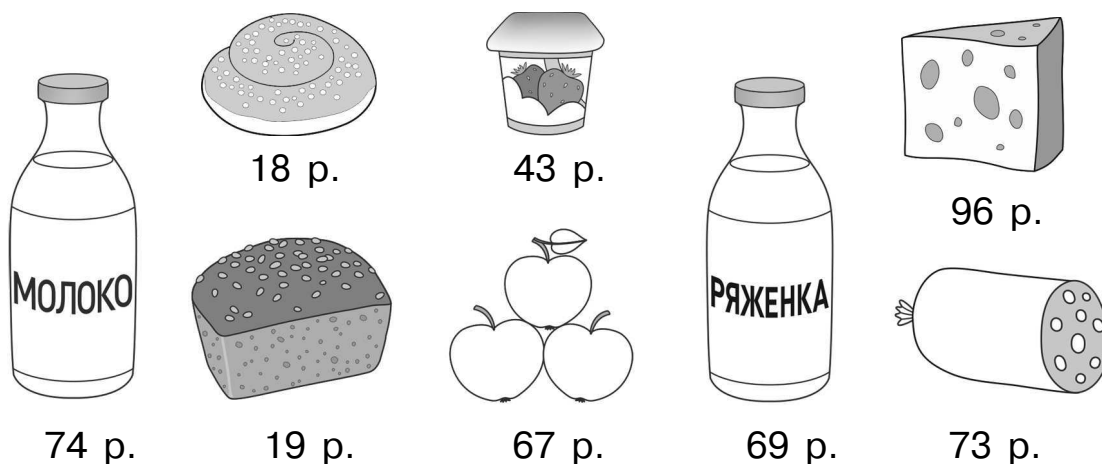
Ответ:	
--------	--

2) Найди значения выражений:

1)  $560 : 40 + 90 \cdot 2 - 140$   
 2)  $(50 \cdot 11 - 30 \cdot 11) : 20 + 66 : 11$

Ответ:	
--------	--

3) Рассмотрите рисунок и ответьте на вопрос: какую сдачу получил покупатель, расплатившись за бутылку ряженки, буханку хлеба и кусок колбасы двумя купюрами в 100 рублей?



Запиши решение и ответ.

Решение:	
Ответ:	

4) Во сколько Рита начала читать книгу, если она читала 47 минут и закончила читать в 15 часов 13 минут?

Ответ:	
--------	--



