


РЕШИ, НАКЛЕЙ, РАСКРАСЬ!

Помоги рыцарю раскрасить щит. Реши каждый пример внизу, наклей правильный ответ. Раскрась по номерам.



$16+2=?$
 $4+?=10$
 $12+4=?$
 $6+6=?$
 $8+3=?$

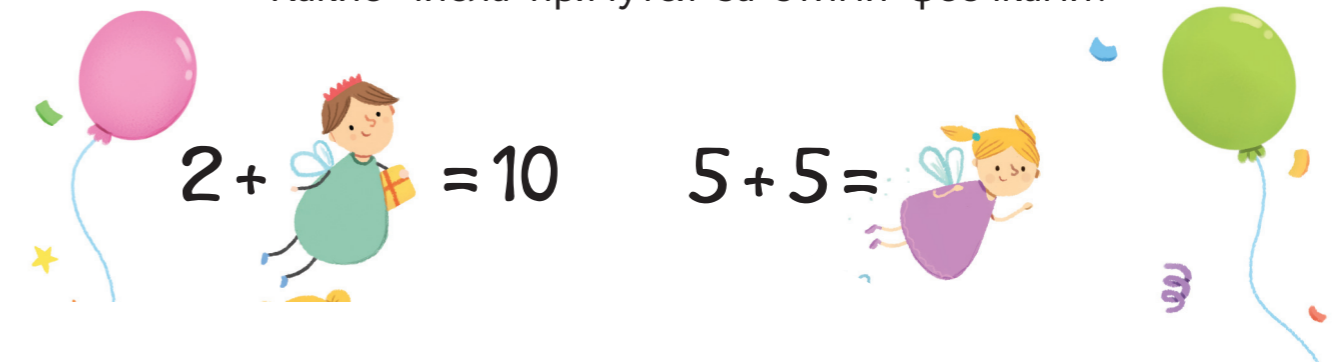
8-2

4+3


Наклей лепестки с примерами подходящими к ответу в центре цветка



Какие числа прячутся за этими феечками?



У каждой лисички число в лапках на три больше, чем у предыдущей. Наклей числа в верной последовательности.



4+3

Будь на высоте!

Чтобы добраться до флага, вклей пропущенные числа вместо знаков вопроса

34

НАЧНИ ЗДЕСЬ

40

ФИНИШ

$6+4$

Подбери к каждой рыбке слева подходящий пузырь, чтобы получились правильные ответы

37

76

24

$=77$

$=35$

$=96$

$=54$

В этой волшебной пирамиде складываются числа, стоящие рядом, кирпичик с их суммой стоит над ними. Наклей пропущенные кирпичики.

?

?

20

3

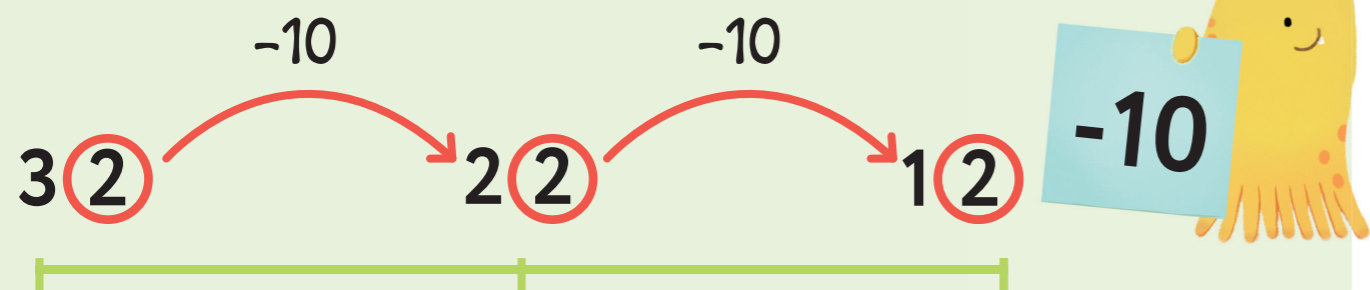
15

?

$8+3$

Как отнимать 10

А теперь попробуй вычесть число 10 — ты же помнишь, что цифра справа не меняется?



Каждое последующее число меньше предыдущего на 10.
Вклей числа в нужной последовательности.




Тайна мумии

Узнай комбинацию цифр для входа в пирамиды.
Реши примеры с помощью символов.
Найди и наклей правильный ответ.



10	↗
20	↘
30	↖
40	↙
50	↗
60	↘↘
70	↖↖
80	↙↙
90	↘↘↘
100	↙↙↙



1) $\text{↘} - \text{↙} =$



2) $\text{↙} - \text{↗} =$



3) $\text{↖} - \text{↘} =$

