

- Обведи числа в порядке возрастания.

1 2 3 4 5 6 7 8 9 10

- Обведи числа в порядке убывания.

10 9 8 7 6 5 4 3 2 1


- Закрась клетки с цифрами больше 5.




7	5	2	8	2	3	1	6	2	4	8	7	6	9	7	1
3	1	4	6	7	9	6	3	8	6	2	6	5	2	4	2
9	5	3	7	2	5	1	8	5	7	3	1	7	3	7	6
6	2	8	1	7	6	7	6	7	2	6	4	8	9	8	6
4	7	9	6	5	4	2	8	4	1	8	6	7	1	2	7
9	6	8	3	7	9	4	6	9	2	7	5	4	5	1	8
3	7	1	6	2	1	6	7	3	6	8	7	6	2	6	4
7	2	8	9	1	3	4	9	1	5	6	4	9	3	7	1
8	6	9	4	7	4	7	2	8	4	7	1	7	1	8	6
5	1	6	7	8	9	1	8	7	1	4	2	8	2		
3	7	8	5	7	6	9	4	3	8	7	4	6	4		




- Найди 2 одинаковых рисунка.




1.




2.



3.



4.



5.





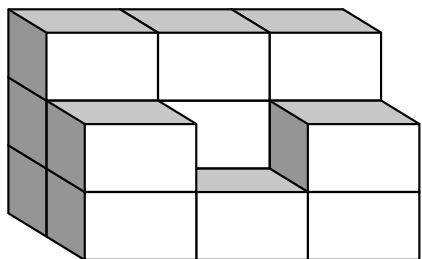
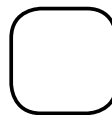
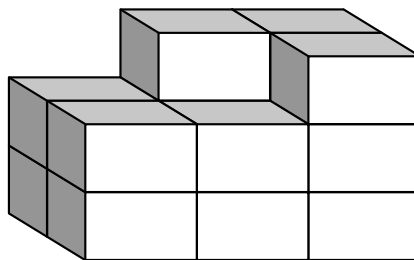

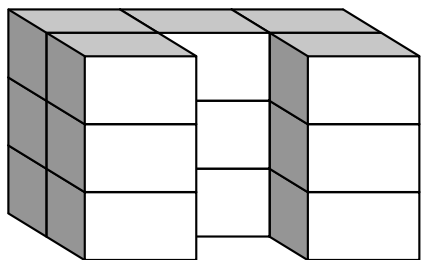
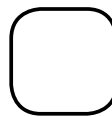
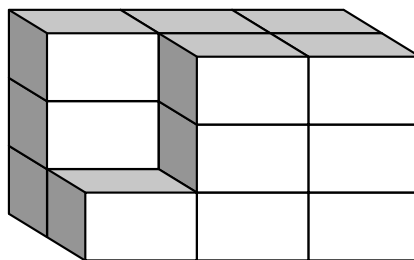

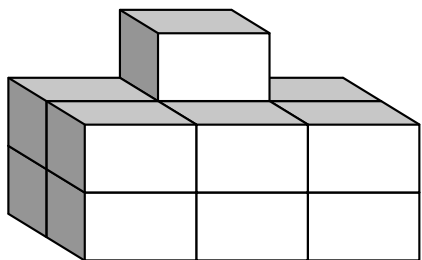
- Обведи числа в порядке возрастания.

10 11 12 13 14 15 16 17 18 19 20

- Обведи числа в порядке убывания.

20 19 18 17 16 15 14 13 12 11 10

- Из скольких блоков состоят фигуры? Сосчитай и запиши.



- Раскрась только те фигуры, которые есть на коврике.

