

Т.А. Колесникова

МАТЕМАТИЧЕСКИЕ ПРОПИСИ

для детей 4-5 лет



Москва

УДК 372.2:51

ББК 74.102

К60

Колесникова, Татьяна Александровна.

К60 Математические прописи: для детей 4—5 лет / Т. А. Колесникова. — Москва : Эксмо, 2026. — 64 с. : ил. — (Обучение дошкольников математике).

ISBN 978-5-04-174302-4

Тетрадь-тренажёр станет отличным помощником для родителей и воспитателей ребёнка 4—5 лет. Дошкольник научится считать в пределах пяти, проводить различные линии, обводить несложные узоры и цифры от 1 до 5. Пособие поможет подготовить руку к письму и привить навыки, необходимые для дальнейшего обучения. Все задания составлены с учётом требований ФГОС ДО. Выполняя упражнения, дошкольник станет более внимательным, аккуратным и самостоятельным.

УДК 372.2:51
ББК 74.102

ISBN 978-5-04-174302-4

© Колесникова Т. А., 2022
© ООО «Айдиономикс», 2023
© Оформление. ООО «Издательство «Эксмо», 2026


ВВЕДЕНИЕ

Перед вами математические прописи, которые предназначены для детей 4—5 лет и составлены в соответствии с федеральным государственным образовательным стандартом дошкольного образования.

Ребёнок, выполняя задания:

- потренирует графические навыки и научится писать цифры от 1 до 5;
- закрепит навыки счёта в пределах 5, а также знания о геометрических фигурах;
- научится ориентироваться в пространстве и на листе бумаги;
- сможет осуществлять самоконтроль и самооценку выполненной работы, руководствуясь пояснениями взрослого;
- разовьёт память, внимание, мышление и логику.

Для занятий ребёнку понадобятся карандаши. Фломастеры и краски использовать нежелательно. При рисовании карандашом требуется нажатие пальцами на карандаш и кистью руки на лист, что способствует подготовке руки к письму. На фломастер нельзя давить, он предназначен для декоративного оформления.





На страницах книги ребёнка ждёт друг — . Пусть малыш нарисует ему улыбку, если без ошибок справился с заданиями.

Желаем успехов!

ПРЯМЫЕ ЛИНИИ

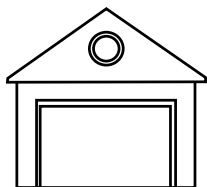
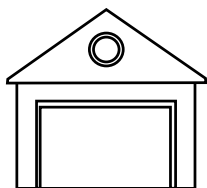
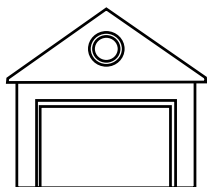

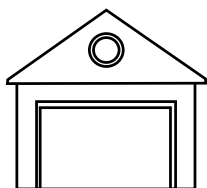


Помоги каждому животному добраться до тележки с кормом — обведи пунктирные линии. У кого какое любимое лакомство?





Помоги каждой машине заехать в гараж — обведи пунктирные линии. В какую сторону движутся машины?



РАЗВИТИЕ ГЛАЗОМЕРА



Что ты видишь на картинке? Какой фрукт нарисован больше одного раза?

