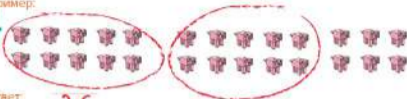


СЛОЖЕНИЕ ГРУППАМИ

Обведи группы по 10 объектов. Затем сосчитай и запиши общее количество объектов.

Пример:

1.



Ответ:

26

2.



Ответ:

3.



Ответ:

4.



Ответ:

5.



Ответ:



РАЗРЯДЫ. РУКОВОДСТВО ОТ ГАСТА

Запиши число каждого гаста по разрядам в таблице. А затем запиши это же число с помощью подсчётных меток.

Пример:



Десятки	Единицы
2	6



Десятки	Единицы



Десятки	Единицы



Десятки	Единицы



Десятки	Единицы



Десятки	Единицы



Десятки	Единицы

СООТНОСИМ ВРЕМЯ

Нарисуй часовые и минутные стрелки, чтобы часы верно показывали время.



Пример:

1.



3:00

2.



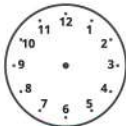
1:30

3.



5:00

4.



8:30

5.



10:00

6.



4:30

МАТЕМАТИЧЕСКИЕ ЗАДАЧКИ

Внимательно прочитай задачу. Затем посмотри на картинку и запиши свой ответ.

Пример:

1. Стив съедает 3 моркови. Потом он атакует зомби, и с них выпадает ещё 2 моркови и 2 картофеля, которые он съедает. Сколько всего продуктов съел Стив?



$$3 + 2 + 2 = 7$$

Ответ:

7

2. Алекс получает 2 блока лавы в доме инструментальщика, ещё 5 — в Нижнем мире и 6 — в комнате портала Края. Сколько всего у неё блоков лавы?



Ответ:

3. Во время своих приключений Стив встречает 16 гостей. Он унигождает 4-х зачарованными стрелами и ещё 3-х огненными шарами. Сколько гостей осталось?



Ответ:

4. За один день Стив создаёт 10 кирок, 3 топора и 9 лопат, чтобы атаковать мобов. Сколько всего оружия он создал?



Ответ:

ПРИМЕРЫ НА СЛОЖЕНИЕ ЧИСЕЛ ОТ 0 ДО 20



$$\begin{array}{r} 1. \quad 13 \\ + 4 \\ \hline \end{array}$$

$$\begin{array}{r} 2. \quad 4 \\ + 15 \\ \hline \end{array}$$

$$\begin{array}{r} 3. \quad 3 \\ + 12 \\ \hline \end{array}$$

$$\begin{array}{r} 4. \quad 6 \\ + 14 \\ \hline \end{array}$$

$$\begin{array}{r} 5. \quad 3 \\ + 15 \\ \hline \end{array}$$

$$\begin{array}{r} 6. \quad 7 \\ + 9 \\ \hline \end{array}$$

$$\begin{array}{r} 7. \quad 7 \\ + 11 \\ \hline \end{array}$$

$$\begin{array}{r} 8. \quad 13 \\ + 6 \\ \hline \end{array}$$

$$\begin{array}{r} 9. \quad 6 \\ + 12 \\ \hline \end{array}$$

$$\begin{array}{r} 10. \quad 8 \\ + 9 \\ \hline \end{array}$$

$$\begin{array}{r} 11. \quad 4 \\ + 12 \\ \hline \end{array}$$

$$\begin{array}{r} 12. \quad 14 \\ + 5 \\ \hline \end{array}$$

$$\begin{array}{r} 13. \quad 3 \\ + 14 \\ \hline \end{array}$$

$$\begin{array}{r} 14. \quad 12 \\ + 7 \\ \hline \end{array}$$

$$\begin{array}{r} 15. \quad 3 \\ + 13 \\ \hline \end{array}$$

$$\begin{array}{r} 16. \quad 4 \\ + 9 \\ \hline \end{array}$$

$$\begin{array}{r} 17. \quad 15 \\ + 5 \\ \hline \end{array}$$

$$\begin{array}{r} 18. \quad 16 \\ + 3 \\ \hline \end{array}$$

$$\begin{array}{r} 19. \quad 13 \\ + 2 \\ \hline \end{array}$$

$$\begin{array}{r} 20. \quad 13 \\ + 5 \\ \hline \end{array}$$

ОТВЕТЫ:

СТРАНИЦА 4. СЛОЖЕНИЕ ГРУППАМИ

2. 16
3. 31
4. 21
5. 17

СТРАНИЦА 5. ЗАГАДОЧНОЕ ПОСЛАНИЕ СО СЛОЖЕНИЕМ И ВЫЧИТАНИЕМ

2. 3
3. 11
4. 2
5. 13
6. 6
7. 15
8. 7
9. 14

ОТВЕТ: Потому что у них нет СТОЙЛОВых приборов

СТРАНИЦА 6. РАЗРЯДЫ. РУКОВОДСТВО ОТ ЗОМБИ

2. 4 десятка 5 единиц
3. 2 десятка 5 единиц
4. 3 десятка 1 единица
5. 2 десятка 8 единиц
6. 6 десятков 7 единиц
7. 5 десятков 4 единицы

СТРАНИЦА 7. МАТЕМАТИЧЕСКИЕ ПОСЛЕДОВАТЕЛЬНОСТИ

8. 10, 12, 14, 16, 18, 20, 22, 24

СТРАНИЦА 8. ОПРЕДЕЛЯЕМ ВРЕМЯ

2. 4:30
3. 11:00
4. 9:30
5. 7:30
6. 5:00

СТРАНИЦА 9. СЧИТАЕМ ДЕНЬГИ

2. 23 цента
3. 36 центов
4. 60 центов
5. 37 центов
6. 41 цент
7. 9 центов


ХАРДКОРНЫЙ РЕЖИМ:

8. 5 пятицентовиков

СТРАНИЦА 10. ГЕОМЕТРИЧЕСКИЕ ПРИКЛЮЧЕНИЯ



СТРАНИЦА 11.



6. ХАРДКОРНЫЙ РЕЖИМ: $\frac{1}{2}$

СТРАНИЦА 12. МАТЕМАТИЧЕСКИЕ ЗАДАЧКИ

1. 1
2. 5
3. 4

СТРАНИЦА 13.

4. 8
5. 11
6. 6
7. 9
8. 3