

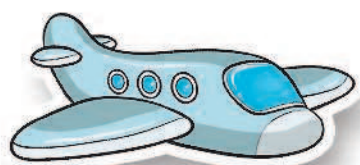


КОРАБЛИ и САМОЛЁТЫ





Найди нужные наклейки.

Реши задачу: Над полем летала 1 птичка. Потом прилетели ещё 3 птички. Сколько стало птичек? Вырежи и наклей нужные цифры. Выбери наклейку-оценку.



$$\bigcirc + \bigcirc = \bigcirc$$