

УДК 373.2:51  
ББК 74.102  
К60

**Колесникова, Татьяна Александровна.**

К60 Я считаю до десяти : для детей 5—6 лет / Т. А. Колесникова. — Москва : Эксмо, 2023. — 64 с. : ил. — (Обучение дошкольников математике).

ISBN 978-5-04-174300-0

Тетрадь-тренажёр по математике станет отличным помощником для родителей и воспитателей ребёнка 5—6 лет. Дошкольник научится считать до 10, писать цифры, рисовать по клеточкам и решать несложные математические задачи. Все задания составлены с учётом требований ФГОС ДО. Выполняя упражнения, дошкольник станет более внимательным, аккуратным и самостоятельным.

**УДК 373.2:51  
ББК 74.102**

**ISBN 978-5-04-174300-0**

© Колесникова Т. А., 2022  
© ООО «Аудиономикс», 2023  
© Оформление. ООО «Издательство «Эксмо», 2023

# ВВЕДЕНИЕ

Перед вами математический тренажёр, который предназначен для детей 5—6 лет и составлен в соответствии с федеральным государственным образовательным стандартом дошкольного образования.

Ребёнок, выполняя задания:

- освоит и закрепит навыки количественного и порядкового счёта в пределах 10, а также знания о геометрических фигурах;
- потренируется ориентироваться в пространстве и на листе бумаги, научится планировать свои действия для достижения конкретной цели, решать интеллектуальные задачи, соответствующие его возрасту;
- сможет осуществлять самоконтроль и самооценку выполненной работы, руководствуясь пояснениями взрослого;
- разовьёт память, внимание, мышление, воображение, глазомер и мелкую моторику;
- повысит любознательность и мотивацию;
- овладеет универсальными предпосылками учебной деятельности.





Для занятий ребёнку понадобятся карандаши. Фломастеры и краски использовать нежелательно. При рисовании карандашом требуется нажатие пальцами на карандаш и кистью руки на лист, что способствует подготовке руки к письму. На фломастер нельзя давить, он предназначен для декоративного оформления.

Желаем успехов!



# ЗАНЯТИЕ 1



Сколько тигров, змей и обезьян ты видишь на рисунке? Обведи тех животных, которых по одному.



Обведи цифру 1 по пунктиру и продолжи писать самостоятельно. Нарисуй на каждой тарелке по одной конфете подходящего размера.



3

Обведи носок, который отличается от других.



4

К какому времени года относятся рисунки?




5

# ЗАНЯТИЕ 2



Сосчитай животных. Каких мешков больше: закрытых или открытых? Раскрась первый по счёту круг красным карандашом, второй — зелёным.



Два кота в сарай пришли,  
Но мышей в нём не нашли.  
Провели там весь денёк  
Папа кот и кот-сынок.





Обведи цифру 2 по пунктиру и продолжи писать самостоятельно. Нарисуй на ветке слева столько яблок, чтобы их стало на одно больше, чем на ветке справа.




3

Какое животное должно стоять вместо знака вопроса в каждом ряду? В какую сторону будет смотреть ёж в нижнем ряду по сравнению с верхним рядом?



4

Сколько рыб обитает в каждом аквариуме? Какие из них плывут вправо, а какие — влево?

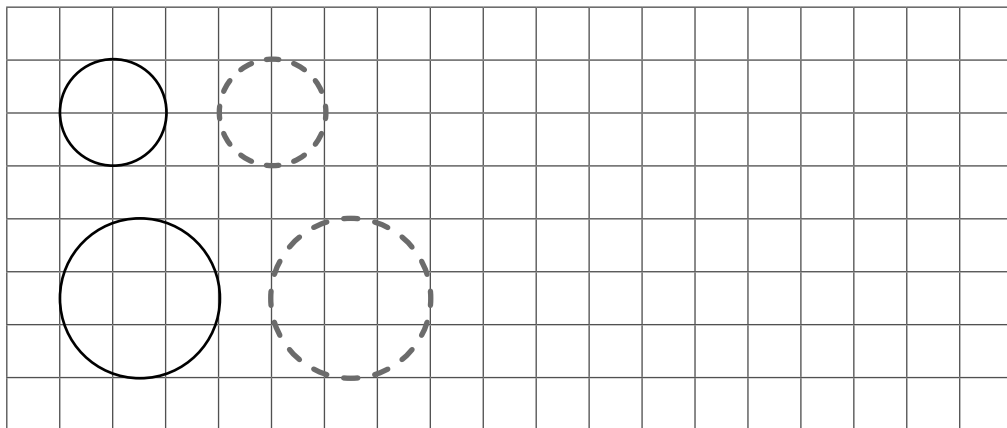


7



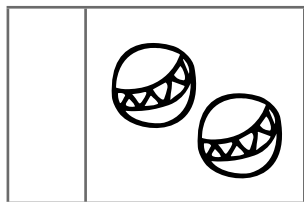
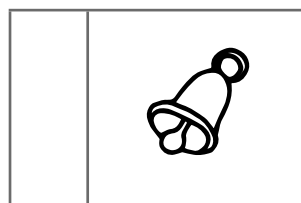

# ЗАНЯТИЕ 3



Обведи круги по пунктиру и продолжи рисовать их самостоятельно.


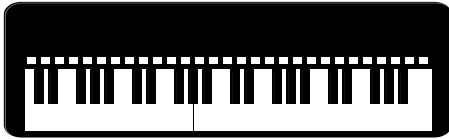
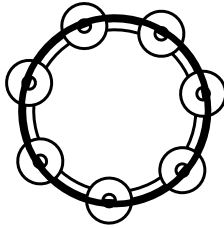
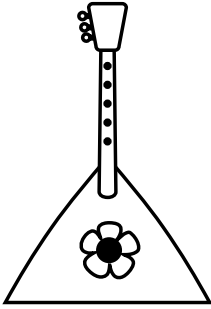


Нарисуй рядом с каждой рамкой столько кружков, сколько предметов в рамке.



3

На какие геометрические фигуры похожи музыкальные инструменты? На каком из них умеет играть Петя, если у этого инструмента нет углов? Обведи его.



4

Какие предметы ты видишь на картинке? Сосчитай их. Какой предмет лишний? Почему?



# ЗАНЯТИЕ 4

1

Послушай стихотворение. Сколько всего грибов ты видишь на картинке? Запиши, как получилось число 3.



Прыгая в лесу по кочкам,  
Белочка нашла грибочки.  
Разложила их на ветке:  
Два себе, один соседке.



	+		=	3
--	---	--	---	---

2

Обведи цифру 3 по пунктиру и продолжи писать самостоятельно. Раскрась у первой пирамидки кольца красным карандашом, у второй — два кольца синим и одно жёлтым, у третьей — каждое кольцо своим цветом.

