

Общероссийский проект «Безопасность Дорожного Движения»

**ЭКЗАМЕНАЦИОННЫЕ  
БИЛЕТЫ**  
для сдачи экзаменов на права  
категорий  
**A | B | M**  
**ПОДКАТЕГОРИЙ A1, B1**

с самыми последними изменениями на 2024 год



Москва  
2024

**В каком случае водитель совершит вынужденную остановку?**

1. Остановившись непосредственно перед пешеходным переходом, чтобы уступить дорогу пешеходу.
2. Остановившись на проезжей части из-за технической неисправности транспортного средства.
3. В обоих перечисленных случаях.

1



**Разрешен ли Вам поворот на дорогу с грунтовым покрытием?**

1. Разрешен.
2. Разрешен только при технической неисправности транспортного средства.
3. Запрещен.

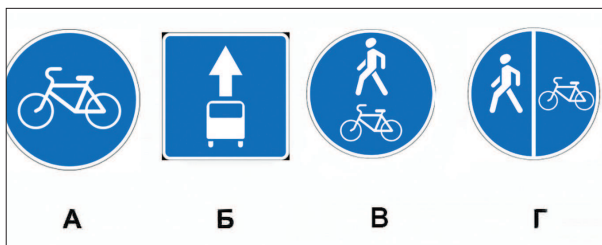
2



**Можно ли Вам остановиться в указанном месте для посадки пассажира?**

1. Можно.
2. Можно, если Вы управляете такси.
3. Нельзя.


3



**Какие из указанных знаков запрещают движение водителям мопедов?**

1. Только А.
2. Только Б.
3. В и Г.
4. Все.

4



**Вы намерены повернуть налево. Где следует остановиться, чтобы уступить дорогу легковому автомобилю?**

1. Перед знаком.
2. Перед перекрестком у линии разметки.
3. На перекрестке перед прерывистой линией разметки.
4. В любом месте по усмотрению водителя.

5

**Что означает мигание зеленого сигнала светофора?**


1. Предупреждает о неисправности светофора.
2. Разрешает движение и информирует о том, что вскоре будет включен запрещающий сигнал.
3. Запрещает дальнейшее движение.

6

**Водитель обязан подавать сигналы световыми указателями поворота (рукой):**

1. Перед началом движения или перестроением.
2. Перед поворотом или разворотом.
3. Перед остановкой.
4. Во всех перечисленных случаях.

7



**Как Вам следует поступить при повороте направо?**

1. Перестроиться на правую полосу, затем осуществить поворот.
2. Продолжить движение по второй полосе до перекрестка, затем повернуть.
3. Возможны оба варианта действий.

8



**По какой траектории Вам разрешено выполнить разворот?**

1. Только по А.
2. Только по Б.
3. По любой из указанных.

9



**С какой скоростью Вы можете продолжить движение вне населенного пункта по левой полосе на легковом автомобиле?**

1. Не более 50 км/ч.
2. Не менее 50 км/ч и не более 70 км/ч.
3. Не менее 50 км/ч и не более 90 км/ч.

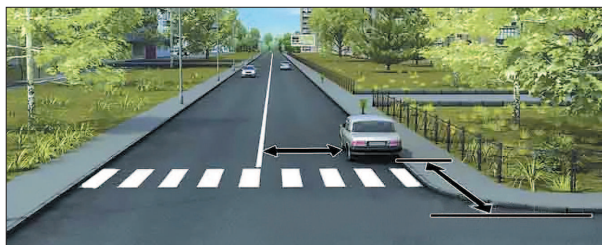
10



Можно ли водителю легкового автомобиля выполнить опережение грузовых автомобилей вне населенного пункта по такой траектории?

1. Можно.
2. Можно, если скорость грузовых автомобилей менее 30 км/ч.
3. Нельзя.

11



В каком случае водителю разрешается поставить автомобиль на стоянку в указанном месте?

1. Только если расстояние до сплошной линии разметки не менее 3 м.
2. Только если расстояние до края пересекаемой проезжей части не менее 5 м.
3. При соблюдении обоих перечисленных условий.


12



При повороте направо Вы должны уступить дорогу:

1. Только велосипедисту.
2. Только пешеходам.
3. Пешеходам и велосипедисту.
4. Никому.

13



Вы намерены проехать перекресток в прямом направлении. Кому Вы должны уступить дорогу?

1. Обоим трамваям.
2. Только трамваю А.
3. Только трамваю Б.
4. Никому.

14



Кому Вы обязаны уступить дорогу при повороте налево?

1. Только автобусу.
2. Только легковому автомобилю.
3. Никому.

15



С какой максимальной скоростью можно продолжить движение за знаком?

1. 60 км/ч.
2. 50 км/ч.
3. 30 км/ч.
4. 20 км/ч.

**16**

Для перевозки людей на мотоцикле водитель должен иметь водительское удостоверение на право управления транспортными средствами:

1. Категории «А» или подкатегории «А1».
2. Любой категории или подкатегории в течение двух и более лет.
3. Только категории «А» или подкатегории «А1» в течение двух и более лет.

**17**

При какой неисправности разрешается эксплуатация транспортного средства?

1. Не работают пробки топливных баков.
2. Не работает механизм регулировки положения сиденья водителя.
3. Не работают устройства обогрева и обдува стекол.
4. Не работает стеклоподъемник.

**18**

В случае, когда правые колеса автомобиля наезжают на неукрепленную влажную обочину, рекомендуется:

1. Затормозить и полностью остановиться.
2. Затормозить и плавно направить автомобиль на проезжую часть.
3. Не прибегая к торможению, плавно направить автомобиль на проезжую часть.

**19**

Что понимается под временем реакции водителя?

1. Время с момента обнаружения водителем опасности до полной остановки транспортного средства.
2. Время с момента обнаружения водителем опасности до начала принятия мер по ее избежанию.
3. Время, необходимое для переноса ноги с педали управления подачей топлива на педаль тормоза.

**20**



Сколько полос для движения имеет данная дорога?

1. Две.
2. Четыре.
3. Пять.

1



Можно ли Вам въехать на мост первым?

1. Можно.
2. Можно, если Вы не затрудните движение встречному автомобилю.
3. Нельзя.

2



Разрешено ли Вам произвести остановку для посадки пассажира?

1. Разрешено.
2. Разрешено только по четным числам месяца.
3. Разрешено только по нечетным числам месяца.
4. Запрещено.

3



Что запрещено в зоне действия этого знака?

1. Движение любых транспортных средств.
2. Движение всех транспортных средств со скоростью не более 20 км/ч.
3. Движение механических транспортных средств.


4



Разрешен ли Вам выезд на полосу с реверсивным движением, если реверсивный светофор выключен?

1. Разрешен.
2. Разрешен, если скорость автобуса менее 30 км/ч.
3. Запрещен.


5



Информационная световая секция в виде силуэта пешехода и стрелки с мигающим сигналом бело-лунного цвета, расположенная под светофором, информирует водителя о том, что:

1. На пешеходном переходе, в направлении которого он поворачивает, включен сигнал светофора, разрешающий движение пешеходам.
2. На пешеходном переходе, в направлении которого он поворачивает, включен сигнал светофора, запрещающий движение пешеходам.
3. Он поворачивает в направлении пешеходного перехода.

6



Поднятая вверх рука водителя легкового автомобиля является сигналом, информирующим Вас о его намерении:

1. Повернуть направо.
2. Продолжить движение прямо.
3. Снизить скорость, чтобы остановиться и уступить дорогу мотоциклу.


7



Двигаясь по левой полосе, водитель намерен перестроиться на правую. На каком из рисунков показана ситуация, в которой он обязан уступить дорогу?

1. На левом.
2. На правом.
3. На обоих.

8



Можно ли Вам выполнить разворот в этом месте?

1. Можно.
2. Можно только при отсутствии приближающегося поезда.
3. Нельзя.

9

В каких случаях разрешается наезжать на прерывистые линии разметки, разделяющие проезжую часть на полосы движения?

1. Только если на дороге нет других транспортных средств.
2. Только при движении в темное время суток.
3. Только при перестроении.
4. Во всех перечисленных случаях.

10



**Разрешено ли Вам обогнать мотоцикл?**

1. Разрешено.
2. Разрешено, если водитель мотоцикла снизил скорость.
3. Запрещено.

**11**

**Разрешается ли Вам остановиться в указанном месте?**

1. Разрешается.
2. Разрешается, если автомобиль будет находиться не ближе 5 м от края пересекаемой проезжей части.
3. Запрещается.

**12**

**Вы намерены повернуть налево. Кому Вы должны уступить дорогу?**

1. Только пешеходам.
2. Только автобусу.
3. Автобусу и пешеходам.

**13**

**В каком случае Вы имеете преимущество?**

1. Только при повороте направо.
2. Только при повороте налево.
3. В обоих перечисленных случаях.

**14**

**Обязан ли водитель мотоцикла уступить Вам дорогу?**

1. Обязан.
2. Не обязан.

**15**



Разрешается ли водителю выполнить объезд грузового автомобиля?

1. Разрешается.
2. Разрешается, если между шлагбаумом и остановившимся грузовым автомобилем расстояние более 5 м.
3. Запрещается.

16

В каких из перечисленных случаев запрещена буксировка на гибкой сцепке?

1. Только на горных дорогах.
2. Только в гололедицу.
3. Только в темное время суток и в условиях недостаточной видимости.
4. Во всех перечисленных случаях.

17

Запрещается эксплуатация мототранспортных средств (категории L), если остаточная глубина рисунка протектора шин (при отсутствии индикаторов износа) составляет не более:

1. 0,8 мм.
2. 1,0 мм.
3. 1,6 мм.
4. 2,0 мм.

18

Исключает ли антиблокировочная тормозная система возможность возникновения заноса или сноса при прохождении поворота?

1. Полностью исключает возможность возникновения только заноса.
2. Полностью исключает возможность возникновения только сноса.
3. Не исключает возможность возникновения сноса или заноса.

19

В каких случаях следует начинать сердечно-легочную реанимацию пострадавшего?

1. При наличии болей в области сердца и затрудненного дыхания.
2. При отсутствии у пострадавшего сознания, независимо от наличия дыхания.
3. При отсутствии у пострадавшего сознания, дыхания и кровообращения.

20



**Выезжая с грунтовой дороги на перекресток, Вы попадаете:**

1. На главную дорогу.
2. На равнозначную дорогу, поскольку отсутствуют знаки приоритета.
3. На равнозначную дорогу, поскольку проезжая часть имеет твердое покрытие перед перекрестком.


**1**



**Где Вы должны остановиться?**

1. Перед знаком (А).
2. Перед перекрестком (Б).
3. Перед краем пересекаемой проезжей части (В).

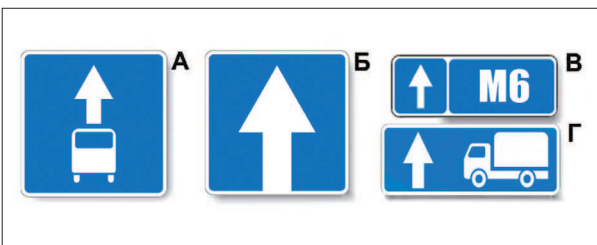
**2**



**Вам необходимо двигаться со скоростью не более 40 км/ч:**

1. Только во время дождя.
2. Во время выпадения осадков (дождя, града, снега).
3. Во всех случаях, когда покрытие проезжей части влажное.


**3**



**Какой из указанных знаков устанавливается в начале дороги с односторонним движением?**

1. Только А.
2. Только Б.
3. Б или Г.
4. Б или В.

**4**



**Можно ли Вам остановиться в этом месте для посадки или высадки пассажиров?**

1. Можно.
2. Можно, если при этом не будут созданы помехи движению маршрутных транспортных средств.
3. Нельзя.

**5**



При повороте направо Вы:

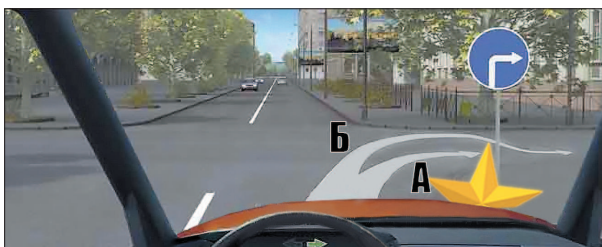
1. Имеете право проехать перекресток первым.
2. Должны уступить дорогу только пешеходам.
3. Должны уступить дорогу автомобилю с включенными проблесковым маячком и специальным звуковым сигналом, а также пешеходам.

6

В каких случаях водитель не должен подавать сигнал указателями поворота?

1. Только при отсутствии на дороге других участников движения.
2. Только если сигнал может ввести в заблуждение других участников движения.
3. В обоих перечисленных случаях.

7



Вам разрешено выполнить поворот направо:

1. Только по траектории А.
2. Только по траектории Б.
3. По любой траектории из указанных.


8



Разрешается ли Вам выполнить разворот на перекрестке по указанной траектории?

1. Разрешается.
2. Разрешается, если видимость дороги не менее 100 м.
3. Запрещается.

9



По какой полосе Вы имеете право двигаться с максимально разрешенной скоростью вне населенных пунктов?


1. Только по правой.
2. Только по левой.
3. По любой.

10

**В каком случае водитель может начать обгон, если такой маневр на данном участке дороги не запрещен?**

1. Только если полоса, предназначенная для встречного движения, свободна на достаточном для обгона расстоянии.
2. Только если его транспортное средство никто не обгоняет.
3. В случае, если выполнены оба условия.


11



**Кто из водителей нарушил правила стоянки?**

1. Оба.
2. Только водитель автомобиля.
3. Только водитель мотоцикла.
4. Никто не нарушил.


12



**При движении прямо Вы:**

1. Должны остановиться перед стоп-линией.
2. Можете продолжить движение через перекресток без остановки.
3. Должны уступить дорогу транспортным средствам, движущимся с других направлений.

13



**Вы намерены повернуть направо. Ваши действия?**

1. Проедете перекресток первым.
2. Уступите дорогу легковому автомобилю.
3. Уступите дорогу обоим транспортным средствам.

14



**Кому Вы обязаны уступить дорогу при повороте налево?**

1. Трамваям А и Б.
2. Трамваю А и легковому автомобилю.
3. Только трамваю А.
4. Никому.

15



Кто из водителей нарушил правила остановки?

1. Только водитель легкового автомобиля.
2. Только водитель грузового автомобиля.
3. Оба.

16

Какое оборудование должно иметь механическое транспортное средство, используемое для обучения вождению?

1. Дополнительные педали привода сцепления (кроме транспортных средств с автоматической трансмиссией) и тормоза.
2. Зеркало заднего вида для обучающего вождению.
3. Оповестительные знаки «Учебное транспортное средство».
4. Все перечисленное оборудование.

17

В каких случаях запрещается эксплуатация мотоцикла?

1. Подножки или рукоятки пассажиров на седле не имеют прорезиненного покрытия.
2. Имеется люфт в соединениях рамы мотоцикла с рамой бокового прицепа.
3. Отсутствует огнетушитель.

18

На повороте возник занос задней оси переднеприводного автомобиля. Ваши действия?

1. Уменьшите подачу топлива, рулевым колесом стабилизируете движение.
2. Притормозите и повернете рулевое колесо в сторону заноса.
3. Слегка увеличите подачу топлива, корректируя направление движения рулевым колесом.
4. Значительно увеличите подачу топлива, не меняя положения рулевого колеса.

19

Какие сведения необходимо сообщить диспетчеру для вызова скорой медицинской помощи при дорожно-транспортном происшествии (ДТП)?

1. Указать общеизвестные ориентиры, ближайшие к месту ДТП. Сообщить о количестве пострадавших, указать их пол и возраст.
2. Указать улицу и номер дома, ближайшего к месту ДТП. Сообщить, кто пострадал в ДТП (пешеход, водитель автомобиля или пассажиры), и описать травмы, которые они получили.
3. Указать место ДТП (назвать улицу, номер дома и общеизвестные ориентиры, ближайшие к месту ДТП). Сообщить: количество пострадавших, их пол, примерный возраст, наличие у них сознания, дыхания, кровообращения, а также сильного кровотечения, переломов и других травм. Дождаться сообщения диспетчера о том, что вызов принят.

20



Сколько полос для движения имеет проезжая часть данной дороги?

1. Одну полосу.
2. Две полосы.
3. Три полосы.


1



Эти знаки предупреждают Вас:

1. О наличии через 500 м опасных поворотов.
2. О том, что на расстоянии 150–300 м за дорожным знаком начнется участок дороги протяженностью 500 м с опасными поворотами.
3. О том, что сразу за знаком начнется участок протяженностью 500 м с опасными поворотами.

2



Какой из указанных знаков распространяет свое действие только на ту полосу, над которой он установлен?

1. Только А.
2. Только Б.
3. Б и В.

3



Вы буксируете неисправный автомобиль. По какой полосе Вам можно продолжить движение в населенном пункте?


1. Только по правой.
2. Только по левой.
3. По любой.

4

Что означает разметка в виде надписи «СТОП» на проезжей части?

1. Предупреждает о приближении к стоп-линии перед регулируемым перекрестком.
2. Предупреждает о приближении к стоп-линии и знаку «Движение без остановки запрещено».
3. Предупреждает о приближении к знаку «Уступите дорогу».


5



**Каким транспортным средствам разрешено движение прямо?**

1. Только грузовому автомобилю.
2. Легковому и грузовому автомобилям.
3. Грузовому автомобилю и автобусу.
4. Всем перечисленным транспортным средствам.

6



**Вы намерены продолжить движение по главной дороге.**

**Обязаны ли Вы при этом включить указатели правого поворота?**

1. Обязаны.
2. Обязаны только при наличии движущегося сзади транспортного средства.
3. Не обязаны.


7



**Кто должен уступить дорогу?**

1. Водитель грузового автомобиля.
2. Водитель легкового автомобиля.

8



**Вам можно выполнить разворот:**

1. Только по траектории А.
2. Только по траектории Б.
3. По любой траектории из указанных.

9

**По какой полосе проезжей части разрешено движение в населенном пункте, если по техническим причинам транспортное средство не может развивать скорость более 40 км/ч?**

1. Только по крайней правой.
2. Не далее второй полосы.
3. По любой, кроме крайней левой.

10