

ЭКЗАМЕНАЦИОННЫЕ БИЛЕТЫ

для сдачи экзамена
на права категорий «А», «В», «М»;
подкатегорий «А1» и «В1»

УДК 656.1
ББК 39.808
336

*Все права защищены.
Ни одна часть данного издания не может быть воспроизведена
или использована в какой-либо форме, включая электронную, фотокопирование,
магнитную запись или какие-либо иные способы хранения и воспроизведения информации,
без предварительного письменного разрешения правообладателя.*

336 **Экзаменационные** билеты для сдачи экзамена на права категорий А, В и М, подкатегорий А1 и В1 на 2026 год — Москва: Издательство АСТ, 2026. — 208 с.

ISBN 978-5-17-181900-2 (ПДД)
ISBN 978-5-17-185266-5 (Жажда вождения)

В книге представлено 40 билетов по 20 экзаменационных вопросов, которые составлены в соответствии с официальным источником на 2026 год. Все билеты подкреплены разъяснениями и правильными ответами для самопроверки. Вопросы экзаменационных билетов написаны для сдачи экзамена на водительские права категорий А, В и М, подкатегорий А1 и В1 и позволяют проверить знания ПДД РФ. В конце издания предусмотрены обновленные дорожные знаки и разметка.

Данная книга отлично подойдет для тех, кто хочет сдать теоретический экзамен на права в ГИБДД с первого раза.

Издание учитывает все изменения, опубликованные в официальных источниках на момент подписания издания в печать.

УДК 656.1
ББК 39.808



Для широкого круга читателей

*Серия «ПДД»
Серия «Жажда вождения»*

Экзаменационные билеты для сдачи экзамена на права категорий А, В и М, подкатегорий А1 и В1 на 2026 год

Шеф-редактор А. Алексашина
Ведущий редактор А. Рим
Редактор Д. Кузнецова
Технический редактор Н. Чернышева
Дизайн обложки А. Закопайко
Компьютерная верстка О. Недосекина

Подписано в печать 26.02.2026. Формат 84x108 1/16. Усл. печ. л. 21.84
Печать офсетная. Гарнитура Pragmatica. Бумага газетная.

Тираж 7 000 экз. (ПДД) Заказ №
Тираж 3 000 экз. (Жажда вождения) Заказ №

Произведено в Российской Федерации Изготовлено в 2026 году
ООО «Издательство АСТ»
129085, г. Москва, Звёздный бульвар, дом 21, строение 1, комната 705, пом. I, 7 этаж.
Наш электронный адрес: www.ast.ru E-mail: ask@ast.ru

«Баспа Аста» деген ООО
129085, Мәскеу қ., Звёздный бульвары, 21-үй, 1-құрылыс, 705-бөлме, I жай, 7-қабат.
Біздің электрондық мекенжайымыз: www.ast.ru
Интернет-магазин: www.book24.kz
Интернет-дүкен: www.book24.kz

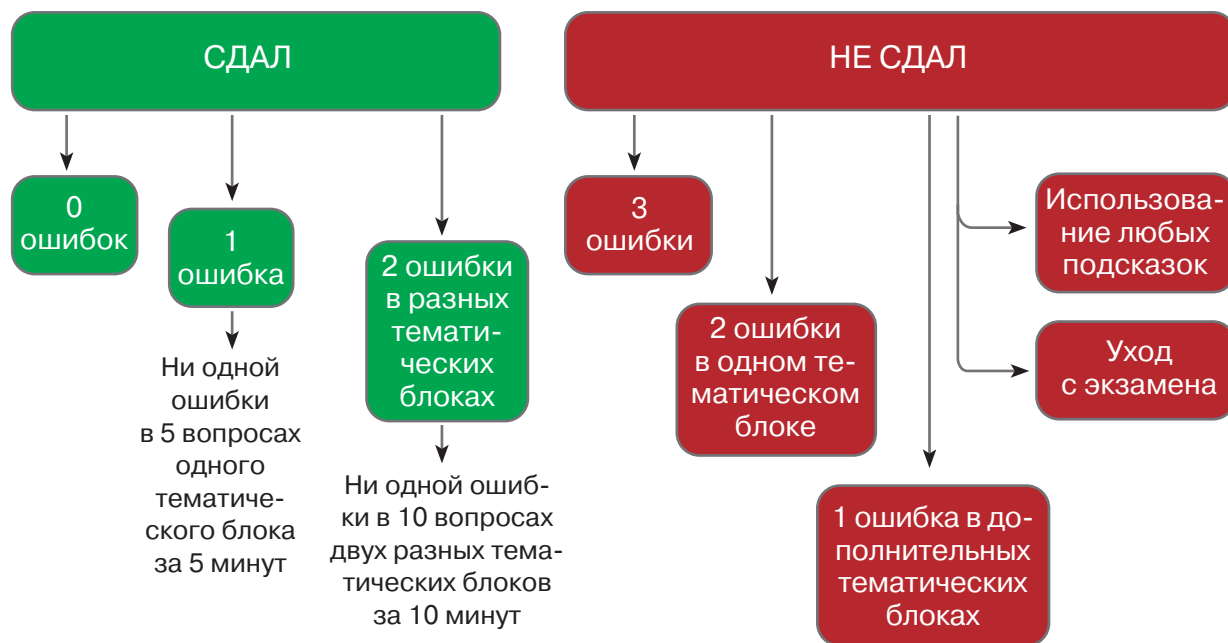
Импортер в Республику Казахстан ТОО «РДЦ-Алматы».
Қазақстан Республикасындағы импорттаушы «РДЦ-Алматы» ЖШС.
Дистрибьютор и представитель по приему претензий на продукцию в Республике Казахстан: ТОО «РДЦ-Алматы» Қазақстан Республикасында дистрибьютор және өнім бойынша арыз-талаптарды қабылдаушының өкілі «РДЦ-Алматы» ЖШС, Алматы қ., Домбровский көш., 3а, литер Б, офис 1.
Тел.: 8(727) 251 59 89, 90,91,92. Факс: 8(727) 251 58 12, вн. 107;
E-mail: RDC-Almaty@eksmo.kz
Тауар белгісі: «АСТ» Өндірілген жылы: 2026. Өнімнің жарамдылық; мерзімі шектелмеген.

ISBN 978-5-17-181900-2 (ПДД)
ISBN 978-5-17-185266-5 (Жажда вождения)

© 000 «Издательство АСТ»

ВВЕДЕНИЕ

Схема оценки знаний на теоретическом экзамене
(20 минут на 20 вопросов в четырех тематических блоках)



Перечень тем для проверки знаний

Разделы Правил дорожного движения и другие темы	Номера задач в экзаменационных билетах
Раздел 1 «Общие положения» Раздел 2 «Общие обязанности водителей» Раздел 4 «Обязанности пешеходов» Раздел 5 «Обязанности пассажиров»	1
Приложение 1 к ПДД «Дорожные знаки»	2, 3, 4
Приложение 2 к ПДД «Дорожная разметка и ее характеристики»	5
Раздел 3 «Применение специальных сигналов» Раздел 6 «Сигналы светофора и регулировщика»	6
Раздел 7 «Применение аварийной сигнализации и знака аварийной остановки» Раздел 8 «Начало движения, маневрирование»	7, 8, 9
Раздел 9 «Расположение транспортных средств на проезжей части» Раздел 10 «Скорость движения»	10
Раздел 11 «Обгон, опережение, встречный разъезд»	11
Раздел 12 «Остановка и стоянка»	12
Раздел 13 «Проезд перекрестков»	13, 14, 15

Разделы Правил дорожного движения и другие темы	Номера задач в экзаменационных билетах
Раздел 14 «Пешеходные переходы и места остановок маршрутных транспортных средств» Раздел 15 «Движение через железнодорожные пути» Раздел 16 «Движение по автомагистралям» Раздел 17 «Движение в жилых зонах» Раздел 18 «Приоритет маршрутных транспортных средств»	16
Раздел 19 «Пользование внешними световыми приборами и звуковыми сигналами» Раздел 20 «Буксировка механических транспортных средств» Раздел 21 «Учебная езда» Раздел 22 «Перевозка людей» Раздел 23 «Перевозка грузов» Раздел 24 «Дополнительные требования к движению велосипедистов и водителей мопедов» Раздел 25 «Дополнительные требования к движению гужевых повозок, а также к прогону животных»	17
Основные положения по допуску транспортных средств к эксплуатации и обязанности должностных лиц по обеспечению безопасности дорожного движения Основы безопасности дорожного движения Оказание первой медицинской помощи Ответственность водителя транспортного средства	18, 19, 20

Обратите внимание, что тематические блоки к билетам приводятся по порядку номеров вопросов: это вопросы № 1–5; 6–10; 11–15; 16–20.

К работе с этим пособием рекомендуется приступить после изучения всех разделов Правил дорожного движения. Дорожные знаки необходимо учить наизусть, как в свое время учили таблицу умножения в школе. Знаки должны узнаваться сразу и без ошибок. В дорожных ситуациях время исчисляется долями секунд и его нельзя тратить на размышления, что означает тот или иной знак на дороге.

При изучении порядка проезда различных перекрестков механическое запоминание невозможно. Нет единого алгоритма или правила, позволяющего сделать это без ошибки. В каждом случае необходимо логическое рассуждение, учитывающее расположение знаков, светофоров, особенности разметки и регулирования. Помните: если вы серьезно готовились к экзамену и изучали теорию, проходили онлайн-тестирования и внутренние экзамены в автошколе, разобрали все вопросы при подготовке к сдаче теории, все должно получиться. Остается пожелать Вам успеха в подготовке к теоретическому экзамену.

Всего Вам хорошего и успехов на дорогах!

БИЛЕТ № 1

Вопрос 1

В каком случае водитель совершит вынужденную остановку?

1. Остановившись непосредственно перед пешеходным переходом, чтобы уступить дорогу пешеходу.
2. Остановившись на проезжей части из-за технической неисправности транспортного средства.
3. В обоих перечисленных случаях.



Вопрос 2

Разрешен ли вам съезд на дорогу с грунтовым покрытием?


1. Разрешен.
2. Разрешен только при технической неисправности транспортного средства.
3. Запрещен.



Вопрос 3

Можно ли вам остановиться в указанном месте для посадки пассажира?

1. Можно.
2. Можно, если вы управляете такси.
3. Нельзя.



Вопрос 4

Какие из указанных знаков запрещают движение водителям мопедов?

1. Только А.
2. Только Б.
3. В и Г.
4. Все.



Вопрос 5

Вы намерены повернуть налево. Где следует остановиться, чтобы уступить дорогу легковому автомобилю?

1. Перед знаком.
2. Перед перекрестком у линии разметки.
3. На перекрестке перед прерывистой линией разметки.
4. В любом месте по усмотрению водителя.

Вопрос 6

Что означает мигание зеленого сигнала светофора?

1. Предупреждает о неисправности светофора.
2. Разрешает движение и информирует о том, что вскоре будет включен запрещающий сигнал.
3. Запрещает дальнейшее движение.

Вопрос 7

Водитель обязан подавать сигналы световыми указателями поворота (рукой):

1. Перед началом движения или перестроением.
2. Перед поворотом или разворотом.
3. Перед остановкой.
4. Во всех перечисленных случаях.



Вопрос 8

Как вам следует поступить при повороте направо?

1. Перестроиться на правую полосу, затем осуществить поворот.
2. Продолжить движение по второй полосе до перекрестка, затем повернуть.
3. Возможны оба варианта действий.



Вопрос 9

По какой траектории вам разрешено выполнить разворот?

1. Только по А.
2. Только по Б.
3. По любой из указанных.



Вопрос 10

С какой скоростью вы можете продолжить движение вне населенного пункта по левой полосе на легковом автомобиле?

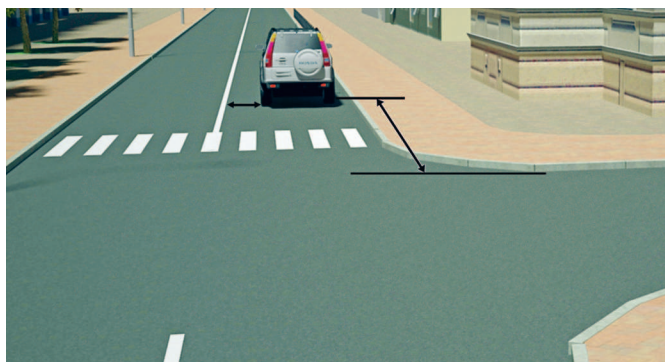
1. Не более 50 км/ч.
2. Не менее 50 и не более 70 км/ч.
3. Не менее 50 и не более 90 км/ч.



Вопрос 11

Можно ли водителю легкового автомобиля выполнить опережение грузовых автомобилей вне населенного пункта по такой траектории?


1. Можно.
2. Можно, если скорость грузовых автомобилей менее 30 км/ч.
3. Нельзя.



Вопрос 12

В каком случае водителю разрешается поставить автомобиль на стоянку в указанном месте?


1. Только если расстояние до сплошной линии разметки не менее 3 м.
2. Только если расстояние до края проезжей части не менее 5 м.
3. При соблюдении обоих перечисленных условий.



Вопрос 13

При повороте направо вы должны уступить дорогу:

1. Только велосипедисту.
2. Только пешеходам.
3. Пешеходам и велосипедисту.
4. Никому.



Вопрос 14

Вы намерены проехать перекресток в прямом направлении. Кому следует уступить дорогу?

1. Обоим трамваям.
2. Только трамваю А.
3. Только трамваю Б.
4. Никому.



Вопрос 15

Кому вы обязаны уступить дорогу при повороте налево?

1. Только автобусу.
2. Только легковому автомобилю.
3. Никому.

**Вопрос 16**

С какой максимальной скоростью можно продолжить движение за знаком?

1. 60 км/ч.
2. 50 км/ч.
3. 30 км/ч.
4. 20 км/ч.

Вопрос 17

Для перевозки людей на мотоцикле водитель должен иметь водительское удостоверение на право управления транспортными средствами:

1. Категории «А» или подкатегории «А1».
2. Любой категории или подкатегории в течение двух и более лет.
3. Только категории «А» или подкатегории «А1» в течение двух и более лет.

Вопрос 18

При какой неисправности разрешается эксплуатация транспортного средства?

1. Не работают запорные устройства топливных баков.
2. Не работают механизм регулировки и фиксирующее устройство сиденья водителя.
3. Не работает устройство обдува ветрового стекла.
4. Не работает стеклоподъемник.

Вопрос 19

В случае, когда правые колеса автомобиля наезжают на неукрепленную влажную обочину, рекомендуется:

1. Затормозить и полностью остановиться.
2. Затормозить и плавно направить автомобиль на проезжую часть.
3. Не прибегая к торможению, плавно направить автомобиль на проезжую часть.

Вопрос 20

Что понимается под временем реакции водителя?

1. Время с момента обнаружения водителем опасности до полной остановки транспортного средства.
2. Время с момента обнаружения водителем опасности до начала принятия мер по ее избежанию.
3. Время, необходимое для переноса ноги с педали управления подачей топлива на педаль тормоза.

БИЛЕТ № 1. ОТВЕТЫ С КОММЕНТАРИЯМИ

Вопрос 1. Правильный ответ — 2

Вынужденная остановка — остановка ТС из-за его технической неисправности, опасности, создаваемой перевозимым грузом, состоянием водителя (пассажира), препятствием на дороге. Из перечисленных случаев вынужденной является только остановка из-за технической неисправности автомобиля.

Вопрос 2. Правильный ответ — 1

Знаки 1.11.2 «Опасный поворот» и 1.34.2 «Направление поворота» указывают направление движения на закруглениях дороги малого радиуса с ограниченной видимостью и не запрещают съезд на дорогу с грунтовым покрытием.

Вопрос 3. Правильный ответ — 1

Остановку сделать можно, поскольку знак 3.28 с табличкой 8.2.2 запрещают на протяжении 50 м только стоянку.

Вопрос 4. Правильный ответ — 4

Знаки 4.4.1 «Велосипедная дорожка», 5.14 «Полоса для маршрутных транспортных средств», 4.5.2 «Пешеходная и велосипедная дорожки с совмещенным движением», 4.5.4 «Пешеходная и велосипедная дорожка с разделением движения» запрещают движение водителям мопедов.

Вопрос 5. Правильный ответ — 2

Учитывая требования знака 2.4 «Уступите дорогу», необходимо остановиться перед перекрестком у линии разметки 1.13 (в виде линии из треугольников).

Вопрос 6. Правильный ответ — 2

Мигающий зеленый сигнал светофора предупреждает водителей транспортных средств, что вскоре загорится желтый сигнал.

Вопрос 7. Правильный ответ — 4

Перед началом движения, перестроением, поворотом (разворотом) и остановкой водитель обязан подавать сигналы световыми указателями поворота соответствующего направления, а если они отсутствуют или неисправны — рукой (пункт 8.1 ПДД).

Вопрос 8. Правильный ответ — 3

Дорожная разметка 1.18 разрешает повернуть направо как с правой, так и с левой полосы. Выполнить поворот можно, заранее перестроившись на крайнюю правую полосу (пункт 8.5 ПДД), или продолжив движение по левой полосе.

Вопрос 9. Правильный ответ — 1

Правилами установлено правостороннее движение (пункт 1.4). При развороте водитель обязан двигаться по правой стороне, чтобы не допустить встречного движения (на рисунке этому требованию соответствует траектория А).

Вопрос 10. Правильный ответ — 3

В соответствии со знаком 4.6 «Ограничение минимальной скорости» и табличкой 8.14 «Полоса движения» по левой полосе можно двигаться со скоростью не менее 50 км/ч и не более 90 км/ч, допустимой для дорог вне населенных пунктов (за исключением автомагистралей).

Вопрос 11. Правильный ответ — 1

На нерегулируемых перекрестках запрещен обгон на дороге, которая не является главной (пункт 11.4 ПДД). Поскольку водитель легкового автомобиля движется по главной дороге с двумя полосами движения в каждом направлении, он может совершить опережение грузовых автомобилей по любой траектории.

Вопрос 12. Правильный ответ — 3

Пункт 12.4 ПДД запрещает остановку при расстоянии между сплошной линией разметки и остановившимся транспортным средством менее 3 м и ближе 5 м от края пересекаемой проезжей части (у перекрестков). В этом случае водитель не нарушит правила стоянки.

Вопрос 13. Правильный ответ — 3

При повороте направо или налево водитель обязан уступить дорогу пешеходам, переходящим проезжую часть дороги, на которую он поворачивает, а также велосипедистам, пересекающим ее по велосипедной дорожке (пункт 13.1 ПДД).

Вопрос 14. Правильный ответ — 1

На нерегулируемом перекрестке равнозначных дорог трамвай имеет преимущество перед безрельсовыми транспортными средствами независимо от направления его движения (пункт 13.11 ПДД).

Вопрос 15. Правильный ответ — 3

Вы пересекаете перекресток по направлению главной дороги, поэтому имеете преимущество перед автобусом (он тоже находится на главной дороге, но у него есть «помеха справа» — ваш автомобиль) и перед легковым автомобилем, находящимся на второстепенной дороге (пункты 13.9, 13.10, 13.11 ПДД).

Вопрос 16. Правильный ответ — 4

Автомобиль въезжает на территорию жилой зоны (знак 5.21 «Жилая зона»), где разрешено движение со скоростью не более 20 км/ч (пункт 10.2 ПДД).

Вопрос 17. Правильный ответ — 3

Перевозка людей на мотоцикле должна осуществляться водителем, имеющим право управления ТС категории «А» или подкатегории «А1» в течение двух и более лет (пункт 22.2(1) ПДД).

Вопрос 18. Правильный ответ — 4

В соответствии с Перечнем неисправностей автомобиль разрешается эксплуатировать только при неработающем стеклоподъемнике.

Вопрос 19. Правильный ответ — 3

Возможен занос автомобиля из-за разницы сцепления правых и левых колес с поверхностью дороги. В подобных случаях рекомендуется без торможения и без изменения скорости вернуть автомобиль на проезжую часть плавным поворотом руля.

Вопрос 20. Правильный ответ — 2

Время реакции водителя — это время, которое проходит с момента обнаружения опасности до начала принятия мер по ее избежанию.

БИЛЕТ № 2



Вопрос 1

Сколько полос для движения имеет данная дорога?

1. Две.
2. Четыре.
3. Пять.



Вопрос 2

Можно ли вам въехать на мост первым?

1. Можно.
2. Можно, если вы не затрудните движение встречному автомобилю.
3. Нельзя.



Вопрос 3

Разрешено ли вам произвести остановку для посадки пассажира?

1. Разрешено.
2. Разрешено только по четным числам месяца.
3. Разрешено только по нечетным числам месяца.
4. Запрещено.



Вопрос 4

Что запрещено в зоне действия этого знака?


1. Движение любых транспортных средств.
2. Движение всех транспортных средств со скоростью не более 20 км/ч.
3. Движение механических транспортных средств.



Вопрос 5

Разрешен ли вам выезд на полосу с реверсивным движением, если реверсивный светофор выключен?

1. Разрешен.
2. Разрешен, если скорость автобуса менее 30 км/ч.
3. Запрещен.



Вопрос 8

Двигаясь по левой полосе, вы намерены перестроиться на правую. На каком из рисунков показана ситуация, в которой вы обязаны уступить дорогу?

1. На левом.
2. На правом.
3. На обоих.



Вопрос 10

В каких случаях разрешается наезжать на прерывистые линии разметки, разделяющие проезжую часть на полосы движения?

1. Только если на дороге нет других транспортных средств.
2. Только при движении в темное время суток.
3. Только при перестроении.
4. Во всех перечисленных случаях.

Вопрос 6

Информационная световая секция в виде силуэта пешехода и стрелки с мигающим сигналом бело-лунного цвета, расположенная под светофором, информирует водителя о том, что:

1. На пешеходном переходе, в направлении которого он поворачивает, включен сигнал светофора, разрешающий движение пешеходам.
2. На пешеходном переходе, в направлении которого он поворачивает, включен сигнал светофора, запрещающий движение пешеходам.
3. Он поворачивает в направлении пешеходного перехода.

Вопрос 7

Поднятая вверх рука водителя легкого автомобиля является сигналом, информирующим вас о его намерении:

1. Повернуть направо.
2. Продолжить движение прямо.
3. Снизить скорость, чтобы остановиться и уступить дорогу мотоциклу.

Вопрос 9

Можно ли вам выполнить разворот в этом месте?

1. Можно.
2. Можно только при отсутствии приближающегося поезда.
3. Нельзя.



Вопрос 11

Разрешено ли вам обогнать мотоцикл?

1. Разрешено.
2. Разрешено, если водитель мотоцикла снизил скорость.
3. Запрещено.



Вопрос 12

Разрешается ли вам остановиться в указанном месте?

1. Разрешается.
2. Разрешается, если автомобиль будет находиться не ближе 5 м от края пересекаемой проезжей части.
3. Запрещается.



Вопрос 13

Вы намерены повернуть налево. Кому вы должны уступить дорогу?

1. Только пешеходам.
2. Только автобусу.
3. Автобусу и пешеходам.



Вопрос 14

В каком случае вы имеете преимущество?


1. Только при повороте направо.
2. Только при повороте налево.
3. В обоих перечисленных случаях.



Вопрос 15

Обязан ли водитель мотоцикла уступить вам дорогу?

1. Обязан.
2. Не обязан.



Вопрос 16

Разрешается ли водителю выполнить объезд грузового автомобиля?

1. Разрешается.
2. Разрешается, если расстояние между шлагбаумом и остановившимся грузовым автомобилем более 5 м.
3. Запрещается.

Вопрос 17

В каких из перечисленных случаев запрещена буксировка на гибкой сцепке?

1. Только на горных дорогах.
2. Только в гололедицу.
3. Только в темное время суток и в условиях недостаточной видимости.
4. Во всех перечисленных случаях.

Вопрос 18

Запрещается эксплуатация мототранспортных средств (категории L), если остаточная глубина рисунка протектора шин (при отсутствии индикаторов износа) составляет не более:

1. 0,8 мм.
2. 1,0 мм.
3. 1,6 мм.
4. 2,0 мм.

Вопрос 19

Исключает ли антиблокировочная тормозная система возможность возникновения заноса или сноса при прохождении поворота?

1. Полностью исключает возможность возникновения только заноса.
2. Полностью исключает возможность возникновения только сноса.
3. Не исключает возможность возникновения сноса или заноса.

Вопрос 20

В каких случаях следует начинать сердечно-легочную реанимацию пострадавшего?

1. При наличии болей в области сердца и затрудненного дыхания.
2. При отсутствии у пострадавшего сознания, независимо от наличия дыхания.
3. При отсутствии у пострадавшего сознания, дыхания и кровообращения.

БИЛЕТ № 2. ОТВЕТЫ С КОММЕНТАРИЯМИ

Вопрос 1. Правильный ответ — 2

Разделительная полоса делит дорогу на две проезжих части, каждая из которых имеет по две полосы движения (пункт 1.2 ПДД).

Вопрос 2. Правильный ответ — 1

Знак 2.7 «Преимущество перед встречным движением» предоставляет вам право первым проехать узкий участок дороги (мост), а водители встречных транспортных средств обязаны уступить вам дорогу.

Вопрос 3. Правильный ответ — 1

Остановку можно произвести в любой день, поскольку знак 3.29 «Стоянка запрещена по нечетным числам месяца» запрещает только стоянку (по нечетным числам месяца).

Вопрос 4. Правильный ответ — 3

Дорожный знак 5.33 «Пешеходная зона» обозначает начала территории или участка дороги, где разрешается движение только пешеходам и велосипедистам в случаях, установленных пунктами 24.2–24.4 ПДД. Въезжать в эту зону механическим транспортным средствам запрещено.

Вопрос 5. Правильный ответ — 3

При выключенных сигналах реверсивного светофора, который расположен над полосой, обозначенной с обеих сторон разметкой 1.9, въезд на эту полосу запрещен (пункт 6.7 ПДД).

Вопрос 6. Правильный ответ — 1

Информационная световая секция в виде силуэта пешехода и стрелки с мигающим сигналом бело-лунного цвета, расположенная под светофором, информирует водителя о том, что на пешеходном переходе, в направлении которого он поворачивает, включен сигнал светофора, разрешающий движение пешеходам (пункт 6.4 ПДД).

Вопрос 7. Правильный ответ — 3

Поднятая вверх правая или левая рука являются сигналом торможения (пункт 8.1 ПДД). Водитель притормозил перед знаком 2.4 «Уступите дорогу» для того, чтобы пропустить движущегося по пересекаемой проезжей части мотоциклиста. Так как на его автомобиле не работает световая сигнализация, он поднятой рукой подал соответствующий знак едущему следом водителю.

Вопрос 8. Правильный ответ — 3

При перестроении с левой полосы на правую водитель должен уступить дорогу автомобилю, который движется попутно без изменения направления движения. При одновременном перестроении водитель должен уступить ТС, находящемуся справа (пункт 8.4 ПДД).

Вопрос 9. Правильный ответ — 1

Разворот ТС запрещается непосредственно на железнодорожных переездах (пункт 8.11 ПДД). Границей железнодорожного переезда является шлагбаум, а при его отсутствии — знаки 1.3.1 «Однопутная железная дорога» или 1.3.2 «Многопутная железная дорога». Разворот, не доезжая до переезда, не запрещается.

Вопрос 10. Правильный ответ — 3

Наезжать на прерывистые линии разметки разрешается только при перестроении (пункт 9.7 ПДД).

Вопрос 11. Правильный ответ — 3.

На рисунке изображен нерегулируемый перекресток равнозначных дорог. В подобных ситуациях обгон запрещен (пункт 11.4 ПДД). Кроме того, на перекресток справа выезжает автомобиль, который имеет преимущество в движении по правилу «помеха справа» и для мотоциклиста и для вас (пункт 13.1 ПДД).

Вопрос 12. Правильный ответ — 2

Остановка в указанном месте возможна, если расстояние от автомобиля как спереди, так и сзади до края пересекаемой проезжей части составляет не меньше 5 м (пункт 12.4 ПДД).

Вопрос 13. Правильный ответ — 3

Указанный перекресток является регулируемым, следовательно водители должны руководствоваться сигналами светофора, а не знаками приоритета (пункты 6.15, 13.3 ПДД). При повороте налево необходимо уступить дорогу ТС, которые движутся во встречном направлении прямо (пункт 13.4 ПДД), а также переходящим проезжую часть пешеходам (пункт 13.1 ПДД).

Вопрос 14. Правильный ответ — 3

Перекресток равнозначный. Приближающийся слева грузовик имеет «помеху справа». Вы имеете преимущество и можете ехать первым независимо от конфигурации перекрестка (пункт 13.11 ПДД).

Вопрос 15. Правильный ответ — 1

Автомостраль, обозначенная знаком 5.1, является главной дорогой по отношению к примыкающей. В этом случае имеют преимущество ТС, движущиеся по главной дороге. Мотоциклист движется по полосе разгона и должен уступить дорогу (пункт 8.10 ПДД).

Вопрос 16. Правильный ответ — 3

Запрещается объезжать с выездом на полосу встречного движения ТС, стоящие перед железнодорожным переездом (пункт 15.3 ПДД).

Вопрос 17. Правильный ответ — 2

Буксировка транспортных средств на гибкой сцепке запрещена только в гололеду (пункт 20.4 ПДД).

Вопрос 18. Правильный ответ — 1

Для мототранспортных средств, относящихся к транспортным средствам категории L, остаточная глубина рисунка протектора шин (при отсутствии индикаторов износа), при которой запрещается эксплуатация транспортных средств, составляет не более 0,8 мм (пункт 5.4 Перечня неисправностей).


Вопрос 19. Правильный ответ — 3

Антиблокировочная система (АБС) предназначена только для предотвращения блокировки колес автомобиля при торможении и не исключает возникновение заноса или сноса автомобиля при прохождении поворота.

Вопрос 20. Правильный ответ — 3

Проводить сердечно-легочную реанимацию следует при отсутствии трех признаков жизни — при отсутствии сознания, дыхания и кровообращения.


БИЛЕТ № 3



Вопрос 1

Выезжая с грунтовой дороги на перекресток, вы попадаете:

1. На главную дорогу.
2. На равнозначную дорогу, поскольку отсутствуют знаки приоритета.
3. На равнозначную дорогу, поскольку проезжая часть имеет твердое покрытие перед перекрестком.



Вопрос 2

Где вы должны остановиться?

1. Перед знаком (А).
2. Перед перекрестком (Б).
3. Перед краем пересекаемой проезжей части (В).



Вопрос 3

Вам необходимо двигаться со скоростью не более 40 км/ч:

1. Только во время дождя.
2. Во время выпадения осадков (дождя, града, снега).
3. Во всех случаях, когда покрытие проезжей части влажное.



Вопрос 4

Какой из указанных знаков устанавливается в начале дороги с односторонним движением?

1. Только А.
2. Только Б.
3. Б или Г.
4. Б или В.



Вопрос 5

Можно ли вам остановиться в этом месте для посадки или высадки пассажиров?

1. Можно.
2. Можно, если при этом не будут созданы помехи движению маршрутных транспортных средств.
3. Нельзя.