



МИЛЛИОНЫ МИНЬОНОВ

Сколько же здесь миньонов! А где спрятался малыш Грю? Найди его на этой картинке!





Реши все примеры на этой странице.
Смотри, с первым миньоны уже справились!

$$1 + 4 = \boxed{5}$$

$$2 + 2 = \boxed{}$$

$$1 + 1 = \boxed{}$$

$$5 - 3 = \boxed{}$$


$$4 + 7 = \boxed{}$$

$$10 - 4 = \boxed{}$$




ЛЮБИМЫЙ ХОЗЯИН

Помоги миньонам найти имя обожаемого хозяина в этом квадрате. Сколько раз оно здесь встречается? Смотри по вертикали, горизонтали и диагонали!



А	Г	Л	В	И	А	Н	М	А
В	Р	О	М	Т	О	К	Г	Т
А	Ю	К	И	А	В	Д	Р	Ю
И	М	Л	О	Н	И	Л	М	Н
Г	А	Н	Г	Р	Ю	Г	О	А
Р	Л	В	А	О	В	И	А	К
Ю	О	Г	И	М	Л	Г	Д	В
Л	И	В	Р	Т	Р	К	А	Г
Т	А	К	Н	Ю	Д	Л	М	О



 раз 