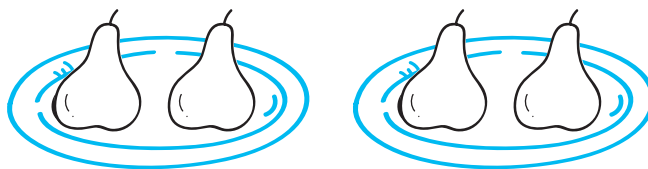


$2 \cdot 6$ $2 \cdot 2$ $2 \cdot 8$ $2 \cdot 4$

Запомни

✿ Сколько всего груш на блюдах?

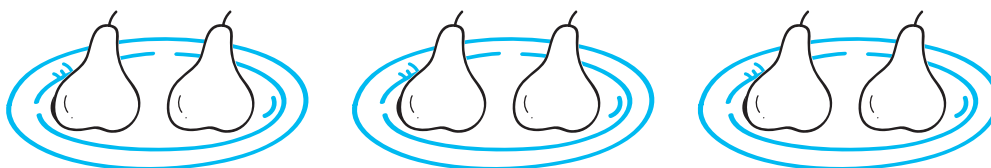


$$2 + 2$$

По 2 груши взяли 2 раза.

2 повторили 2 раза.

$$2 + 2 = 2 \cdot 2 = 4$$



$$2 + 2 + 2$$

По 2 груши взяли 3 раза.

2 повторили 3 раза.

$$2 + 2 + 2 = 2 \cdot 3 = 6$$



✿ По образцу соедини множители и произведения в примерах с их названиями в рамках.

Первый множитель

показывает, какое число повторяется

Второй множитель

показывает, сколько раз это число повторяется

Произведение

результат, сколько получилось

$$5 \cdot 4 = 20$$

$$3 \cdot 3 = 9$$

$$8 \cdot 3 = 24$$


2·3

2·9

Умножение на 2

2·5

☀ Собери бусы только из чётных чисел. Продолжи линию от двойки по чётным числам. Снизу аналогично обозначь нечётные числа.



☀ Реши и раскрась.

