

О.В. УЗОРОВА,  
Е.А. НЕФЁДОВА

# БОЛЬШАЯ КНИГА ДЛЯ РАЗВИТИЯ МЫШЛЕНИЯ, ЛОГИКИ И ВНИМАНИЯ

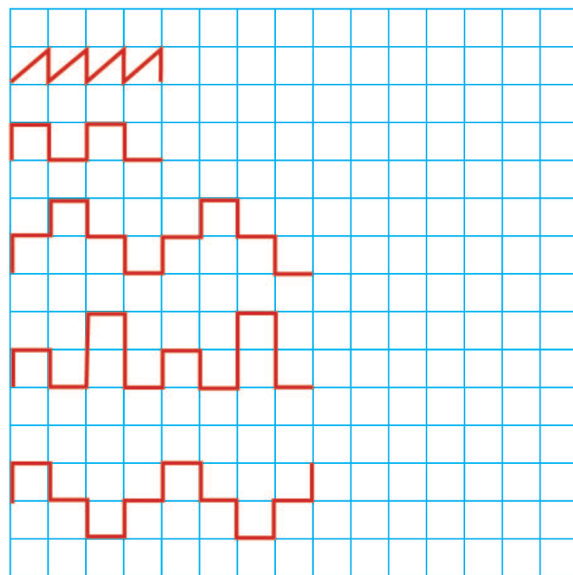


Издательство АСТ  
Москва  
2023


- Покажи в каждом ряду, что лишнее, и объясни почему.



- Найди закономерность и продолжи узоры.



- Найди закономерность и продолжи линию.



- Обведи картинки и продолжи ряд: берёзовый листок, дубовый листок, берёзовый листок, дубовый листок.



• Подумай и ответь.

1) Батон разрезали на три части. Сколько сделали разрезов?

2) Буханка хлеба весит полкилограмма и полбуханки. Сколько весит целая буханка?



• Раскрась кружки так, чтобы:

1) маленький был между синим и красным, а красный был рядом с зелёным;



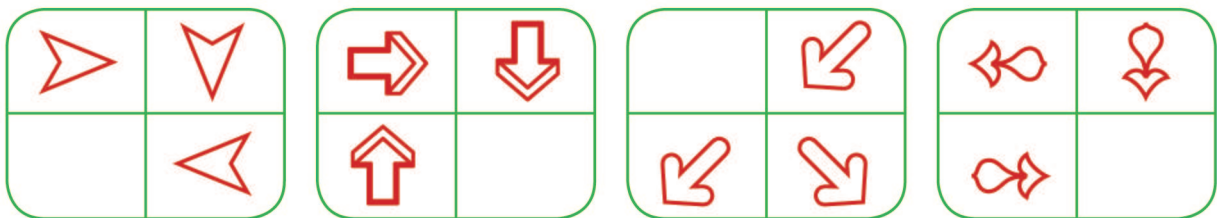
2) маленький был между голубым и чёрным, а чёрный — рядом с оранжевым.




• Выбери картинку с событием, которое произошло сначала, и обведи её зелёным карандашом. Расскажи, что произошло потом.



• Найди закономерность и дорисуй четвёртую фигуру.



• Что лишнее? Найди и обведи.

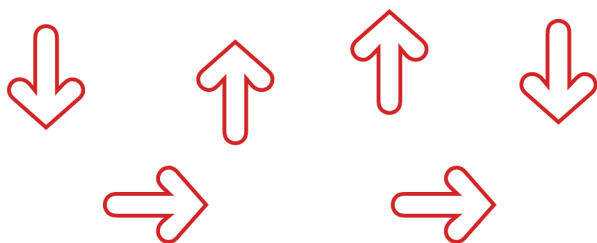


• Подумай и ответь.

1) Автомобилист ехал в деревню. Навстречу ему ехало 5 грузовиков и 3 легковые машины. Сколько машин ехало в деревню?

2) Над рекой летели птицы: голубь, щука, две синицы, два стрижа и пять угрей. Сколько птиц летело?

• Подбери картинки в пустые клетки и объясни свой выбор.



→		
↓		↑

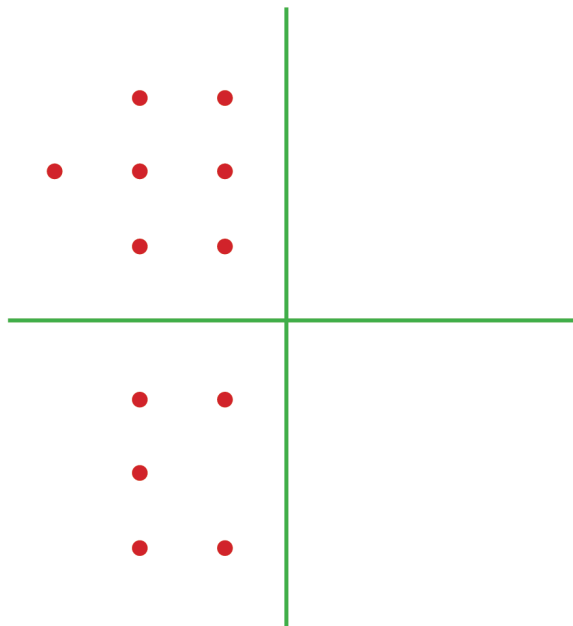
• Продолжи узор: цветочек, грибочек, грибочек, цветочек.




• Скажи, что лишнее, и объясни почему.

- ▶ Рис, рожь, василёк, гречиха.
- ▶ Сыроежка, груздь, ячмень, рыжик.
- ▶ Пшеница, кукуруза, ячмень, рожь.
- ▶ Овёс, мак, василёк, одуванчик.
- ▶ Гречиха, рис, ячмень, подосиновик.
- ▶ Сыроежка, подберёзовик, мухомор.

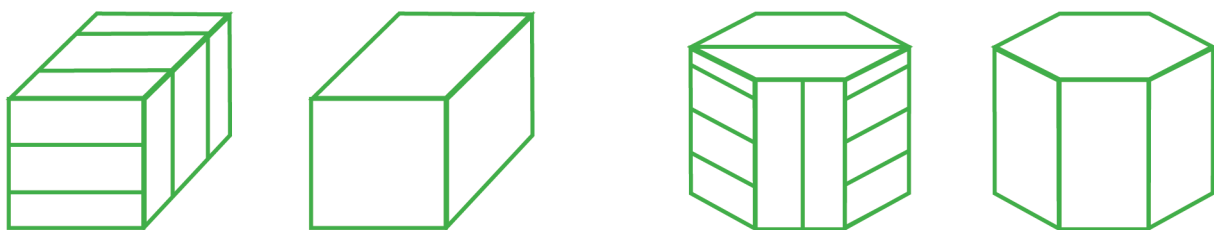
• Скопируй.



• Найди закономерность и продолжи линию.



• Дорисуй фигуры по образцу:




• Расположи по порядку — от частного к общему.

③  
 Дерево, лиственное дерево,  
 ①  
 яблоня.


○ ○ ○  
 Апельсин, цитрусовый, фрукт.

○ ○ ○  
 Плодовое дерево, слива,  
 ○  
 дерево.


• Распредели фигуры в рамки в соответствии с их признаками.



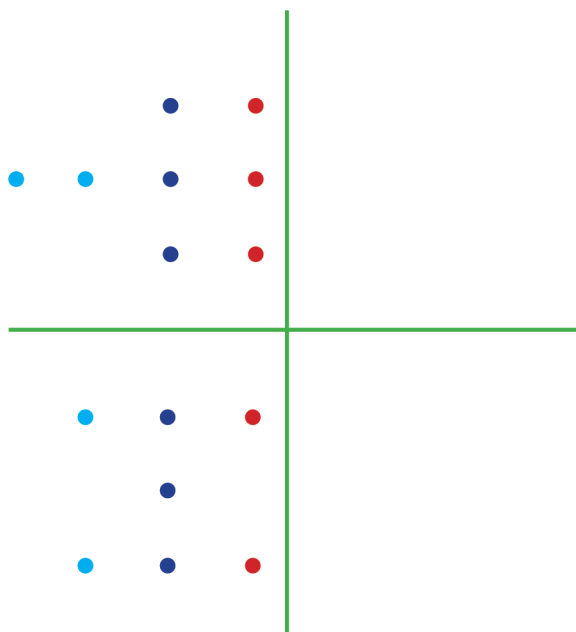
• Покажи, что лишнее, и объясни почему.




• Продолжи узор: листик, листик, солнышко, солнышко.



• Скопируй.




• Скажи, что лишнее, и объясни почему.

- ▶ Муха, щука, лисица, камень.
- ▶ Облако, солнце, птица, дождь.
- ▶ Дуб, лисички, опята, подберёзовик.
- ▶ Овёс, ячмень, картофель, пшеница.
- ▶ Кукла, машинка, мячик, ручка.
- ▶ Карандаш, тетрадь, юла, линейка.

• Найди ошибку в каждом ряду.



• Продолжи узор: месяц, солнце, тучка.



- Покажи, что лишнее, и объясни почему.




- Выбери подходящий циферблат и нарисуй его в пустой клетке.



- Раскрась кружки так, чтобы:
  - 1) маленький был между фиолетовым и жёлтым, а жёлтый — рядом с красным;




- Найди закономерность и «рассели» фигуры так, чтобы на каждом этаже они были расположены по-разному.




- 2) маленький — между синим и красным, а красный — рядом с зелёным.



- Повтори рисунок.



- Расставь цифры по образцу.




- Подумай и ответь.

- 1) Сидят 3 собаки. Напротив каждой собаки — 2 собаки. Сколько всего собак?
- 2) Что легче: 1 кг ваты или 1 кг железа?
- 3) Бублик разрезали на три части. Сколько сделали разрезов?



- Найди закономерность. Дорисуй.



- Где листиков больше — на дереве или под деревом? Раскрась под деревом столько листиков, сколько их на дереве.



- Покажи, что лишнее, и объясни почему.



- Выбери подходящий смайлик и нарисуй его в пустой клетке.



- Подумай и ответь.

1) Марина сидела справа от Тани, а Юра сидел справа от Кати. В каком порядке могли сидеть дети?

2) У рака 10 ног, а у пчёлки — на 4 меньше. Сколько ног у пчёлки?

