

# АКТИВИТИ

ДЛЯ ЮНЫХ УМНИКОВ

Д. А. Позднякова

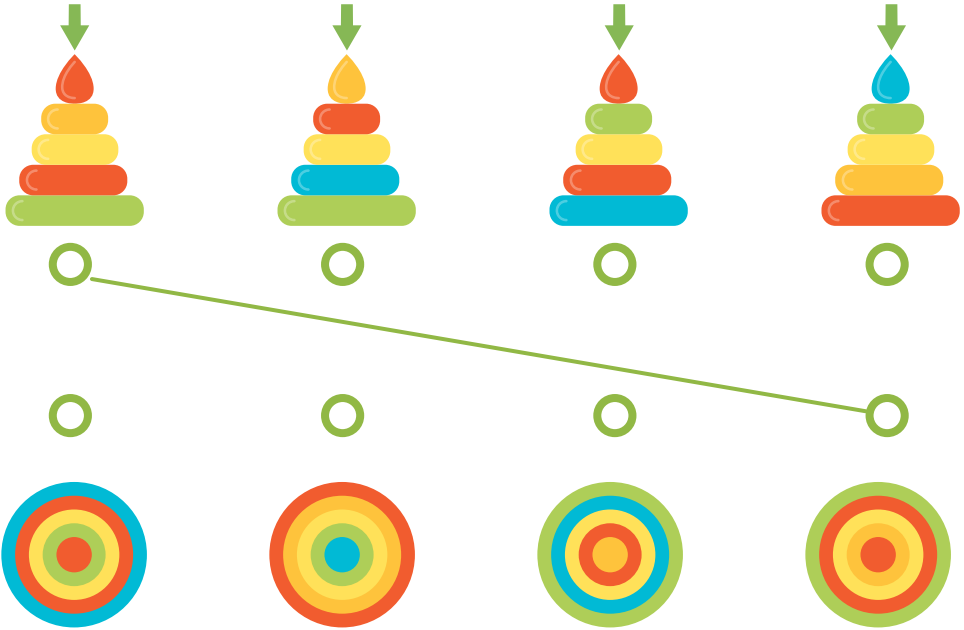
## МАТЕМАТИКА

---

## ГОЛОВОВОЛОМКИ

1  
КЛАСС

\* Преставь, что ты смотришь на пирамидки сверху. Что ты видишь? Соедини линией пирамидку и её вид сверху.





\* Посчитай. Запиши ответ в квадрат.

$$\text{raspberry} = 3$$

$$\text{strawberry} = \text{raspberry} + 2$$

$$\text{strawberry} = \square$$

 Посчитай и раскрась.



= 1



= 3



= 2



= 4



= 5