

## **ДОРОГИЕ ШКОЛЬНИКИ!**

Три летних месяца — много это или мало? Когда каникулы только начинаются, может показаться, что это целая вечность. Однако летние дни летят очень быстро, и в какой-то момент вдруг понимаешь: а ведь уже скоро опять в школу!

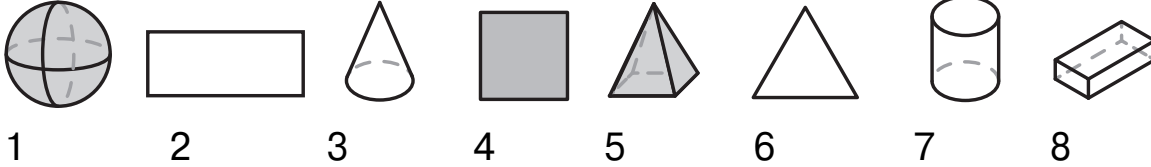
Пройдёт ещё немного времени, и вы снова усядетесь за школьные парты. Чтобы чувствовать себя уверенно на уроках, нужно вспомнить, что вы изучали в предыдущем классе. Именно для этой цели — повторения и закрепления всего, что было пройдено раньше, — и был создан данный тренажёр. Один день — одно задание по математике, одно по русскому и одно по английскому.

На выполнение заданий вы потратите всего несколько минут в день, но зато сколько пользы вы получите от этих занятий! Можете не сомневаться в том, что уже в сентябре учителя по достоинству оценят ваши знания.

Итак, вспоминайте всё, что изучили, и попутно узнавайте что-то новое!



▶ Раздели фигуры на группы разными способами. Запиши номера фигур в каждой группе.



Вариант 1

Группа 1: \_\_\_\_\_ . Группа 2: \_\_\_\_\_ .

Вариант 2

Группа 1: \_\_\_\_\_ . Группа 2: \_\_\_\_\_ .

Русский язык

▶ Измени приставки, чтобы получились антонимы. Запиши по образцу, выдели приставки.

Наступают, прихожу, подсыпать, убыль, схождение, прибавила.

Наступают — отступают,

\_\_\_\_\_  
\_\_\_\_\_

Английский язык

▶ Составь и запиши вопросы, начиная их со слов в скобках.

She gets to school by bus every day. (How) \_\_\_\_\_

Tom plays tennis after school. (When) \_\_\_\_\_

We visited our grandma last Sunday. (When) \_\_\_\_\_

I saw an interesting film yesterday. (What) \_\_\_\_\_

Sarah and Ben cook dinner on Fridays. (When) \_\_\_\_\_

The dog is sleeping under the table at the moment. (Where) \_\_\_\_\_

## Математика

▶ Три поезда преодолели расстояние в 600 км за разное время. Первый затратил 5 ч, второй — 3 ч, а третий — 4 ч. Отметь верные утверждения.

- Самый быстрый поезд — первый.
- Третий поезд проезжает в час на 50 км меньше второго и на 30 км больше первого.
- Разность между скоростями первого и второго поездов составляет 90 км/ч.
- Если второй поезд затратил на одно и то же расстояние меньше времени, чем другие два поезда, то у него самая высокая скорость из трёх поездов.

## Русский язык

▶ Через неисправный капающий кран в сутки может утечь от 30 л до 200 л воды. Сколько воды может утечь через 15 таких неисправных кранов за неделю? За июль? За год?

Ответ: из 15 неисправных кранов может утечь за неделю от \_\_\_\_\_ до \_\_\_\_\_;  
из 15 неисправных кранов может утечь за июль от \_\_\_\_\_ до \_\_\_\_\_;  
из 15 неисправных кранов может утечь за год от \_\_\_\_\_ до \_\_\_\_\_.

## Английский язык

▶ Напиши по образцу, как часто ты ешь мороженое, ходишь в кино, гуляешь в парке, встречаешься с друзьями.

I have English lessons twice a week.

---

---


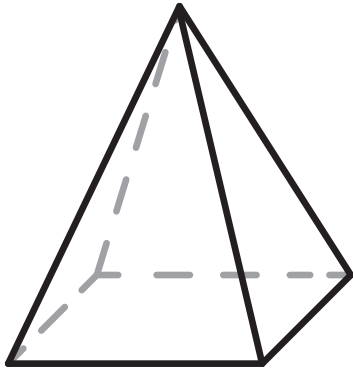
---

---

---

---

▶ Чем похожи и чем различаются эти фигуры? Напиши.




---



---

Русский язык

▶ Заполни таблицу склонения личных местоимений 1-го и 2-го лица.

Падеж	Лицо	
	1-е лицо	2-е лицо
И. п. (кто?)	я, мы	ты, вы
Р. п. (кого?)		
Д. п. (кому?)		
В. п. (кого?)		
Т. п. (кем?)		
П. п. (о ком?)		

Английский язык

▶ Запиши слова по алфавиту.

onions, jam, tomatoes, meat, oranges, carrots, pasta, juice, apples, lemonade, burgers, chips, sugar

---



---



---



---



---



---