

УДК 159.9
ББК 88.3
С71

Спектор, Анна Артуровна.

С71 IQ. Самые точные тесты. Сила ума в действии / А. А. Спектор, А. Н. Ядловский. — Москва : Издательство АСТ, 2021. — 288 с. : ил. — (Самая нужная книга для каждого).

ISBN 978-5-17-135903-4.

Тесты — это верный способ проверить уровень своего интеллекта. В то же время это не только увлекательные интеллектуальные игры, но и реальная возможность подтянуть уровень своих знаний. Это — тренировка сообразительности и памяти, благодаря которым мы можем развивать свой ум, успешно работать, держать интеллект в тонусе и сохранять свои умственные способности до глубокой старости. И что немаловажно: результаты тестов вполне можно улучшить, надо только познаться с типовыми задачами и хорошо натренироваться. В этой книге представлены шесть тестов, которые позволят вам оценить уровень своего интеллекта. Четыре из них содержат 30 задач на самые разные темы. Пятый и шестой тесты состоят из 20 задач каждый, причем пятый содержит логические и численные вопросы, а шестой — только словесные.

Чтобы успешно справиться с решением представленных тестов, необходимо обладать логическим мышлением, неплохо знать математику, проявить на практике общие знания и кругозор. Но, пожалуй, главное здесь — умение нестандартно мыслить и быстро находить ответ на любой вопрос.


**УДК 159.9
ББК 88.3**

© Оформление, иллюстрации ООО «Интеджер», 2021

© ООО «Издательство АСТ», 2021




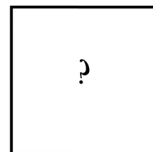
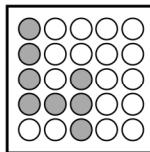

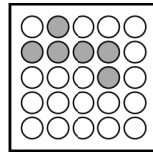
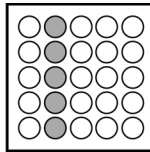

В оформлении использованы материалы, предоставленные
Фотобанком Shutterstock, Inc., Shutterstock.com

ISBN 978-5-17-135903-4



ЗАДАНИЕ 1


Какой фрагмент должен стоять на месте знака вопроса?



А


Б


В



ЗАДАНИЕ 2

Какой инструмент или несколько необходимо поставить вместо знака вопроса, чтобы уравновесить весы?






ЗАДАНИЕ 3

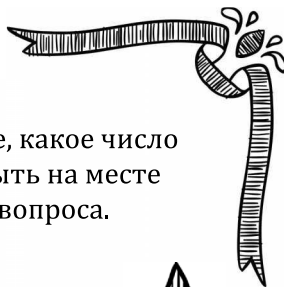


Расшифруйте
слова и назовите
лишнее.



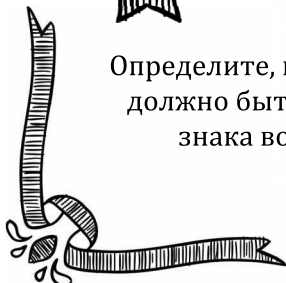
рпажи
ранкебар
вотата
въеллурип
борийна




ЗАДАНИЕ 4




Определите, какое число
должно быть на месте
знака вопроса.






ЗАДАНИЕ 5

Поставьте необходимое число вместо знака вопроса.




3	1	4
7	2	9
1	5	?






Назовите слово, которое завершает
первое слово и начинает второе.
Подсказка: количество точек
соответствует количеству букв в слове.

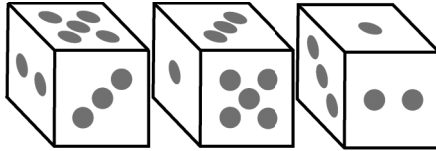
ПОЛ ... ДОК





ЗАДАНИЕ 7

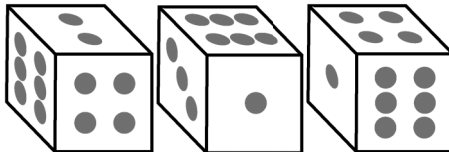
Развертка какого из кубов представлена на рисунке?



А

Б

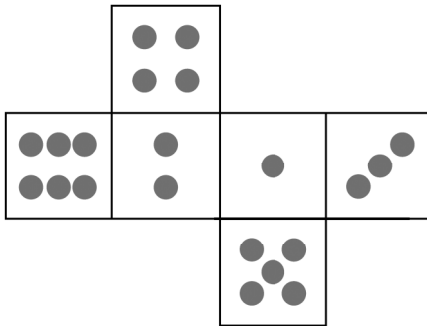
В




Г

Д

Е






Назовите слово, которое имеет оба значения. Подсказка: количество точек соответствует числу букв в слове.

**оптический прибор достижения
в игре**





ЗАДАНИЕ 9

Какое число необходимо
поставить вместо знака
вопроса?




1	2	3
2	1	4
5	6	?

ЗАДАНИЕ 10

Какое число необходимо поставить
вместо знака вопроса?







ЗАДАНИЕ 11

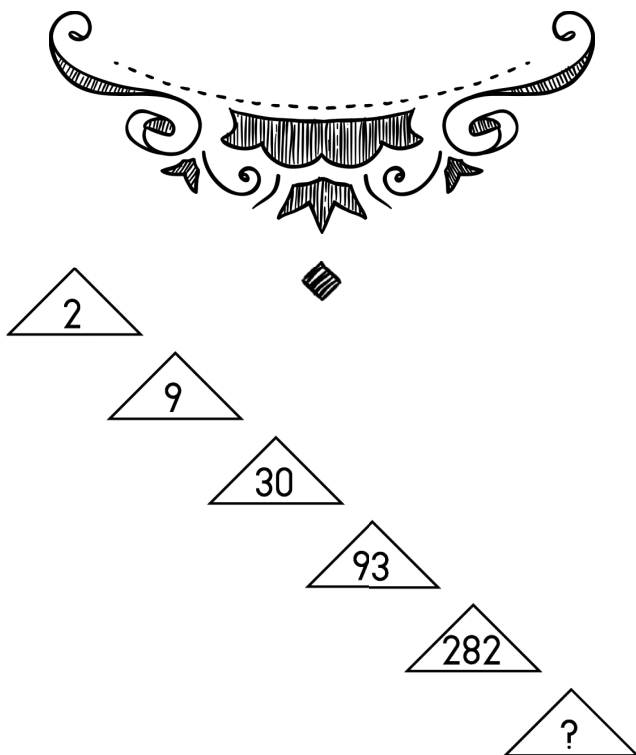



Определите, какое число должно стоять
на месте знака вопроса.








Продолжите
последовательность
чисел.





ЗАДАНИЕ 13




Какой фрагмент
должен стоять
вместо знака
вопроса?



А

Б

В



Г

Д

Е



ЗАДАНИЕ 14

Какой предмет необходимо
поставить вместо знака вопроса,
чтобы весы уравнились?

