

ЭКЗАМЕНАЦИОННЫЕ БИЛЕТЫ

для сдачи экзаменов
на права категорий А, В, М
подкатегорий А1, В1

С КОММЕНТАРИЯМИ НА 2026 ГОД

Категории

А, В, М
А1, В1



Москва

УДК 656.1
ББК 39.808
Э36

Э36 **Экзаменационные** билеты для сдачи экзаменов на права категорий А, В, М подкатегорий А1, В1 с комментариями на 2026 год. — Москва : Эксмо, 2025. — 208 с. — (Автошкола).

ISBN 978-5-04-228146-4

Издание содержит все 800 вопросов официальных экзаменационных билетов, которые используются при проведении теоретического экзамена на право управления транспортными средствами категорий А, В, М подкатегорий А1, В1 в подразделениях Государственной инспекции безопасности дорожного движения. За каждым из 40 билетов с детальными яркими иллюстрациями следуют правильные ответы с пояснительными комментариями. Для удобства самоподготовки в книге имеется таблица, где дублируются номера правильных ответов.

УДК 656.1
ББК 39.808

В каком случае водитель совершит вынужденную остановку?

1. Остановившись непосредственно перед пешеходным переходом, чтобы уступить дорогу пешеходу.
2. Остановившись на проезжей части из-за технической неисправности транспортного средства.
3. В обоих перечисленных случаях.

1

**Разрешен ли Вам поворот на дорогу с грунтовым покрытием?**

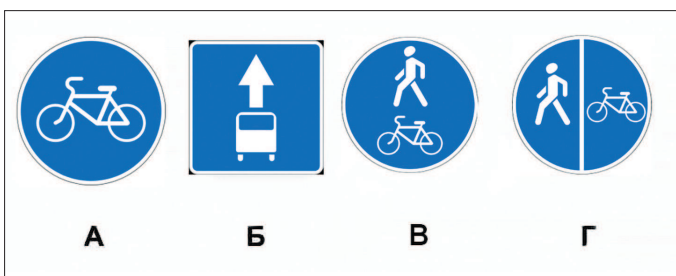
1. Разрешен.
2. Разрешен только при технической неисправности транспортного средства.
3. Запрещен.

2

**Можно ли Вам остановиться в указанном месте для посадки пассажира?**


1. Можно.
2. Можно, если Вы управляете такси.
3. Нельзя.

3

**Какие из указанных знаков запрещают движение водителям мопедов?**

1. Только А.
2. Только Б.
3. В и Г.
4. Все.

4

**Вы намерены повернуть налево. Где следует остановиться, чтобы уступить дорогу легковому автомобилю?**

1. Перед знаком.
2. Перед перекрестком у линии разметки.
3. На перекрестке перед прерывистой линией разметки.
4. В любом месте по усмотрению водителя.

5

Что означает мигание зеленого сигнала светофора?


1. Предупреждает о неисправности светофора.
2. Разрешает движение и информирует о том, что вскоре будет включен запрещающий сигнал.
3. Запрещает дальнейшее движение.

6

Водитель обязан подавать сигналы световыми указателями поворота (рукой):

1. Перед началом движения или перестроением.
2. Перед поворотом или разворотом.
3. Перед остановкой.
4. Во всех перечисленных случаях.

7

**Как Вам следует поступить при повороте направо?**


1. Перестроиться на правую полосу, затем осуществить поворот.
2. Продолжить движение по второй полосе до перекрестка, затем повернуть.
3. Возможны оба варианта действий.

8

**По какой траектории Вам разрешено выполнить разворот?**

1. Только по А.
2. Только по Б.
3. По любой из указанных.

9

**С какой скоростью Вы можете продолжить движение вне населенного пункта по левой полосе на легковом автомобиле?**

1. Не более 50 км/ч.
2. Не менее 50 км/ч и не более 70 км/ч.
3. Не менее 50 км/ч и не более 90 км/ч.

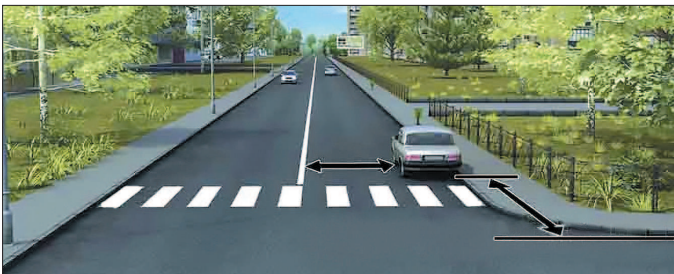
10



Можно ли водителю легкового автомобиля выполнить опережение грузовых автомобилей вне населенного пункта по такой траектории?

1. Можно.
2. Можно, если скорость грузовых автомобилей менее 30 км/ч.
3. Нельзя.

11



В каком случае водителю разрешается поставить автомобиль на стоянку в указанном месте?

1. Только если расстояние до сплошной линии разметки не менее 3 м.
2. Только если расстояние до края пересекаемой проезжей части не менее 5 м.
3. При соблюдении обоих перечисленных условий.

12



При повороте направо Вы должны уступить дорогу:

1. Только велосипедисту.
2. Только пешеходам.
3. Пешеходам и велосипедисту.
4. Никому.

13



Вы намерены проехать перекресток в прямом направлении. Кому Вы должны уступить дорогу?

1. Обоим трамваям.
2. Только трамваю А.
3. Только трамваю Б.
4. Никому.

14



Кому Вы обязаны уступить дорогу при повороте налево?

1. Только автобусу.
2. Только легковому автомобилю.
3. Никому.

15



С какой максимальной скоростью можно продолжить движение за знаком?

1. 60 км/ч.
2. 50 км/ч.
3. 30 км/ч.
4. 20 км/ч.

16

Для перевозки людей на мотоцикле водитель должен иметь водительское удостоверение на право управления транспортными средствами:

1. Категории «А» или подкатегории «А1».
2. Любой категории или подкатегории в течение двух и более лет.
3. Только категории «А» или подкатегории «А1» в течение двух и более лет.

17

При какой неисправности разрешается эксплуатация транспортного средства?

1. Не работают запорные устройства топливных баков.
2. Не работают механизм регулировки и фиксирующее устройство сиденья водителя.
3. Не работает устройство обдува ветрового стекла.
4. Не работает стеклоподъемник.

18

В случае, когда правые колеса автомобиля наезжают на неукрепленную влажную обочину, рекомендуется:

1. Затормозить и полностью остановиться.
2. Затормозить и плавно направить автомобиль на проезжую часть.
3. Не прибегая к торможению, плавно направить автомобиль на проезжую часть.

19

Что понимается под временем реакции водителя?

1. Время с момента обнаружения водителем опасности до полной остановки транспортного средства.
2. Время с момента обнаружения водителем опасности до начала принятия мер по ее избежанию.
3. Время, необходимое для переноса ноги с педали управления подачей топлива на педаль тормоза.

20

Ответы с комментариями

1 Правильный ответ — 2

Под вынужденной остановкой понимается прекращение движения ТС из-за его технической неисправности, опасности, создаваемой перевозимым грузом, внезапным ухудшением состояния водителя (или пассажира), а так же появлением препятствия на дороге (п. 1.2). Остановка, связанная с необходимостью выполнения требования уступить дорогу, не рассматривается как вынужденная.

2 Правильный ответ — 1

Знаки 1.11.2 «Опасный поворот» и 1.34.2 «Направление поворота» указывают направление движения на закруглениях дороги малого радиуса с ограниченной видимостью. Эти знаки не ограничивают возможность выполнить другой поворот, в данном случае — на примыкающую справа грунтовую дорогу.

3 Правильный ответ — 1

Знак 3.28 «Стоянка запрещена» остановку не запрещает, поэтому Вы можете остановиться в указанном месте.

4 Правильный ответ — 4

Все указанные знаки запрещают движение водителям мопедов. Знак 5.14.1 (знак Б) «Полоса для маршрутных транспортных средств» используется для обозначения полосы, предназначенной для движения только маршрутных ТС, школьных автобусов и ТС, используемых в качестве легкового такси, а также велосипедистов, в случае, если такая полоса располагается справа (п. 18.2). Знаки 4.4.1 (знак А) «Велосипедная дорожка», 4.5.2 «Пешеходная и велосипедная дорожка с совмещенным движением» (знак В) и 4.5.4 «Пешеходная и велосипедная дорожка с разделением движения» (знак Г) движение мопедов также не предусматривают (п. 1.2 «Велосипедная дорожка»).

5 Правильный ответ — 2

Разметка 1.13 (в виде линии из треугольников) наносится поперек полосы движения и указывает место, где Вы должны при необходимости остановиться, выполняя требование знака 2.4 «Ус тупите дорогу» и предоставляя преимущество ТС, движущимся по пересекаемой дороге.

6 Правильный ответ — 2

Для информирования водителей о предстоящей смене зеленого сигнала светофора на желтый Правилами предусмотрена возможность мигания зеленого сигнала. Этот сигнал разрешает движение ТС (п. 6.2). Длительность мигания при этом должна составлять 3 сек.

7 Правильный ответ — 4

Перед началом движения, перестроением, поворотом (разворотом) и остановкой водитель обязан подавать сигналы световыми указателями поворота соответствующего направления, а если они отсутствуют или неисправны - рукой (п. 8.1).

8 Правильный ответ — 3

Стрелы разметки 1.18 указывают, что на данном перекрестке поворот направо может осуществляться не только с правой, но и с левой полосы. Следовательно, Вы можете выполнить поворот либо заранее перестроившись на крайнюю правую полосу (занять крайнее правое положение) (п. 8.5), либо продолжив движение по левой полосе.

9 Правильный ответ — 1

Выполняя разворот на этом перекрестке, Вам придется использовать для движения участок проезжей части, имеющий двустороннее движение. Поэтому, въезжая на перекресток, Вы можете продолжить движение только по правой стороне этого участка проезжей части (п. 1.4). Следовательно, в данном случае Вам разрешено двигаться по траектории А.

10 Правильный ответ — 3

Знак 4.6 «Ограничение минимальной скорости» и табличка 8.14 «Полоса движения» предписывают двигаться по левой полосе со скоростью не менее 50 км/ч. Однако при этом на дороге вне населенного пункта, не относящейся к автомагистрали, Вы не имеете права на легковом автомобиле развивать скорость более 90 км/ч (п. 10.3).

11 Правильный ответ — 1

Изображенный маневр не является обгоном, который запрещен на дорогах с двусторонним движением с четырьмя и более полосами. В данной ситуации водитель имеет право выполнить опережение различных транспортных средств по любой траектории, в том числе и по указанной, соблюдая при этом правила маневрирования и скоростной режим.

12 Правильный ответ — 3

Остановившись за пешеходным переходом в 5 м от края пересекаемой проезжей части и обеспечив при этом расстояние в 3 м до сплошной линии разметки, водитель не нарушит правила стоянки (п. 12.4 и 12.5).

13 Правильный ответ — 3

По разрешающему сигналу светофора Вы можете повернуть направо. С учетом того, что при повороте направо ТС должно двигаться по возможности ближе к правому краю проезжей части (п. 8.6), Вы, находясь позади велосипедиста, должны пропустить его и уступить дорогу пешеходам при повороте на проезжую часть дороги, которую они пересекают (п. 13.1).

14 Правильный ответ — 1

В данной ситуации Вы должны уступить дорогу обоим трамваям, так как на перекрестках равнозначных дорог трамвай имеет преимущество перед безрельсовыми ТС независимо от направления его движения (п. 13.11).

15 Правильный ответ — 3

Проезжая данный перекресток не равнозначных дорог по направлению главной дороги (знаки 2.1 «Главная дорога» и 8.13 «Направление главной дороги»), Вы никому не должны уступать дорогу, поскольку пользуетесь преимуществом как перед находящимся на главной дороге автобусом, для которого Вы являетесь «помехой справа» (п. 13.10 и 13.11), так и перед легковым автомобилем, движущимся по второстепенной дороге (п. 13.9).

16 Правильный ответ — 4

Знак 5.21 «Жилая зона» обозначает въезд на территорию, где скорость не должна превышать 20 км/ч (п. 10.2).

17 Правильный ответ — 3

Перевозка людей на мотоцикле должна осуществляться водителем, имеющим водительское удостоверение на право управления ТС категории «А» или подкатегории «А1» в течение двух и более лет (п. 22.2).

18 Правильный ответ — 4

Из всех перечисленных неисправностей только неработающий стеклоподъемник не является причиной запрещения эксплуатации ТС. Остальные неисправности включены в Перечень (п. 8.3 и п. 9.2), поэтому при их наличии эксплуатация ТС запрещена.

19 Правильный ответ — 3

При съезде автомобиля правыми колесами на не укрепленную и влажную обочину возникает опасность заноса из-за разницы сцепления правых и левых колес с дорогой. При этом целесообразно, не меняя скорости, т.е. не прибегая к торможению, плавным поворотом рулевого колеса вернуть автомобиль на проезжую часть. Торможение в данной ситуации может вызвать занос автомобиля.

20 Правильный ответ — 2

Под временем реакции водителя понимается время с момента обнаружения опасности до начала принятия мер по избежанию опасности. В зависимости от состояния водителя и его опыта, а также сложности обстановки, в которой он находится, это время обычно составляет от 0,4 до 1,6 секунды.



Сколько полос для движения имеет данная дорога?

1. Две.
2. Четыре.
3. Пять.

1



Можно ли Вам въехать на мост первым?

1. Можно.
2. Можно, если Вы не затрудните движение встречному автомобилю.
3. Нельзя.

2



Разрешено ли Вам произвести остановку для посадки пассажира?

1. Разрешено.
2. Разрешено только по четным числам месяца.
3. Разрешено только по нечетным числам месяца.
4. Запрещено.


3



Что запрещено в зоне действия этого знака?

1. Движение любых транспортных средств.
2. Движение всех транспортных средств со скоростью не более 20 км/ч.
3. Движение механических транспортных средств.


4



Разрешен ли Вам выезд на полосу с реверсивным движением, если реверсивный светофор выключен?

1. Разрешен.
2. Разрешен, если скорость автобуса менее 30 км/ч.
3. Запрещен.


5



Информационная световая секция в виде силуэта пешехода и стрелки с мигающим сигналом бело-лунного цвета, расположенная под светофором, информирует водителя о том, что:

1. На пешеходном переходе, в направлении которого он поворачивает, включен сигнал светофора, разрешающий движение пешеходам.
2. На пешеходном переходе, в направлении которого он поворачивает, включен сигнал светофора, запрещающий движение пешеходам.
3. Он поворачивает в направлении пешеходного перехода.

6



Поднятая вверх рука водителя легкового автомобиля является сигналом, информирующим Вас о его намерении:

1. Повернуть направо.
2. Продолжить движение прямо.
3. Снизить скорость, чтобы остановиться и уступить дорогу мотоциклу.

7



Двигаясь по левой полосе, водитель намерен перестроиться на правую. На каком из рисунков показана ситуация, в которой он обязан уступить дорогу?

1. На левом.
2. На правом.
3. На обоих.

8



Можно ли Вам выполнить разворот в этом месте?

1. Можно.
2. Можно только при отсутствии приближающегося поезда.
3. Нельзя.

9

В каких случаях разрешается наезжать на прерывистые линии разметки, разделяющие проезжую часть на полосы движения?

1. Только если на дороге нет других транспортных средств.
2. Только при движении в темное время суток.
3. Только при перестроении.
4. Во всех перечисленных случаях.

10



Разрешено ли Вам обогнать мотоцикл?

1. Разрешено.
2. Разрешено, если водитель мотоцикла снизил скорость.
3. Запрещено.

11



Разрешается ли Вам остановиться в указанном месте?

1. Разрешается.
2. Разрешается, если автомобиль будет находиться не ближе 5 м от края пересекаемой проезжей части.
3. Запрещается.

12



Вы намерены повернуть налево. Кому Вы должны уступить дорогу?

1. Только пешеходам.
2. Только автобусу.
3. Автобусу и пешеходам.

13



В каком случае Вы имеете преимущество?

1. Только при повороте направо.
2. Только при повороте налево.
3. В обоих перечисленных случаях.

14



Обязан ли водитель мотоцикла уступить Вам дорогу?

1. Обязан.
2. Не обязан.

15



Разрешается ли водителю выполнить объезд грузового автомобиля?

1. Разрешается.
2. Разрешается, если между шлагбаумом и остановившимся грузовым автомобилем расстояние более 5 м.
3. Запрещается.

16

В каких из перечисленных случаев запрещена буксировка на гибкой сцепке?

1. Только на горных дорогах.
2. Только в гололедицу.
3. Только в темное время суток и в условиях недостаточной видимости.
4. Во всех перечисленных случаях.

17

Запрещается эксплуатация мототранспортных средств (категории L), если остаточная глубина рисунка протектора шин (при отсутствии индикаторов износа) составляет не более:

1. 0,8 мм.
2. 1,0 мм.
3. 1,6 мм.
4. 2,0 мм.

18

Исключает ли антиблокировочная тормозная система возможность возникновения заноса или сноса при прохождении поворота?

1. Полностью исключает возможность возникновения только заноса.
2. Полностью исключает возможность возникновения только сноса.
3. Не исключает возможность возникновения сноса или заноса.

19

В каких случаях следует начинать сердечно-легочную реанимацию пострадавшего?

1. При наличии болей в области сердца и затрудненного дыхания.
2. При отсутствии у пострадавшего сознания, независимо от наличия дыхания.
3. При отсутствии у пострадавшего сознания, дыхания и кровообращения.

20

Ответы с комментариями

1 Правильный ответ — 2

При наличии разделительной полосы дорога имеет две проезжие части, каждая из которых разделена разметкой на две полосы (п. 1.2).

2 Правильный ответ — 1

Знак 2.7 «Преимущество перед встречным движением» дает Вам право первым въехать на узкий мост, поскольку водитель встречного автомобиля в этой ситуации должен уступить дорогу тем, кто находится не только на мосту, но и на противоположном подъезде к нему.

3 Правильный ответ — 1

Знак 3.29 «Стоянка запрещена по нечетным числам месяца» запрещает только стоянку. Следовательно, остановиться в этом месте, в том числе и для посадки пассажиров, Вы можете в любой день месяца.

4 Правильный ответ — 3

Знак 5.33 «Пешеходная зона» обозначает место, с которого начинается территория (участок дороги), на которой разрешено движение только пешеходов, а также велосипедистов в случаях, установленных п. 24.2–24.4 ПДД. Необходимо учитывать, что велосипед не является механическим ТС. Следовательно, в пешеходной зоне запрещено движение механических ТС.

5 Правильный ответ — 3

В случае если реверсивные светофоры выключены, въезд на полосу, обозначенную с двух сторон разметкой 1.9 (Приложение 2), запрещен (п. 6.7).

6 Правильный ответ — 1

Информационная световая секция в виде силуэта пешехода и стрелки с мигающим сигналом бело-лунного цвета, расположенная под светофором, информирует водителя о том, что на пешеходном переходе, в направлении которого он поворачивает, включен сигнал светофора, разрешающий движение пешеходам. Направление стрелки указывает на пешеходный переход, на котором включен сигнал светофора, разрешающий движение пешеходам (п. 6.4).

7 Правильный ответ — 3

Для выполнения требования знака 2.4 «Уступите дорогу» водитель легкового автомобиля должен снизить скорость и остановиться, чтобы уступить дорогу мотоциклу. Об этом водитель автомобиля информирует Вас поднятой вверх рукой (п. 8.1).

8 Правильный ответ — 3

При перестроении с левой полосы на правую водитель должен уступить дорогу легковому автомобилю, движущемуся по правой полосе, как при его движении прямо, так и в случае одно временного перестроения (п. 8.4).

9 Правильный ответ — 1

Разворот запрещен непосредственно на самих железнодорожных переездах (п. 8.11). Перед переездом разворот разрешен.

10 Правильный ответ — 3

Наезжать на прерывистые линии разметки разрешается только при перестроении (п. 9.7).

11 Правильный ответ — 3

Водитель мотоцикла и Вы приближаетесь к нерегулируемому перекрестку равнозначных дорог, на котором обгон запрещен (п.11.4). Кроме того, справа находится легковой автомобиль, которому водитель мотоцикла и Вы должны уступить дорогу (п.13.11).

12 Правильный ответ — 2

Вам разрешается остановиться в указанном месте только в том случае, если автомобиль будет находиться не ближе 5 м от края пересекаемой проезжей части, т.е. расстояние от остановившегося автомобиля как спереди, так и сзади него до соответствующего края пересекаемой проезжей части будет составлять не менее 5 м (п. 12.4).

13 Правильный ответ — 3

Перекресток, на который Вы въезжаете, — регулируемый, поэтому очередность движения на нем определяется не знаками приоритета, а сигналами светофора (п. 6.15 и 13.3). Поворачивая налево, Вы должны уступить дорогу автобусу, движущемуся со встречного направления прямо (п. 13.4), а завершая поворот, — и пешеходам, переходящим проезжую часть дороги, на которую Вы поворачиваете (п. 13.1).

14 Правильный ответ — 3

Находящийся слева грузовой автомобиль должен уступить Вам дорогу (п. 13.11), поэтому данный перекресток равнозначных дорог Вы проедете первым независимо от направления своего движения.

15 Правильный ответ — 1

Вы находитесь на автомагистрали, о чем свидетельствует знак 5.1 «Автомагистраль», а мотоцикл въезжает на нее по полосе разгона. Автомагистраль является главной дорогой по отношению к примыкающим (п. 13.9 и 1.2, термин «Главная дорога»). В данной ситуации водитель мотоцикла должен уступить Вам дорогу (8.10).

16 Правильный ответ — 3

Водитель грузового автомобиля остановился перед железнодорожным переездом, а объезд стоящих перед переездом ТС с выездом на полосу встречного движения запрещен (п. 15.3).

17 Правильный ответ — 2

Буксировка на гибкой сцепке запрещена только в гололедицу (п. 20.4) из-за высокой вероятности заноса при торможении или трогании с места.

18 Правильный ответ — 1

Для мототранспортных средств, относящихся к ТС категорий L (в соответствии с приложением № 1 к техническому регламенту Таможенного союза «О безопасности колесных транспортных средств»), остаточная глубина рисунка протектора шин (при отсутствии индикаторов износа), при которой запрещается эксплуатация ТС, составляет не более 0,8 мм (Перечень, п. 5.4).

19 Правильный ответ — 3

При прохождении поворота на ТС действует центробежная сила, которая возрастает с увеличением скорости и стремится сместить ТС к внешней стороне закругления дороги. Занос или снос ТС может возникнуть при проезде поворота из-за большой скорости движения, торможения или низкого коэффициента сцепления. Антиблокировочная тормозная система, предназначенная для предотвращения блокировки колес ТС, может снизить вероятность возникновения заноса или сноса при торможении, но не может исключить возможность их возникновения.

20 Правильный ответ — 3


Сердечно-легочная реанимация проводится только при отсутствии у пострадавшего признаков жизни: сознания, дыхания и кровообращения (Перечень мероприятий, п. 5).



Выезжая с грунтовой дороги на перекресток, Вы попадаете:

1. На главную дорогу.
2. На равнозначную дорогу, поскольку отсутствуют знаки приоритета.
3. На равнозначную дорогу, поскольку проезжая часть имеет твердое покрытие перед перекрестком.

1



Где Вы должны остановиться?

1. Перед знаком (А).
2. Перед перекрестком (Б).
3. Перед краем пересекаемой проезжей части (В).

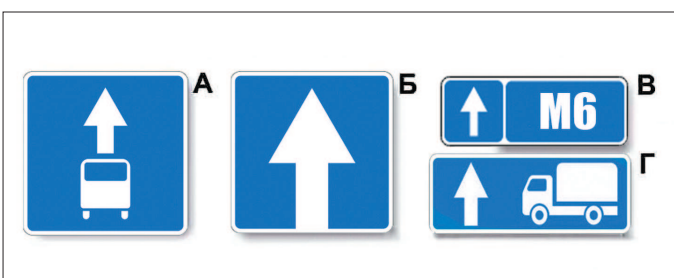
2



Вам необходимо двигаться со скоростью не более 40 км/ч:

1. Только во время дождя.
2. Во время выпадения осадков (дождя, града, снега).
3. Во всех случаях, когда покрытие проезжей части влажное.


3



Какой из указанных знаков устанавливается в начале дороги с односторонним движением?

1. Только А.
2. Только Б.
3. Б или Г.
4. Б или В.

4



Можно ли Вам остановиться в этом месте для посадки или высадки пассажиров?

1. Можно.
2. Можно, если при этом не будут созданы помехи движению маршрутных транспортных средств.
3. Нельзя.

5



При повороте направо Вы:


1. Имеете право проехать перекресток первым.
2. Должны уступить дорогу только пешеходам.
3. Должны уступить дорогу автомобилю с включенными проблесковым маячком и специальным звуковым сигналом, а также пешеходам.

6

В каких случаях водитель не должен подавать сигнал указателями поворота?

1. Только при отсутствии на дороге других участников движения.
2. Только если сигнал может ввести в заблуждение других участников движения.
3. В обоих перечисленных случаях.

7



Вам разрешено выполнить поворот направо:

1. Только по траектории А.
2. Только по траектории Б.
3. По любой траектории из указанных.


8



Разрешается ли Вам выполнить разворот на перекрестке по указанной траектории?

1. Разрешается.
2. Разрешается, если видимость дороги не менее 100 м.
3. Запрещается.

9



По какой полосе Вы имеете право двигаться с максимально разрешенной скоростью вне населенных пунктов?

1. Только по правой.
2. Только по левой.
3. По любой.

10

В каком случае водитель может начать обгон, если такой маневр на данном участке дороги не запрещен?

1. Только если полоса, предназначенная для встречного движения, свободна на достаточном для обгона расстоянии.
2. Только если его транспортное средство никто не обгоняет.
3. В случае, если выполнены оба условия.


11



Кто из водителей нарушил правила стоянки?

1. Оба.
2. Только водитель автомобиля.
3. Только водитель мотоцикла.
4. Никто не нарушил.


12



При движении прямо Вы:

1. Должны остановиться перед стоп-линией.
2. Можете продолжить движение через перекресток без остановки.
3. Должны уступить дорогу транспортным средствам, движущимся с других направлений.


13



Вы намерены повернуть направо. Ваши действия?

1. Проедете перекресток первым.
2. Уступите дорогу легковому автомобилю.
3. Уступите дорогу обоим транспортным средствам.

14



Кому Вы обязаны уступить дорогу при повороте налево?

1. Трамваям А и Б.
2. Трамваю А и легковому автомобилю.
3. Только трамваю А.
4. Никому.

15