

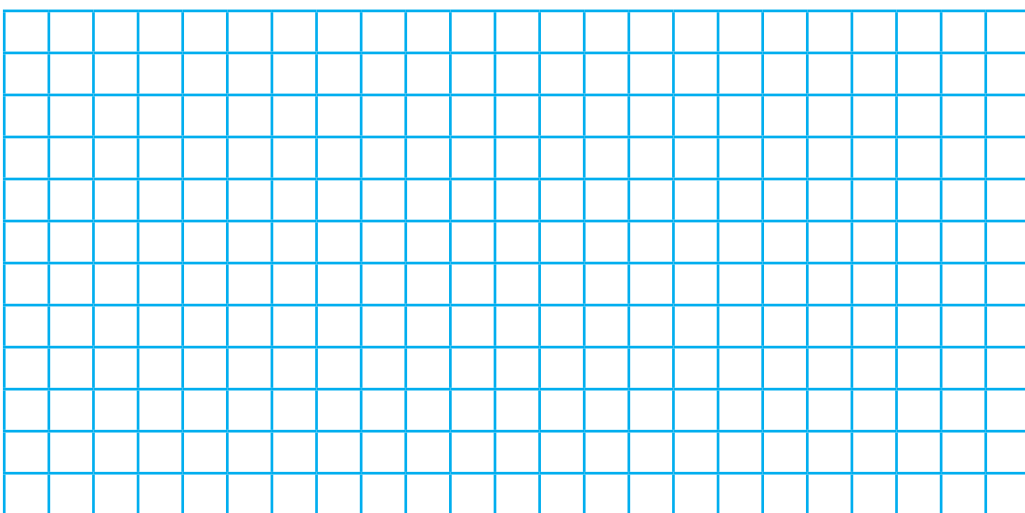
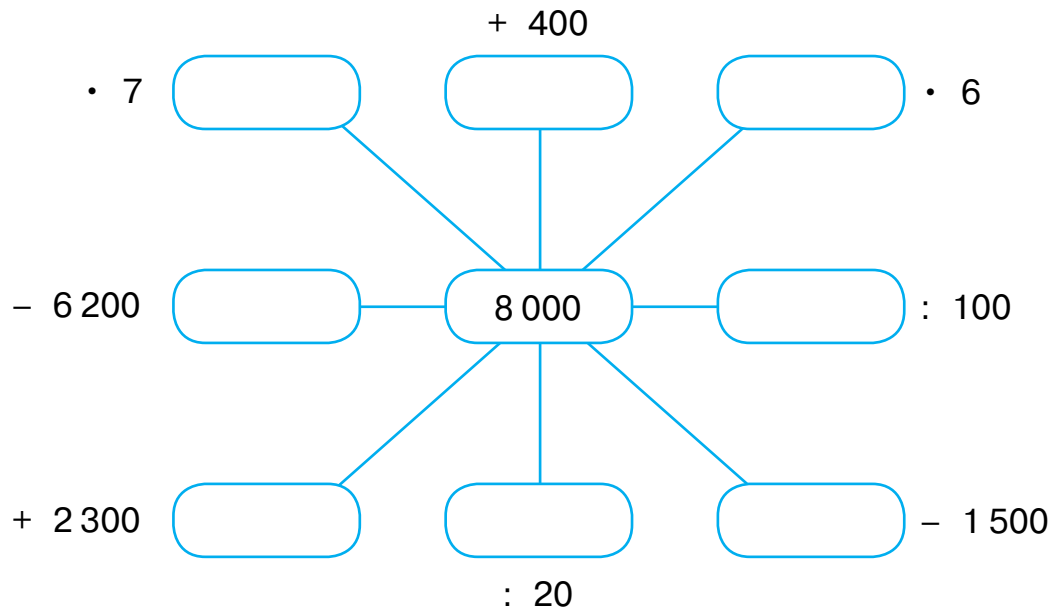




- Заполни таблицу.

Уменьшаемое	Вычитаемое	Разность
1 700		300
	6 000	2 000
25 000	14 000	
360 000		40 000
	90 000	500

- Запиши числа.



- Соедини примеры с ответами.

$38\,000 - 25\,000$	$300 \cdot 900$	$14\,000 - 6\,000$	$70 \cdot 50$
$13\,000$	$900$	$3\,500$	$300$
$12\,000$	$270\,000$	$720$	$8\,000$
$54\,000 : 60$	$5\,000 + 7\,000$	$18 \cdot 40$	$2\,700 : 9$

- Реши примеры. Запиши ответы.

$21\,000 : 7$		Р
$1\,600 \cdot 4$		И
$8\,000 : 20$		К
$11\,000 - 5\,000$		С
$32\,000 + 2\,500$		О
$63\,000 - 21\,000$		М
$7\,200 : 9$		П
$40 \cdot 60$		О
$8\,700 + 1\,200$		К

Запиши под ответами соответствующие им буквы. Прочитай слово.


42 000	6 400	9 900	3 000	2 400	6 000	400	34 500	800

- Закрась карандашом одного цвета выражения с одинаковыми значениями.

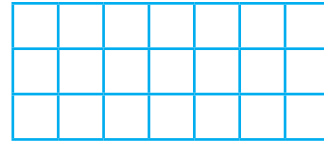
$18\,000 : 2\,000$	$8\,500 - 8\,200$	$2 \cdot 2\,400$
$25 \cdot 12$	$80 \cdot 60$	$7\,200 : 800$
$34\,000 : 2$	$9\,000 + 8\,000$	$12\,000 : 40$
$9\,600 : 2$		

- Запиши номера примеров с ответом:

4 000



14 000



1.  $20\,000 : 5$

2.  $42\,000 : 3$

3.  $10\,200 - 6\,200$

4.  $12\,000 \cdot 2$

7.  $44\,000 : 11$

6.  $9\,000 + 5\,000$

5.  $15\,200 - 1\,200$

8.  $25\,000 - 21\,000$

9.  $7 \cdot 2\,000$

10.  $18\,000 - 5\,000$

- Запиши пропущенные множители.

840

20

·

960

30

18 000

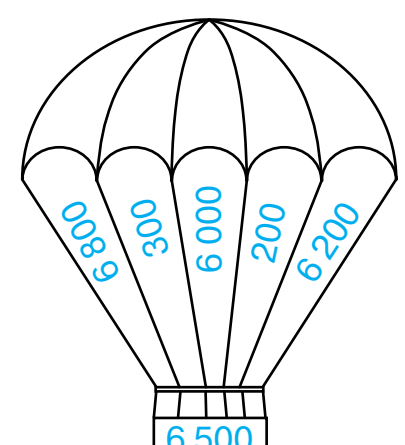
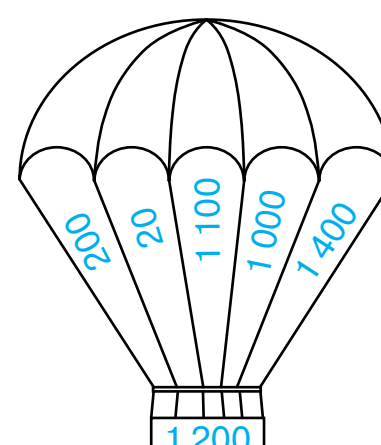
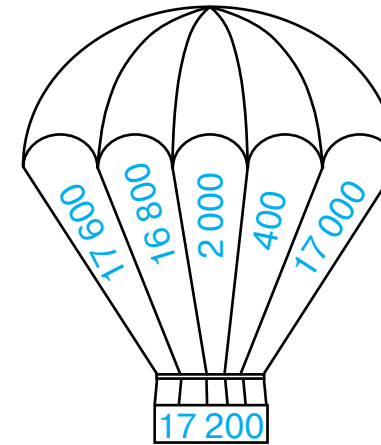
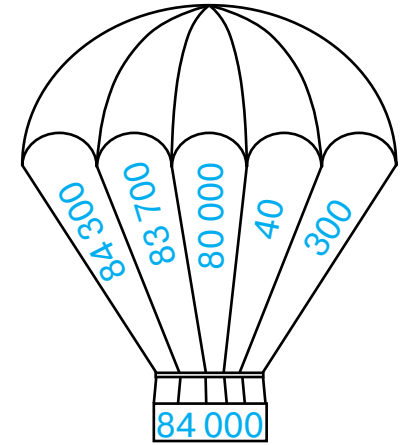
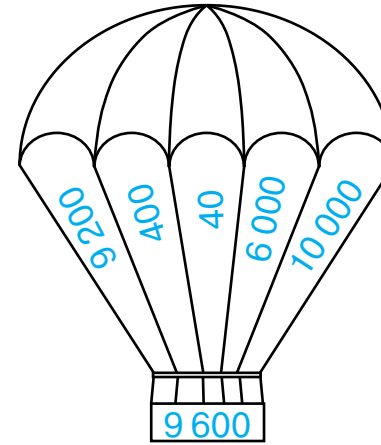
3

·

6 400

4

- Карандашом одного цвета закрась на каждом воздушном шаре числа, сумма которых равна числу, записанному на корзине.








- Запиши числа в порядке убывания.

237 854, 723 845, 327 458, 273 584, 372 485, 732 548.



- Длина прямоугольника равна 12 см, а ширина составляет треть его длины. Запиши ответы на вопросы.

- Чему равна площадь прямоугольника?

- Чему равен периметр прямоугольника?

- Заполни пропуски.

$$3 \cdot \square \cdot 300 = 1800$$


$$\square \cdot 4 \cdot 2 \cdot 50 = 800$$

$$\square \cdot 3 \cdot 100 = 15000$$


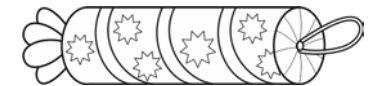

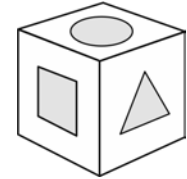


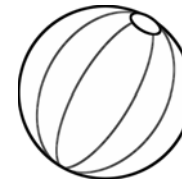
$$200 \cdot \square \cdot 2 = 1600$$

$$700 \cdot \square \cdot 2 = 4200$$

$$9 \cdot \square \cdot 1000 = 54000$$

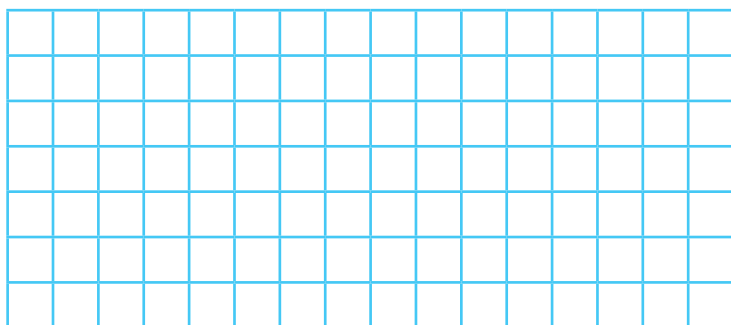


- Виталик распределил изображения предметов на группы в зависимости от их формы, но ошибся. Зачеркни рисунки, которые он подобрал неправильно. Вырежи и наклей вместо них правильные рисунки.




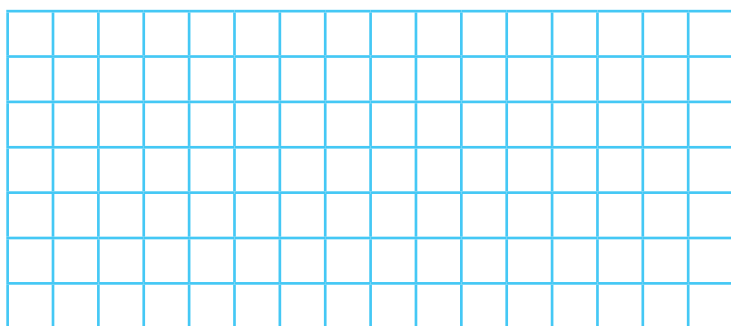


**Задача 28.** За 2 одинаковые коробки конфет заплатили 500 р. Сколько стоят 4 одинаковых торта, если цена торта в 3 раза больше цены коробки конфет?



- Сколько коробок конфет можно купить вместо 2 тортов?
- Хватит ли 2000 р. на покупку двух коробок конфет и торта? \_\_\_\_\_

**Задача 29.** В зоомагазин привезли 18 упаковок с кормом для хомяков по 12 коробок в каждой и 15 упаковок с кормом для попугаев по 24 коробки в каждой. Коробок с каким кормом привезли больше? На сколько?



- Сколько всего коробок с кормом привезли в магазин?
- Продали девятую часть всех коробок с кормом. Сколько коробок с кормом осталось?

## СОДЕРЖАНИЕ

ЧИСЛА В ПРЕДЕЛАХ МИЛЛИОНА .....	1
ВЕЛИЧИНЫ .....	7
УСТНЫЕ ВЫЧИСЛЕНИЯ В ПРЕДЕЛАХ МИЛЛИОНА ...	17
ПИСЬМЕННЫЕ ВЫЧИСЛЕНИЯ В ПРЕДЕЛАХ МИЛЛИОНА .....	23
ГЕОМЕТРИЧЕСКИЕ ФИГУРЫ И ТЕЛА .....	35
ОБОБЩАЮЩИЙ МАТЕРИАЛ ЗА 4-Й КЛАСС .....	43
ЗАДАЧИ В НЕСКОЛЬКО ДЕЙСТВИЙ .....	62

