


$1 + 1$

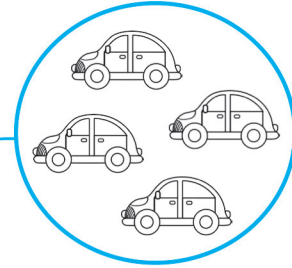


$4 + 1$

🌸 Сколько игрушек в каждой группе?



5



1


3



2



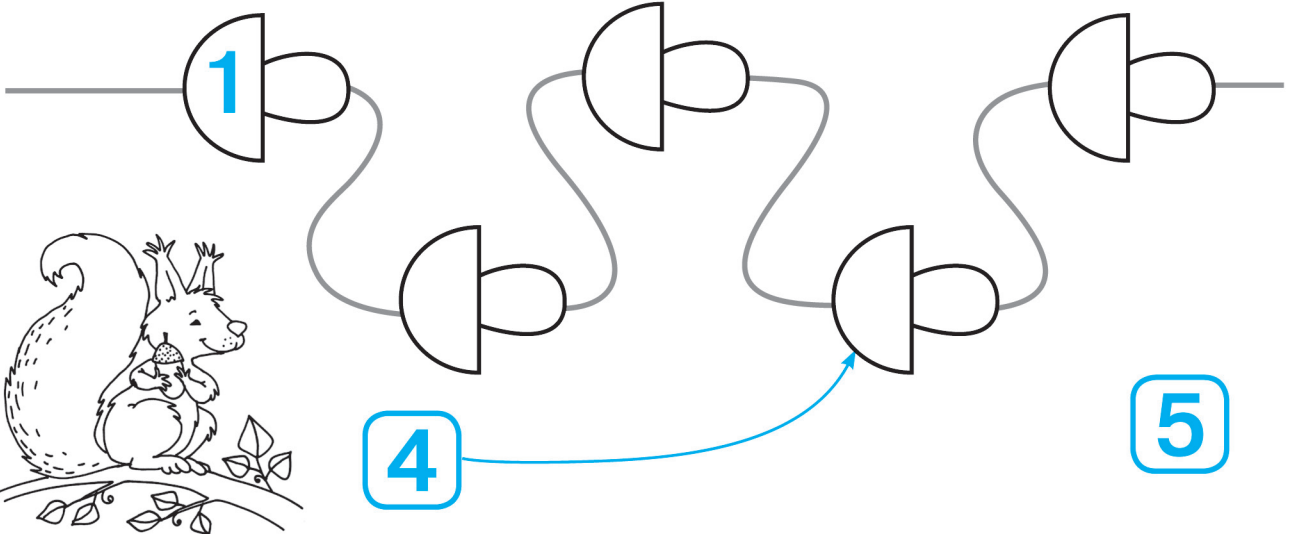
4



🌸 Сосчитай грибы, которые засушила белочка.

2

3



3 - 1

2 - 1

✿ Реши примеры, используя рисунки-помощники.

1 + 1 =



5 - 1 =



2 + 1 =



4 - 1 =



3 + 1 =



3 - 1 =



4 + 1 =

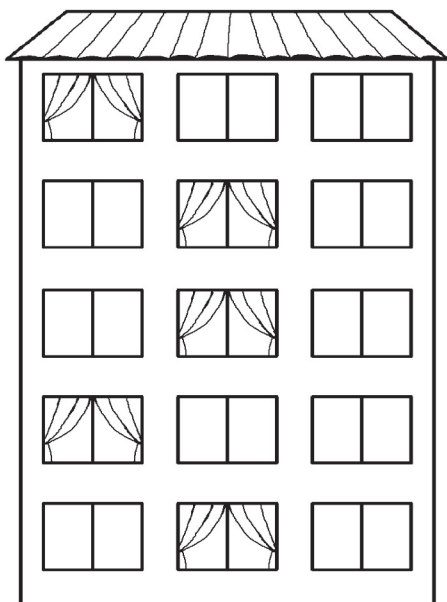


2 - 1 =



✿ Сколько этажей в доме? Реши примеры, используя рисунок-помощник.

5



4

3

2

1

3 + 1 =

5 - 1 =

2 + 1 =

4 - 1 =

4 + 1 =

2 - 1 =

1 + 1 =

3 - 1 =

$1 + 1$



$4 + 1$

✿ Реши примеры, используя рисунки-помощники.




$2 + 1 = \square$




$5 - 1 = \square$



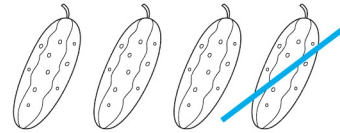
$3 + 1 = \square$



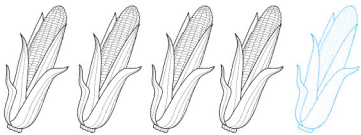
$2 - 1 = \square$



$1 + 1 = \square$



$4 - 1 = \square$

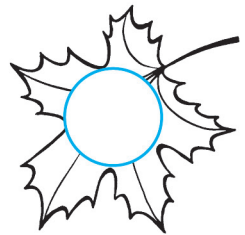

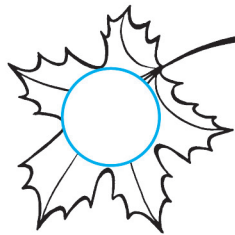
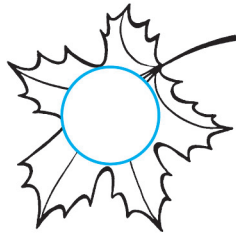



$4 + 1 = \square$



$3 - 1 = \square$

✿ Продолжи записывать номера листочков.
Реши примеры, используя рисунки-помощники.



$4 + 1 = \square$

$1 + 1 = \square$

$2 - 1 = \square$

$3 - 1 = \square$

$3 + 1 = \square$

$2 + 1 = \square$

$5 - 1 = \square$

$4 - 1 = \square$