

# КООРДИНАТЫ «МАЙНКРАФТ»

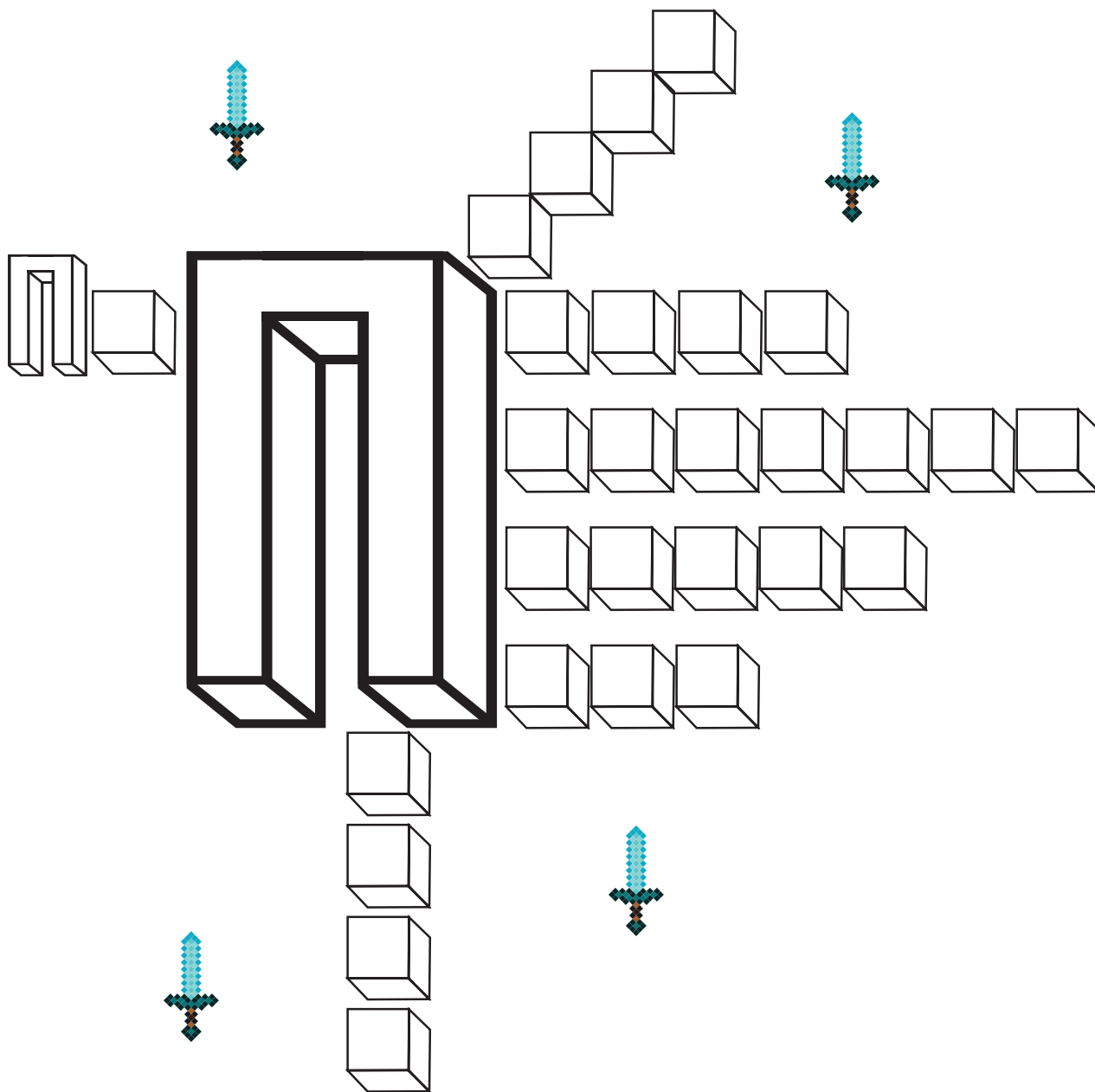
Закрась квадратики с этими координатами, чтобы увидеть, что изображено на картинке.

А:12, А:13, А:14, Б:10, Б:11, Б:12, Б:14, В:9, В:10, В:11,  
В:13, В:14, Г:10, Г:12, Г:13, Д:10, Д:11, Д:12, Д:13, Е:9,  
Е:10, Е:12, Ж:8, Ж:9, З:7, З:8, И:6, И:7, К:3, К:4, К:5,  
К:6, Л:2, Л:4, Л:5, М:1, М:3, М:5, Н:2, Н:4, О:3.

	1	2	3	4	5	6	7	8	9	10	11	12	13	14
А														
Б														
В														
Г														
Д														
Е														
Ж														
З														
И														
К														
Л														
М														
Н														
О														

## П — ЗНАЧИТ «МОБ»


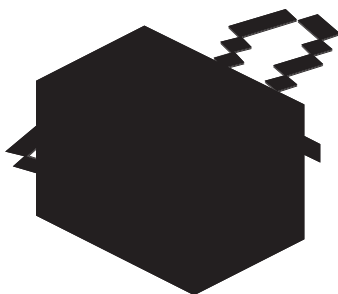
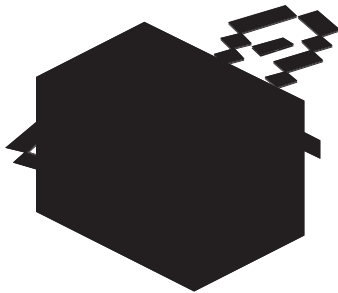



Заполни кубики буквами так, чтобы можно было прочесть названия мобов на букву П.



Подсказка: 4 из 6 мобов — животные.


## ЗЕРКАЛЬНАЯ МАГИЯ

Зеркало — настоящий магический предмет, но только если ты овладел зеркальной магией! Определи, какое из этих изображений является зеркальным отражением каждого моба в верхнем ряду.





# ПАСТБИЩЕ И КОРОВЫ

Раздели это пастбище двумя прямыми линиями на 4 части так, чтобы в каждой части находились корова, пшеница и ведро.



# НАРИСУЙ ПО ОБРАЗЦУ


Нарисуй Странника Края по образцу.



# ВНИМАНИЕ!

Во всех квадратах на этой странице, кроме одного, размещены одни и те же изображения. Определи, в каком из квадратов недостает одной картинке, и какой именно не хватает.


1




2



3



4



5

