



С. В. Пятак, И. М. Мальцева

МАТЕМАТИКА

ПРОВЕРЯЕМ ГОТОВНОСТЬ К ШКОЛЕ

для детей 6–7 лет



#эксмодетство

Москва
2022

Пятак, Светлана Викторовна.
P99 Математика. Проверяем готовность к школе : для детей
6–7 лет / С. В. Пятак, И. М. Мальцева. — Москва : Эксмо, 2022. —
32 с. : ил. — (Ломоносовская школа).

ISBN 978-5-04-166277-6

Предлагаемое пособие содержит тесты, соответствующие возрастным особенностям ребёнка и апробированные при проведении вступительных экзаменов в элитные школы и гимназии.

Купив книгу, родители смогут самостоятельно определить уровень интеллектуальной готовности ребёнка к обучению. Тестовые задания дети должны выполнять самостоятельно, в случае затруднения — вместе с родителями.

Пособие адресовано родителям, имеющим детей дошкольного возраста, и воспитателям; можно использовать как дома, так и в ДОУ для диагностики знаний ребёнка по разделу «Математика».

УДК 373.2:51
ББК 74.102

© Мальцева И.М., Пятак С.В., 2012

ISBN 978-5-04-166277-6 © Оформление. ООО «Издательство «Эксмо», 2022

Все права защищены. Книга или любая ее часть не может быть скопирована, воспроизведена в электронной или механической форме, в виде фотокопии, записи в память ЭВМ, репродукции или каким-либо иным способом, а также использована в любой информационной системе без получения разрешения от издателя. Копирование, воспроизведение и иное использование книги или ее части без согласия издателя является незаконным и влечет уголовную, административную и гражданскую ответственность.

Издание для развивающего обучения
Дамытушы оқыту әдістемесін басып шығару

Для старшего дошкольного возраста
мектепке дейінгі ересек балаларға арналған

ЛОМОНОСОВСКАЯ ШКОЛА

Пятак Светлана Викторовна
Мальцева Ирина Михайловна

МАТЕМАТИКА
ПРОВЕРЯЕМ ГОТОВНОСТЬ К ШКОЛЕ
для детей 6–7 лет
(орыс тілінде)

Ответственный редактор *В. Ермолаева*
Младший редактор *К. Циркунова*
Технический редактор *Л. Зотова*
Компьютерная верстка *Н. Билюкина*
Корректор *Н. Сгибнева*

Методист серии *С. В. Пятак*
Дизайн обложки *Е. Брынчик*
Иллюстрация на обложке *В. Тимофеевой*
Иллюстрации *М. Герасимова*

В оформлении обложки использованы иллюстрации:
©Tanya K, Teguh Mujiono, BNP Design Studio / Shutterstock.com.
Используется по лицензии от Shutterstock.com.

Соответствует техническому регламенту ТР ТС 007/2011
КО ТР 007/2011 техникалық регламентіне сәйкес келеді

Страна происхождения: Российская Федерация
Шығарылған елі: Ресей Федерациясы

ООО «Издательство «Эксмо»

123308, Россия, город Москва, улица Зорге, дом 1, строение 1, этаж 20, каб. 2013.
Тел.: 8 (495) 411-68-86.

Home page: www.eksmo.ru E-mail: info@eksmo.ru

Өндіруші: «ЭКСМО» АҚБ Баспасы,

123308, Ресей, қала Маскеу, Зорге көшесі, 1 үй, 1 ғимарат, 20 қабат, офис 2013 ж.

Тел.: 8 (495) 411-68-86.

Home page: www.eksmo.ru E-mail: info@eksmo.ru

Тауар белгісі: «Эксмо»

Интернет-магазин : www.book24.ru

Интернет-магазин : www.book24.kz

Интернет-дүкен : www.book24.kz

Импортер в Республику Казахстан ТОО «РДЦ-Алматы».

Қазақстан Республикасындағы импорттаушы «РДЦ-Алматы» ЖШС.

Дистрибутор и представитель по приему претензий на продукцию,

в Республике Казахстан: ТОО «РДЦ-Алматы»

Қазақстан Республикасында дистрибутор және өнім бойынша арыз-талаптарды

қабылдаушының өкілі «РДЦ-Алматы» ЖШС,

Алматы қ., Домбровский көш., 3-а, литер Б, офис 1.

Тел.: 8 (727) 251-59-90/91/92; E-mail: RDC-Almaty@eksmo.kz

Өнімнің жарамдылық мерзімі шектелмеген.

Сертификация туралы ақпарат сайтта: www.eksmo.ru/certification

Сведения о подтверждении соответствия издания согласно законодательству РФ

о техническом регулировании можно получить на сайте Издательства «Эксмо»

www.eksmo.ru/certification

Өндірген мемлекет: Ресей. Сертификация қарастырылған

Дата изготовления / Подписано в печать 19.07.2022.

Формат 84x108^{1/16}. Гарнитура «Pragmatica». Печать офсетная.

Бумага офсетная. Усл. печ. л. 3,36. Тираж экз. Заказ

book 24.ru

Официальный
интернет-магазин
издательской группы
«ЭКСМО-АСТ»

**ЧИТАЙ
ГОРОД**



ЕАС

6-

0+

Уважаемые родители!

Готовность ребёнка к обучению в школе — это не только социально-психическая зрелость, но и его базовые знания.

В данном пособии представлен один из основных образовательных разделов — «Математика». Все задания соответствуют требованиям программы по дошкольному обучению, многие из них предлагаются детям при поступлении в школы, гимназии, лицеи.

Упражнения в данной книге представляют собой тесты, которые ребёнок выполняет либо самостоятельно, либо вместе со взрослым. Результаты нужно фиксировать совместно с ребёнком. Таким образом, он будет нацелен на положительный итог.

Следите за тем, чтобы ребёнок пользовался простым карандашом. Его легко стереть в случае неверного ответа.

После выполнения дошкольником всех упражнений одного занятия можно перейти к оценке. Пусть малыш постарается самостоятельно сказать, как он справился с заданиями: «отлично», «хорошо», «возникли трудности». Выясните, почему он думает именно так. Приготовьте три карандаша — красный, зелёный и синий. Предложите ребёнку нарисовать внизу страницы крестик или кружок (красным — отлично, зелёным — хорошо, синим — возникли затруднения) в зависимости от того, как он оценил свою работу. Таким образом, когда ваш малыш выполнит все задания, вы сможете вместе с ним понять, что он знает хорошо, а где возникли затруднения.

Дети не всегда объективны, и если вы считаете по-другому — предложите малышу вернуться к оценке результата через день-два и непременно сдержите слово.

Запомните несколько правил, обязательных при тестировании:

1. Не старайтесь выполнить все тесты сразу, начните с одного.
2. Выбирайте правильное время: ребёнок должен быть в хорошем настроении и не занят своими делами.
3. Если некоторые задания сделаны неправильно — не ругайте ребёнка, ведь ошибку можно исправить.


Желаем успехов вам и вашему ребёнку!

ТЕСТ 1

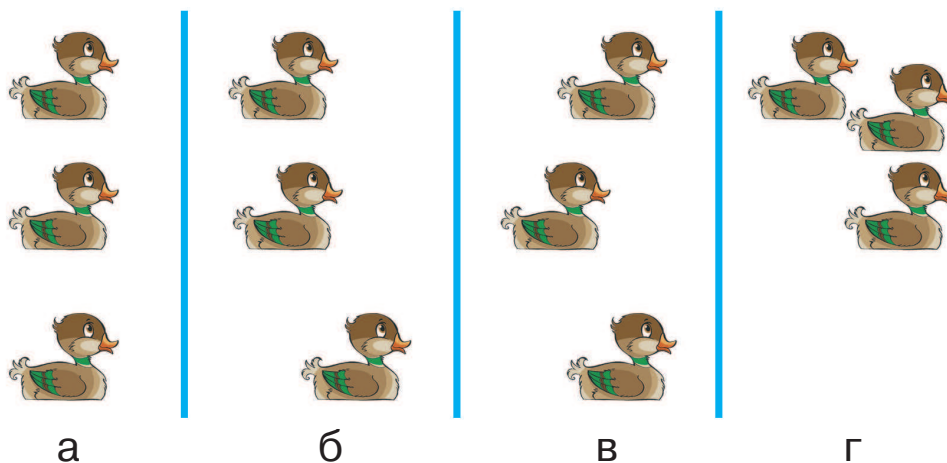


Пространство

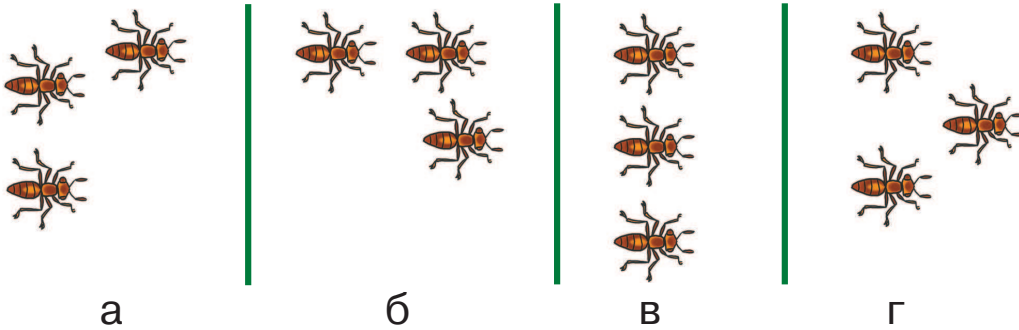
1 На каком рисунке птичка сидит ПЕРЕД клеткой? Обведи в кружок букву правильного ответа.



2 На каком рисунке только одна утка плавёт ВПЕРЕДИ всех? Обведи в кружок букву правильного ответа.



3 На каком рисунке один из муравьёв ползёт ПОЗАДИ других? Обведи в кружок букву правильного ответа.



4 На каком рисунке один из тюльпанов вырос ВЫШЕ других? Обведи в кружок букву правильного ответа.



5 На каком рисунке дракон летит НИЖЕ других? Обведи в кружок букву правильного ответа.

