

5-6  
лет

Считаем  
до 10



**УМНЫЕ СТУПЕНЬКИ**

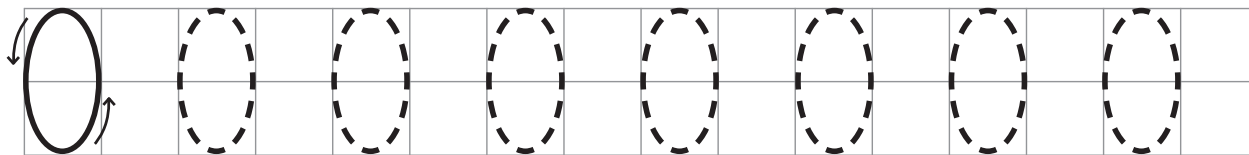


Всё, что нужно знать к школе

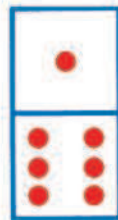
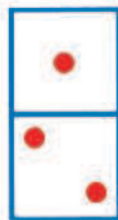
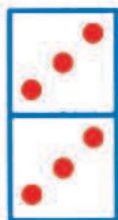
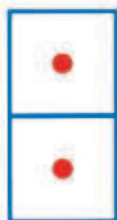
- Сколько колец на пирамидке?



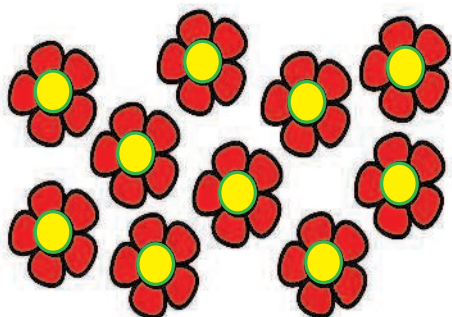
- Напиши цифры по точкам.



- Закрась карточку, на которой 0 точек.



- На что похожа серединка у цветка?



- Найди и раскрась цифру 0.

