

Для  
начальной  
школы


# ЗАРЯДКА ДЛЯ УМА

УЧЕНИЕ С УВЛЕЧЕНИЕМ

В. Г. Дмитриева  
**МАТЕМАТИЧЕСКИЕ  
ГОЛОВОЛОМКИ**  
закономерности,  
числовые ребусы,  
математические  
шифровки




1	2	3
Р	О	А
4	7	5



Издательство АСТ  
Москва  
2023

- Найди закономерность и заполни таблицу.



	10	20	30	40	50
10	20				
20		40			
30			60		
40				80	
50					100

- Найди закономерность и реши последний пример.

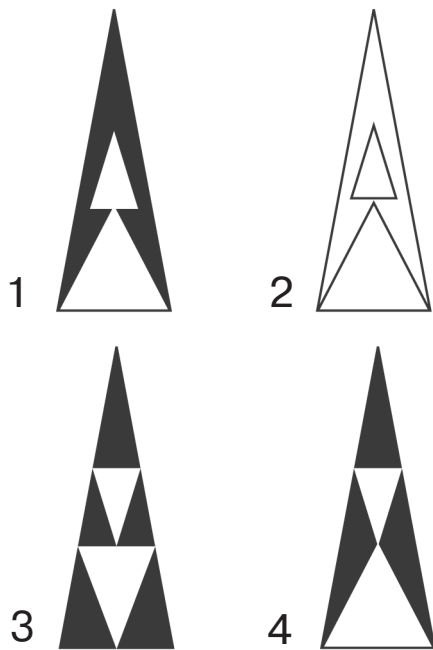

$$\text{瓢虫} + \text{瓢虫} + \text{瓢虫} = 18$$

$$\text{铃铛} + \text{瓢虫} + \text{瓢虫} = 17$$

$$\text{兔子} + \text{铃铛} + \text{兔子} = 23$$

$$\text{兔子} + \text{瓢虫} + \text{铃铛} =$$

- Какой детали рисунка не хватает?



- Дорисуй на каждой костяшке домино нужное количество точек.

