






А. На какой пальме больше всего листьев?
На какой их меньше всего?



Б. В море у острова обитают причудливые животные. Найди рыбу-единорога, рыбу-носорога, рыбу-улитку, рыбу-гитару и рыбу-верблюда.






В. Рассмотрите внимательно эту птичью стаю. Какая из птиц отличается от остальных и чем?



И Б Е

Г. Помогите нам вспомнить название нашей лодки. Пока буквы не утонули в море, расставьте их в нужном порядке!




Д. Посчитай, сколько здесь морских коньков.





А. Смотри, какие смешные птицы! Найди между ними 5 отличий.




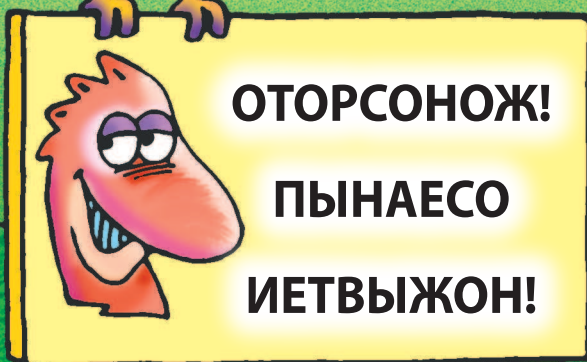



Б. Мой друг хочет собрать кокосовые орехи так, чтобы сумма чисел на них равнялась 20. Давай поможем ему это сделать!




В. Какой из этих рисунков можно начертить, не отрывая карандаша, не проводя по одной линии дважды и так, чтобы линии не пересекались?

Г. На этом знаке перепутались буквы. Расставь их в нужном порядке.




Д. На старт, внимание, марш! Эти друзья-букашки хотят встретиться. Помоги им найти верный путь.






А. Королева пчел спряталась в одной из белых сот. Угадай, где она, если известно, что королева не может занимать ни одну, ни соседнюю соту с другими пчелами.



	43	
99		72
	39	78
19	55	23
	46	36
67		61
	92	5
		80

Б. Дино попросил меня найти 2 числа, сумма которых равна 100. Можешь мне помочь?



В. Найди среди этих листочков точно такой же, как тот, что лежит на земле.

А

Б


В

Г

Д

Г. Обведи двух одинаковых динозавров.

Д. Кокодино, Корнидино и Пепидино несут обломки скалы весом 2000 граммов, 1,5 килограмма и 500 граммов. Сколько килограммов они несут все вместе?



А. Монавр выполняет опасный прыжок. Когда веревка натянется, сколько получится узлов?

Б. Помоги мне правильно расставить знаки «+» и «-», чтобы в итоге получилось число, помещенное в центре цветка.

В. Кажется, до нас здесь уже кто-то побывал. Если хорошенько приглядеться, можно увидеть забытые вещи: зубную щетку, галстук-бабочку, теннисный мячик, кольцо и стрелу.



А

Б

В

Г

Г. Как странно — одна из птиц отбрасывает тень на ветку. Отгадай, какая?

Д. Сколько треугольников ты можешь насчитать на этом камне?