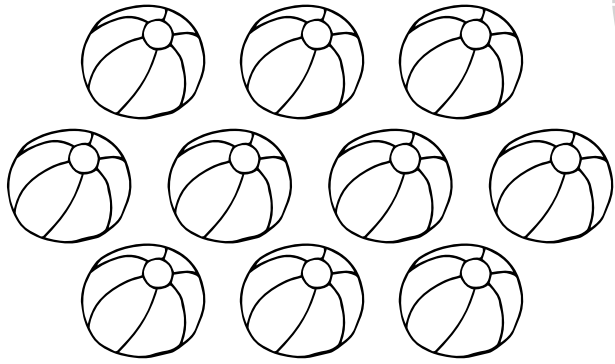


**ДЕСЯТЬ**



10	10	10	10	10	10
10	10	10	10	10	10
10	10	10	10	10	10
10	10	10	10	10	10
10	10	10	10	10	10
10	10	10	10	10	10

7  
0  
9  
1  
4  
2  
5  
8  
9  
3  
7  
5  
1  
4

5

9

3

2

6

4

1

7

3

9

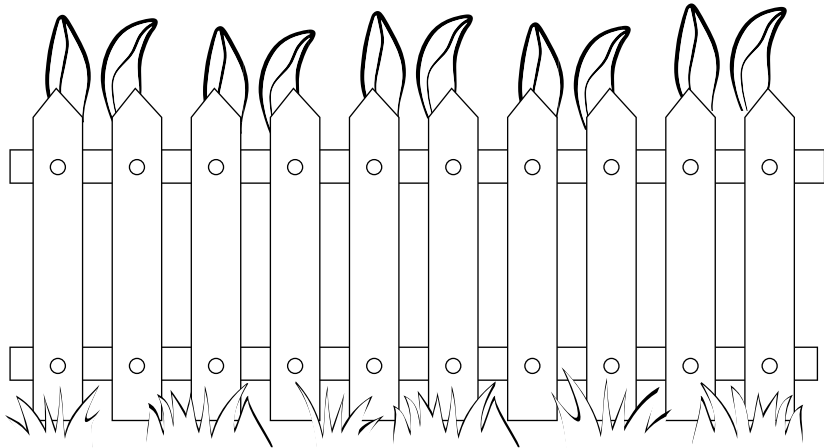
2

0

4

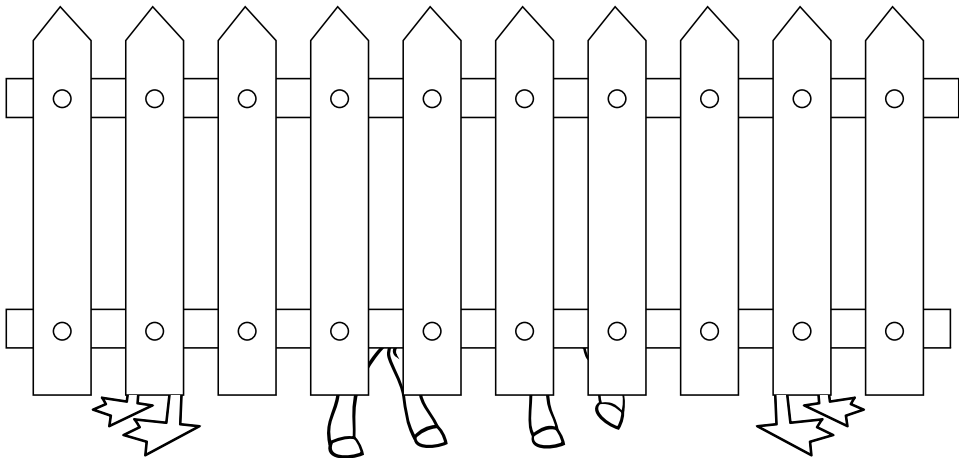
8

Сосчитай уши. Составь и запиши пример.  
Сколько зайцев за забором?





$$\square + \square + \square + \square + \square = \square$$

Сосчитай ноги и лапы. Составь и запиши  
пример. Сколько животных за забором?



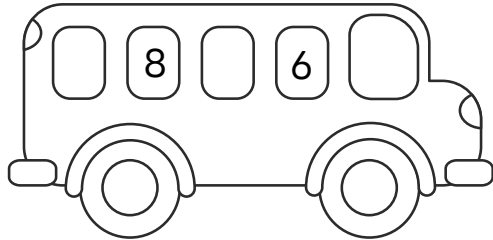
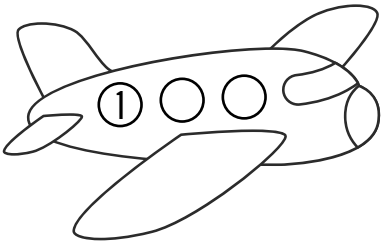


$$\square + \square + \square = \square$$

Сосчитай в прямом и обратном порядке.  
Впиши пропущенные числа.



Впиши соседние числа.



7  
0  
9  
1  
4  
2  
5  
8  
9  
3  
7  
5  
1  
4